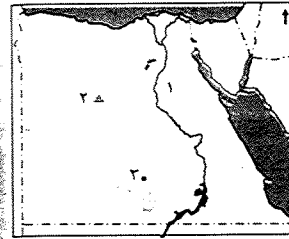


## محافظة القاهرة | إدارة الزاوية التعليمية



١ - أمامك خريطة صماء لمصر ، اكتب مدلول الأرقام :

- ١ - وادى .....  
٢ - منطقة لإنتاج الحديد .....  
٣ - مشروع .....

٢ - ضع دائرة حول الكلمة التى لا تنتمى إلى المجموعة :

- ١ - تعدين - استخراج البترول - منسوجات - استخراج الغاز الطبيعي .  
٢ - قارب - طائرة - سفينة - باخرة .  
٣ - رعوس أموال - مياه الشرب - مصادر الطاقة - وفرة الخامات .

٣ - اكتب ما تشير إليه العبارات الآتية :

- ١ - حدوث تغيرات لبعض الموارد الطبيعية فتصبح غير صالحة للاستخدام البشرى . ( ..... )  
٢ - زيادة إنتاجية الفدان باستخدام وسائل علمية فى الزراعة . ( ..... )  
٣ - اتصال الأفراد دون انتقال عبر الهاتف والإنترنت . ( ..... )

٤ - اختر الإجابة الصحيحة مما بين الأقواس :

- ١ - من مصادر الطاقة غير المتجددة ..... ( الفحم - المياه - الرياح - الشمس )  
٢ - مصر أول دولة عربية وأفريقية أقامت مترو الأنفاق ليربط بين مدن .....  
( الوجه البحرى - الوجه القبلى - الحدود - القاهرة الكبرى )  
٣ - يرجع توفير وسائل النقل البرى فى مصر إلى .....  
( كثرة الموانى - استواء معظم السطح - كثرة المطارات - ارتفاع الجبال )  
٤ - أكبر شريك تجارى لمصر .....  
( دول الاتحاد الأوروبى - الولايات المتحدة - آسيا - أمريكا الجنوبية )

٥ - ما النتائج المترتبة على ؟ :

- ١ - ندرة الأمطار بمصر .  
٢ - نقص إنتاج مصر من اللحوم وزيادة الاستهلاك .

٦ - صوب ما تحته خط :

- ١ - فصل مكونات البترول عن الزيت الأصيل يسمى تحويل البترول .  
٢ - انتقال السلع والخدمات بين الدول يسمى تجارة داخلية .  
٣ - لوجود الشعاب المرجانية تقل أهمية الموانى على البحر المتوسط .



١ - اكتب كلمة ( صح ) أمام العبارة الصحيحة وكلمة ( خطأ ) أمام العبارة غير الصحيحة فيما يلى :

- ١ - أنشأ البطالمة كثيرًا من المناحل لتصدير العسل للصين . ( )  
٢ - انتصرت كليوباترا السابعة وحليفها أنطونيوس فى معركة أكتيوم البحرية . ( )  
٣ - أقام الرومان المسارح للاحتفال بالأعياد الدينية وأعياد الإمبراطور . ( )  
٤ - كانت ثورة الرعاة فى الدلتا من أهم ثورات المصريين ضد الرومان . ( )

٢ - فسر ما يلى :

- ١ - رغبة بطلمىوس الأول فى الانفراد بحكم مصر .  
٢ - رحلة العائلة المقدسة لمصر .

٣ - صل من العمود ( أ ) بما يناسب من العمود ( ب ) :

أ	ب
١ - منارة الإسكندرية من الآثار	القبطية
٢ - معبد رأس السوداء من الآثار	البتلمية
٣ - دير المحرق من الآثار	الرومانية

٤ - من أكون ؟ :

- ١ - أعلى نصب تذكارى فى العالم . ( ..... )  
٢ - أقدم كنائس مصر بنيت على أنقاض جدران برجين كبيرين . ( ..... )

٥ - رتب الأحداث التاريخية من القديم إلى الحديث :

العصر الرومانى - عصر الإسكندر الأكبر - الفتح الإسلامى لمصر - دخول المسيحية مصر .

٦ - استعن بالكلمات الآتية ، وأكمل الجمل :

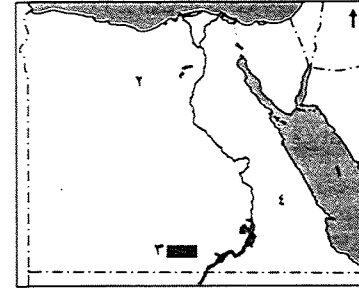
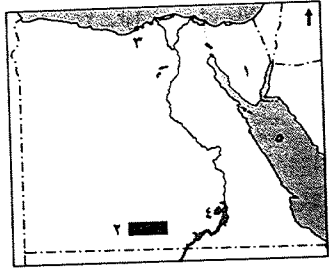
( أكتافىوس - دقلديانوس - عمرو بن العاص )

- ١ - فتح مصر وحررها من أيدي الرومان عام ٦٤١ م .....  
٢ - عرف عصره بعصر الاضطهاد الأكبر أو عصر الشهداء .....  
٣ - أصبح الإمبراطور بعد وفاة يوليوس قيصر .....



٣ محافظة القليوبية إدارة طوخ التعليمية

٢ محافظة الإسكندرية إدارة وسط التعليمية



١ أتمامك خريطة صماء لمصر ، اكتب مدلول الأرقام :

١ أتمامك خريطة صماء لمصر ، اكتب مدلول الأرقام :

- ١ - منطقة لإنتاج المنجنيز .....
- ٢ - مشروع .....
- ٣ - ميناء .....
- ٤ - بحيرة .....
- ٥ - البحر .....

- ١ - البحر .....
- ٢ - الواحات .....
- ٣ - مشروع .....
- ٤ - الصحراء .....

ب بم تفسر :

- ١ - عدم وجود غابات طبيعية في مصر ؟
- ٢ - يعتبر الحديد أساس الصناعة الحديثة ؟

٣ اكتب ما تشير إليه كل عبارة من العبارات الآتية :

٤ اختر الإجابة الصحيحة مما بين الأقواس :

- ١ - الموارد التي منحها الله للإنسان دون جهد من جانبه .
- ٢ - عملية يتم فيها فصل مكونات البترول عن الزيت الأصلي .
- ٣ - زيادة إنتاجية الفدان باستخدام الوسائل العلمية .
- ٤ - دار للعلم يدرس فيها الطالب العديد من التخصصات .

- ١ - من البحيرات العذبة في مصر بحيرة .....
- ٢ - البنزين والبولار من مشتقات .....
- ٣ - تروى أراضي شمال سيناء عن طريق ترعة .....
- ٤ - تعد مصر ثاني دولة في العالم إنشاءً للسكك الحديدية بعد .....

٤ ما هي أسباب سقوط دولة البطالمة ؟

- ١ - ( البردويل - ناصر - قارون - المنزلة )
- ٢ - ( الفحم - الغاز - البترول - المنجنيز )
- ٣ - ( الإبراهيمية - السلام - المحمودية - السوهاجية )
- ٤ - ( فرنسا - بريطانيا - أسبانيا - ألمانيا )

٤ اختر الإجابة الصحيحة مما بين الأقواس فيما يأتي :

- ١ - تنقسم ..... إلى مياه عذبة وأخرى مالحة . ( الأنهار - البحار - البحيرات - المحيطات )
- ٢ - يعد معدن ..... أساس الصناعة الحديثة في مصر .
- ٣ - الكوميسا اتحاد اقتصادي يضم دول شرق وجنوب قارة .....
- ٤ - عرف عصر الإمبراطور ..... بعصر الشهداء .

٤ اكتب كلمة ( صح ) أمام العبارة الصحيحة أو كلمة ( خطأ ) أمام العبارة غير الصحيحة فيما يلي :

- ١ - البطالمة هم خلفاء الإسكندر الأكبر في مصر .
- ٢ - يعد عمود السواري أعلى نصب تذكاري في العالم .
- ٣ - احترم الرومان المصريين وأشركوهم في حكم البلاد .
- ٤ - قامت العائلة المقدسة برحلتها إلى الشام في عهد هيرودوس .
- ٥ - انتشرت تعاليم القديس مرقس في مدينة الإسكندرية .

٤ أكمل العبارات الآتية بما يناسبها من كلمات :

٤ ما النتائج المترتبة على ؟ :

- ١ - تنقسم الطاقة إلى نوعين هما : طاقة ..... وطاقة .....
- ٢ - يقتصر وجود المراعي الطبيعية في مصر على شمال ..... والساحل ..... و .....

٤ اهتمام بطلميوس الأول بإنشاء الكثير من المناحل . ٢ - فتح عمرو بن العاص مصر سنة ٦٤١ م .

٤ أكمل العبارات الآتية بكلمات مناسبة :

٤ اكتب كلمة ( صح ) أمام العبارة الصحيحة وكلمة ( خطأ ) أمام العبارة غير الصحيحة فيما يأتي :

- ١ - تحالفت كليوباترا السابعة مع القائد الروماني .....
- ٢ - تعد معابد فيلة من أهم آثار العصر .....
- ٣ - ألغى قسطنطين العقوبات المفروضة على من يعتنق الديانة .....
- ٤ - ولد السيد المسيح  $\text{عليه السلام}$  ببيت لحم في .....
- ٥ - توجد الكنيسة المعلقة في محافظة .....

- ١ - الإسراف في استخدام المياه إهدار للموارد الطبيعية .
- ٢ - السد العالي حمى مصر من أخطار الفيضان والجفاف .
- ٣ - يستخدم الفحم والمنجنيز في صناعة الصلب .
- ٤ - صناعة الغزل والنسيج من الصناعات الإستراتيجية .
- ٥ - يعد النقل الجوي أرخص وسائل النقل .

٤ اكتب الشخصية التي تتحدث عن نفسها :

- ١ - صنف الآثار الآتية إلى ( قبطية - رومانية - بطلمية ) :
- ١ - منارة الإسكندرية . ٢ - دير المحرق .
- ٢ - عمود السواري .

- ١ - أنا القائد المنتصر في معركة أكتيوم .
- ٢ - عرف عصرى بعصر الاضطهاد الأكبر أو عصر الشهداء .

1 اكتب كلمة ( صح ) أمام العبارة الصحيحة وكلمة ( خطأ ) أمام العبارة غير الصحيحة فيما يلي :

- 1 - يدخل المنجنيز في صناعة بعض أنواع العلاج . ( )
- 2 - تعتبر محطة كهرباء خزان أسوان من محطات الكهرباء المائية . ( )
- 3 - تحالفت كليبواترا السابعة مع القائد الروماني أنطونيوس . ( )
- 4 - يعد حصن بابليون من أهم الآثار البطلمية في مصر . ( )

ب ما المقصود بكل من ؟ :

- 1 - الموارد الطبيعية .
- 2 - الفيضان .
- 3 - الصناعة .

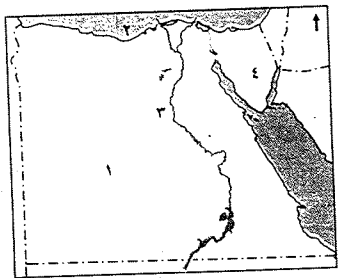
1 اختر الإجابة الصحيحة مما بين الأقواس فيما يلي :

- 1 - يدخل الفوسفات في صناعة ..... ( السيارات - الصلب - الأسمدة - الأثاث )
- 2 - إنتاج مصر من الأسماك يأتي من ..... ( الاستزراع السمكي - المياه المالحة - المياه العذبة - كل ما سبق )
- 3 - أرخص أنواع النقل هو النقل ..... ( البرى - المائى - الجوى - الاتصالات )
- 4 - ولد السيد المسيح عليه السلام في بيت لحم في ..... ( مصر - فلسطين - روما - ليبيا )

ب قارن بين كل من : التجارة الداخلية والخارجية من حيث التعريف :

التجارة الداخلية	التجارة الخارجية
.....	.....

5 محافظة المنوفية إدارة شبين الكوم التعليمية



1 أمامك خريطة صماء لمصر ، اكتب مدلول الأرقام :

- 1 - الصحراء
- 2 - البحر
- 3 - نهر
- 4 - منطقة لاستخراج المنجنيز

ب بم تفسر ؟ :

- 1 - صعوبة الصيد من البحر الأحمر .
- 2 - رغبة بطلميوس الأول في الانفراد بحكم مصر .

1 أكمل العبارات الآتية بكلمات مناسبة :

- 1 - من أمثلة الطاقة المتجددة .....
- 2 - أصدر قسطنطين الأول عام ٣١٣ م مرسوم .....
- 3 - أهم مراكز صناعة الأثاث في مصر .....
- 4 - ينقسم النقل البرى إلى ..... والطرق .

ح إلس من تنسب الأعمال الآتية ؟ :

- 1 - مؤسس دولة البطالمة في مصر . ( )
- 2 - أول من بشر بالإنجيل في مصر . ( )

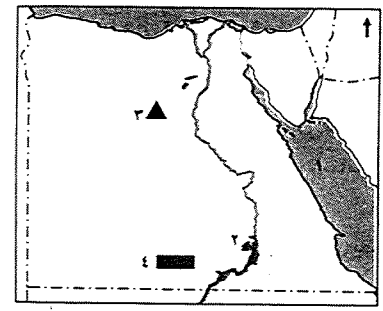
1 صوب ما تحته خط فى العبارات الآتية :

- 1 - يستخدم المنجنيز فى صناعة الأسمدة الزراعية .
- 2 - يربط مترو الأنفاق بين مدن القناة .
- 3 - أصدر الإمبراطور أكتافيوس مرسوم ميلان عام ٣١٣ م .
- 4 - ولد السيد المسيح عليه السلام فى القدس .

ب ما النتائج المترتبة على ؟ :

- 1 - امتداد نهر النيل من الجنوب إلى الشمال .
  - 2 - إنشاء ميناء دمياط .
  - 3 - الفتح العربى لمصر .
- ح ماذا يحدث إذا : قام الإنسان بإلقاء المخلفات فى نهر النيل ؟

محافظة الجيزة إدارة ٦ أكتوبر التعليمية



1 أمامك خريطة صماء لمصر ، اكتب مدلول الأرقام :

- 1 - البحر
- 2 - بحيرة
- 3 - منطقة لإنتاج الحديد
- 4 - مشروع

ب بم تفسر ؟ :

- 1 - قلة الأهمية الاقتصادية للفحم عن البترول .
- 2 - يعد عصر قسطنطين الأول نقطة تحول فى تاريخ المسيحية .

1 أكمل العبارات الآتية بكلمات مناسبة :

- 1 - تعتبر بحيرة ناصر من مصادر المياه .....
- 2 - العصر البطلمى هو عصر خلفاء .....
- 3 - قام المصريون بثورة الرعاة فى الدلتا ضد .....
- 4 - دخلت المسيحية مصر على يد .....

ب اكتب ما تشير إليه العبارات الآتية :

- 1 - عملية فصل مكونات البترول عن الزيت الأسمى . ( )
- 2 - زيادة الإنتاج الزراعى عن طريق التوسع الأفقى والرأسى . ( )
- 3 - اتحاد اقتصادى يضم دول شرق وجنوب أفريقيا ومنها مصر . ( )
- 4 - دار للعلم يدرس فيها الطالب العديد من التخصصات العلمية والأدبية . ( )



ب اكتب ما تشير إليه العبارات الآتية :

- ١ - انتقال السلع والخدمات داخل حدود الدولة.
- ٢ - حدوث بعض التغيرات لبعض الموارد الطبيعية فتصبح غير صالحة للاستخدام .
- ٣ - دار للعلم يدرس فيها الطالب العديد من التخصصات العلمية والأدبية .

١ اكتب كلمة ( صح ) أمام العبارة الصحيحة وكلمة ( خطأ ) أمام العبارة غير الصحيحة :

- ١ - أطلق على عصر دقلديانوس عصر الشهداء .
- ٢ - صناعة الحديد والصلب من الصناعات الاستخراجية .
- ٣ - دير الأنبا بيشوى من أشهر أديرة وادى النطرون .
- ٤ - يمكن تكرير الغاز الطبيعي إلى عدة مشتقات .

ب ما النتائج المترتبة على ؟

- ١ - يوجد الفوسفات بكميات كبيرة في مصر .
- ٢ - هزيمة أنطونيوس وكليوباترا في معركة أكتيوم البحرية .

١ اختر الإجابة الصحيحة مما بين القوسين :

- ١ - ولد السيد المسيح  $\text{عليه السلام}$  في بيت لحم في ( سوريا - العراق - فلسطين - مصر )
- ٢ - تروى أراضي شمال سيناء عن طريق ترعة ( المحمودية - الإسماعيلية - المنصورية - السلام )
- ٣ - قامت ثورة الرعاة ضد الحكم الروماني في ( الإسكندرية - الدلتا - سيناء - الصعيد )

ب إلى من تنسب الأعمال الآتية ؟

- ١ - أول من بشر بالإنجيل في مصر .
- ٢ - استطاع تحرير مصر من أيدي الرومان عام ٦٤١ م .

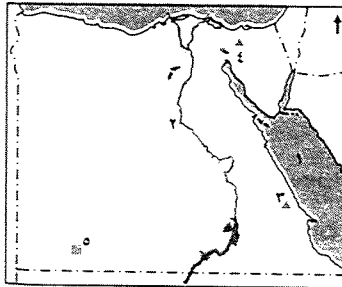
### ٦ محافظة الشرقية إدارة منيا القمح التعليمية

١ أمامك خريطة صماء لمصر ، اكتب مدلول الأرقام :

- ١ - البحر .....
- ٢ - نهر .....
- ٣ - منطقة لاستخراج الذهب .....
- ٤ - منطقة لاستخراج الفحم .....
- ٥ - مشروع .....

ب اكتب المصطلح الجغرافى :

- ١ - زيادة الإنتاج الزراعى عن طريق التوسع الأفقى والرأسى .
- ٢ - تحويل المواد الخام إلى منتجات لسد احتياجات السكان .
- ٣ - اتحاد اقتصادى يضم دول جنوب وشرق أفريقيا .



٤ - عملية فصل مكونات البترول عن الزيت الأسمى .

٥ - ندرة المطر مما يضر بالأنشطة البشرية وخاصة الزراعة .

( ..... )  
( ..... )

١ بم تفسر ؟ ١ - صعوبة الصيد من البحر الأحمر . ٢ - إنشاء ميناء دمياط .

ب اكتب كلمة ( صح ) أمام العبارة الصحيحة وكلمة ( خطأ ) أمام العبارة غير الصحيحة :

- ١ - البحران الأحمر والمتوسط من مصادر المياه العذبة .
- ٢ - تتوافر بمصر مصادر الطاقة اللازمة للصناعة .
- ٣ - يستخدم الفوسفات في صناعة الحلى .
- ٤ - نهر النيل هو المصدر الوحيد للثروة السمكية في مصر .
- ٥ - يعد النقل المائى أرخص وسائل النقل .

( ..... )  
( ..... )  
( ..... )  
( ..... )  
( ..... )

ب ما النتائج المترتبة على ؟

- ١ - سقوط الأمطار على السواحل الشمالية لمصر .
- ٢ - بناء مصر للسد العالى فى أسوان .

بم تفسر ؟

١ - رغبة بطلميوس الأول فى الانفراد بحكم مصر .

٢ - تسمية أقدم الكنائس المصرية بالكنيسة المعلقة .

ب لمن تنسب الأعمال الآتية ؟

- ١ - احترام عقائد المصريين وقدم القرابين للآلهة المصرية .
- ٢ - سك أول عملة معدنية فى مصر .

( ..... )  
( ..... )

١ ( بدأ السيد المسيح رسالة النبوة على أرض فلسطين ) فى ضوء العبارة أكمل :

- ١ - ولد السيد المسيح  $\text{عليه السلام}$  فى مدينة ..... بفلسطين .
- ٢ - دخلت المسيحية مصر فى منتصف القرن ..... الميلادى .
- ٣ - ألغيت العقوبات المفروضة على المسيحية بموجب مرسوم .....
- ٤ - تعرضت العائلة المقدسة للاضطهاد زمن الإمبراطور .....
- ٥ - أطلق على عصر دقلديانوس عصر .....

ب اكتب كلمة ( صح ) أمام العبارة الصحيحة وكلمة ( خطأ ) أمام العبارة غير الصحيحة فيما يلى :

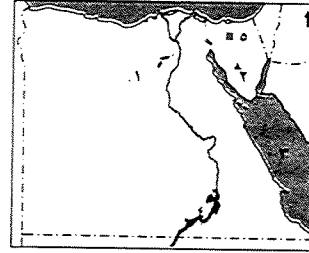
- ١ - يوجد معبد رأس السوداء فى مدينة الإسكندرية .
- ٢ - زاد تدخل الرومان فى شئون مصر فى عهد كليوباترا السابعة .

( ..... )  
( ..... )



## ٧ محافظة الغربية | إدارة ميت غمر التعليمية

أمامك خريطة صماء لمصر ، اكتب مدلول الأرقام :



- ١ - الواحات .....
- ٢ - منطقة لاستخراج المنجنيز .....
- ٣ - البحر .....
- ٤ - بحيرة .....
- ٥ - منطقة لاستخراج الفحم .....

عرف المفاهيم الآتية : ١ - الموارد الطبيعية . ٢ - الجامعة .

اكتب كلمة ( صح ) أمام العبارة الصحيحة وكلمة ( خطأ ) أمام العبارة غير الصحيحة :

- ١ - يأتي خليج السويس في المركز الأول في إنتاج البترول . ( )
- ٢ - أقام الإمبراطور أكتافوس منارة الإسكندرية . ( )
- ٣ - يستخرج الذهب من مناجم السكرى بالصحراء الغربية . ( )
- ٤ - يأتي محصول القطن في المركز الأول بين الصادرات المصرية . ( )
- ٥ - استخراج البترول من الصناعات الاستخراجية . ( )

ماذا كان يحدث إذا ؟ :

- ١ - انتصر أنطونيوس وكليوباترا على أكتافوس في معركة أكتيوم البحرية .
- ٢ - لم تتم عملية تكرير البترول الخام .

اختر الإجابة الصحيحة مما بين الأقواس فيما يلي :

- ١ - من الصناعات التحويلية .....  
( الغزل والنسيج - استخراج البترول - الغاز الطبيعي - الفحم )
- ٢ - بنى الإمبراطور بطلميوس الأول .....  
( عمود السواري - جامعة الإسكندرية - المسرح الروماني - الكنيسة المعلقة )
- ٣ - من أهم الآثار الرومانية في مصر .....  
( دير المحرق - الكنيسة المعلقة - عمود السواري - دير الأنبا بيشوى )
- ٤ - ولد السيد المسيح ﷺ في مدينة .....  
( بيت لحم - الناصرة - القدس - أسيوط )
- ٥ - أكثر المناطق إنتاجاً للأسماك في مصر .....  
( نهر النيل - بحيرة ناصر - المزارع السمكية - البحر المتوسط )

بم تفسر ؟ :

- ١ - قلة إنتاج الأسماك في مصر .
- ٢ - أهمية الصناعة لسكان مصر .

ما النتائج المترتبة على ؟ :

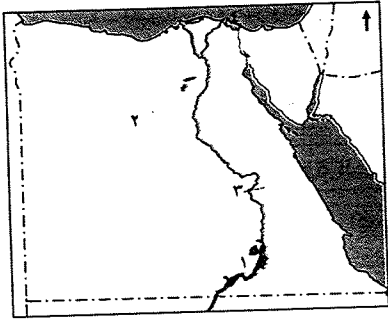
- ١ - وجود الأرض الخصبة ومياه النيل في مصر . ٢ - اضطهاد الإمبراطور دقلديانوس للديانة المسيحية .
- ٣ - قلة المراعى الطبيعية في مصر . ٤ - استواء سطح مصر في الوادي والدلتا .

إلى من تنسب الأعمال الآتية ؟ :

- ١ - نشر المسيحية في مصر . ( )
  - ٢ - أصدر مرسوم ميلان ٣١٢ م . ( )
- اذكر رأيك في تلوث المياه في البحار ونهر النيل في مصر .

## ٨ محافظة البحيرة | إدارة الدلتا التعليمية

أمامك خريطة صماء لمصر ، اكتب مدلول الأرقام التالية :



- ١ - بحيرة .....
- ٢ - منطقة لاستخراج الحديد .....
- ٣ - قناطر .....
- ٤ - أهم مراكز صناعة الأثاث .....

بم تفسر ؟ :

- ١ - يمارس الإنسان العديد من الأنشطة الاقتصادية .
- ٢ - أهمية المياه العذبة في مصر .
- ٣ - انخفاض الأهمية الاقتصادية للفحم عن البترول .
- ٤ - إنشاء ميناء دمياط .

اختر الإجابة الصحيحة مما بين الأقواس فيما يلي :

- ١ - يصنع سماد سويز فوسفات في مصنع ..... ( أبو زعبل - أم بجمه - أبو طرطور - حلوان )
- ٢ - توجد محطة توليد الكهرباء من الرياح في منطقة .....  
( شبرا الخيمة - الزعفرانة - شمال القاهرة - كل ما سبق )
- ٣ - كل البحيرات في مصر طبيعية ماعدا ..... ( إككو - المنزلة - ناصر - البرلس )
- ٤ - تعد مصر ثاني دولة في العالم إنشاءً للسكك الحديدية بعد .....  
( فرنسا - بريطانيا - ألمانيا - روسيا )

ما النتائج المترتبة على ؟ :

- ١ - وجود كميات كبيرة من الفوسفات في مصر . ٢ - تكرير البترول .
- ٣ - كثرة الشعاب المرجانية بالبحر الأحمر . ٤ - وجود السدود على طول مجرى نهر النيل .

اكتب كلمة ( صح ) أمام العبارة الصحيحة وكلمة ( خطأ ) أمام العبارة غير الصحيحة :

- ١ - يعتمد مشروع توشكى على المياه الجوفية في الزراعة . ( )
- ٢ - المصدر الرئيس للرى في مصر هو الأمطار . ( )





حـ بم تفسر ؟ : ( يكتفى بسبب واحد )

- ١ - قيام الزراعة في الساحل الشمالي لمصر .
- ٢ - اهتمام الدولة بتمية الثروة السمكية .
- ٣ - البحر المتوسط أكثر بحار العالم تلوًا .

١ اكتب كلمة ( صح ) أمام العبارة الصحيحة وكلمة ( خطأ ) أمام العبارة غير الصحيحة فيما يلي :

- ١ - تسهم الصناعة في حل مشكلة البطالة في مصر . ( )
- ٢ - يستخرج ملح الطعام من نهر النيل . ( )
- ٣ - صناعة الحديد والصلب من الصناعات الاستخراجية . ( )

ب رتب الأحداث التاريخية من القديم إلى الحديث :

- ١ - ميلاد سيدنا عيسى عليه السلام - العصر البطلمي - وفاة الإسكندر الأكبر - مرسوم ميلان .

حـ ما النتائج المترتبة على ؟ : ( يكتفى بواحدة )

- ١ - امتداد نهر النيل من الجنوب إلى الشمال .
- ٢ - زيادة الصادرات المصرية .
- ٣ - التوسع في استخدام الطاقة المتجددة .

١ صوب ما تحته خط :

- ١ - ولد السيد المسيح عليه السلام في عهد الإمبراطور الروماني قسطنطين في بيت لحم بفلسطين .
- ٢ - دخلت المسيحية مصر في منتصف القرن الثالث الميلادي .
- ٣ - تحالفت كليوباترا مع القائد الروماني أكتافيوس .

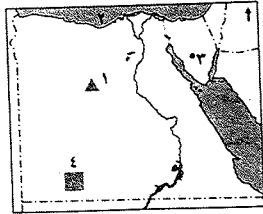
ب من أكون ؟ :

- ١ - أسست دولة البطالمة في مصر واتخذت مدينة الإسكندرية عاصمة لى .
- ٢ - حكى كان نقطة تحول في تاريخ المسيحية في مصر حيث أصدرت مرسوم ميلان ٣١٣ م .

حـ ما رأيك في كل مما يأتي ؟ :

- ١ - كثرة ثورات المصريين ضد الرومان .
- ٢ - تسمية عصر دقلديانوس بعصر الاضطهاد الأكبر .

### ١٠ محافظة كفر الشيخ إدارة بيلا التعليمية



١ من الخريطة الصماء التالية اكتب مدلول الأرقام الموضحة عليها :

- ١ - منطقة لإنتاج الحديد ..... ٢ - البحر .....
- ٣ - منطقة لإنتاج المنجنيز .....
- ٤ - أحد مشروعات التمية الزراعية .....

ب اكتب المصطلح العلمى الذى تدل عليه كل عبارة فيما يلي :

- ١ - زيادة منسوب المياه عن مستوى ضفتى النهر في موسم معين .
- ٢ - يستخدم في صناعة الأسمدة الزراعية والمبيدات الحشرية .
- ٣ - انتقال السلع والخدمات بين الدولة ودول العالم المختلفة .
- ٤ - عملية يتم فيها فصل مكونات البترول .

- ٣ - سوء استخدام الموارد يعرضها للتلوث .
- ٤ - يعد النقل الجوى أرخص أنواع النقل .

ب (تعتبر الولايات المتحدة الأمريكية أكبر شريك تجارى لمصر بعد الاتحاد الأوروبى ) فى ضوء هذه العبارة وض :

- ١ - الفرق بين الصناعة الاستخراجية والصناعة التحويلية .
- ٢ - المقصود بالاتصالات .
- ٣ - جهود الدولة فى تنمية التجارة .

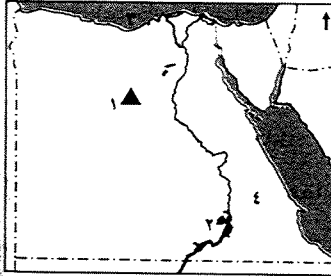
١ صوب ما تحته خط :

- ١ - تم سك أول عملة معدنية فى عهد أكتافيوس .
- ٢ - أعلى نصب تذكارى فى العالم هو معبد رأس السوداء .
- ٣ - دخلت المسيحية مصر على يد القديس باخوم .
- ٤ - أكبر أديرة مصر والشرق الأوسط هو دير الأنبا بيشوى .

ب ما المقصود بالجامعة ؟

- ١ - سقوط دولة البطالمة فى مصر .
- ٢ - اهتمام الرومان بإقامة المسارح .

### ٩ محافظة الدقهلية إدارة أجا التعليمية



١ أمامك خريطة صماء لمصر ، اكتب مدلول الأرقام :

- ١ - منطقة لاستخراج الحديد .....
- ٢ - بحيرة .....
- ٣ - البحر .....
- ٤ - الصحراء .....

ب أكمل العبارات الآتية :

- ١ - من أهداف التمية الزراعية زيادة .....
- ٢ - تتركز صناعة الأثاث فى مصر بمدينتى ..... و .....
- ٣ - يوجد الحديد فى عدة مناطق بمصر منها .....

حـ ما المقصود بكل المفاهيم التالية ؟ : ١ - تكرير البترول .

ماذا يحدث إذا : تجمدت البحار فى مصر ؟

١ اختر الإجابة الصحيحة مما بين القوسين :

- ١ - يوجد الفحم فى مصر فى منطقة..... ( أم بجمة - سفاجا - أبو طرطور - المغارة )
- ٢ - من مصادر الطاقة غير المتجددة فى مصر .....
- ( الشمس - البترول - الرياح - المساقط المائية )
- ٢ - من المقومات البشرية لقيام الصناعة .....
- ( مصادر الطاقة - رأس المال - المواد الخام - المناخ )

ب ضع خطاً تحت الكلمة التى لا تنتمى إلى المجموعة مع التفسير :  
( طائفة - باخرة - سفينة - قارب )

اختر الإجابة الصحيحة مما بين الأقواس فيما يلي :

- ١ - يرجع توفر وسائل النقل البري في مصر إلى .....  
( كثرة الموانئ - استواء معظم السطح - كثرة المطارات - ارتفاع الجبال )
- ٢ - يربط مترو الأنفاق بين مدن .....  
( الوجه البحري - القناة - الحدود - القاهرة الكبرى )
- ٣ - يعد حقل أبو ماضي أهم حقول إنتاج .....  
( الحديد - المنجنيز - الغاز - الفوسفات )
- ٤ - الكوميسا اتحاد اقتصادي يضم دول شرق وجنوب .....  
( آسيا - إفريقيا - أمريكا - أوروبا )

ب بم تفسر ؟ ( يكتفى بسبب واحد )

- ١ - الإنتاج السمكي في مصر لا يكفي السكان .
- ٢ - أهمية المياه العذبة .

اكتب كلمة ( صح ) أمام العبارة الصحيحة وكلمة ( خطأ ) أمام العبارة غير الصحيحة فيما يلي :

- ١ - تعرض السيد المسيح ﷺ للاضطهاد من اليهود والرومان . ( )
- ٢ - تعتبر ثورة الرعاة في الدلتا أهم ثورات المصريين ضد الرومان . ( )
- ٣ - انتصر أنطونيوس على أكتافيوس في معركة أكتيوم البحرية ٣١ ق.م . ( )
- ٤ - يعد حصن بابليون من أهم الآثار البطلمية في مصر . ( )

ب بم تفسر ؟

- ١ - تسمية الكنيسة المعلقة بهذا الاسم .
- ٢ - رغبة بطليموس الأول في الانفراد بحكم مصر .

ا صوب ما تحته خط في العبارات التالية:

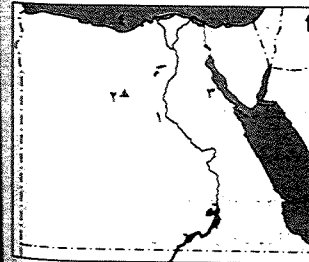
- ١ - يعد عمود السوارى بالإسكندرية من الآثار الفرعونية .
- ٢ - دخلت المسيحية مصر على يد القديس بولس .
- ٣ - العصر الروماني هو عصر خلفاء الإسكندر الأكبر في مصر .

ب ما اسم الشخصية التي تتحدث عن نفسها ؟

- ١ - ولدت في مدينة بيت لحم بفلسطين وكنت أدعو للمسيحية . ( )
- ٢ - أصدرت مرسوم ميلان ٣١٣ م . ( )

محافظة دمياط إدارة دمياط التعليمية

أمامك خريطة صماء لمصر ، اكتب ما تشير إليه الأرقام :



- ١ - مصدر مائي عذب .....
- ٢ - منطقة لاستخراج الحديد .....
- ٣ - خليج .....
- ٤ - البحر .....

ب اكتب سبباً واحداً :

- ١ - الفحم أقل أهمية اقتصادية كمصدر طاقة من البترول والغاز الطبيعي .
- ٢ - إنشاء ميناء دمياط .

٢ - قلة أهمية الموانئ على البحر الأحمر . ٤ - تسمية الكنيسة المعلقة بهذا الاسم .

اكمل العبارات الآتية بكلمات مناسبة :

- ١ - يستخدم ..... في صناعة الصلب ويستورد من الخارج .
- ٢ - يتم ري أراضي شمال سيناء عن طريق ترعة .....
- ٣ - يهدف مشروع ..... إلى استصلاح مليون ونصف فدان بالصحراء الغربية .
- ٤ - أصبحت مصر ولاية رومانية بعد هزيمة الملكة كليوباترا في معركة .....

ب اكتب ما تشير إليه العبارات الآتية :

- ١ - حدوث تغيرات لبعض الموارد الطبيعية فتصبح غير صالحة للاستخدام البشري . ( )
- ٢ - ندرة المطر مما يضر بالأنشطة البشرية خاصة الزراعة والرعي . ( )
- ٣ - دار للعلم يدرس فيها الطالب العديد من التخصصات العلمية والأدبية . ( )
- ٤ - هو دير السيدة العذراء ويعد من أكبر أديرة مصر والشرق الأوسط . ( )

اختر الإجابة الصحيحة مما بين الأقواس فيما يلي :

- ١ - مناطق الرعي الطبيعي في مصر .....  
( جنوب سيناء - شمال سيناء - الصحراء الشرقية - الدلتا )
- ٢ - المحصول الذي يحتل المركز الثاني في الصادرات المصرية .....  
( البرتقال - الأرز - البطاطس - القطن الخام )
- ٣ - أكثر بحار العالم تلوثاً بسبب كثرة المدن التي تصرف مخلفاتها به .....  
( البحر الأحمر - البحر الأسود - البحر المتوسط - الصين )
- ٤ - ولد السيد المسيح ﷺ في مدينة .....  
( بيت لحم - الناصرة - عكا - يافا )

ب اكتب نتيجة واحدة :

- ١ - امتداد نهر النيل من الجنوب إلى الشمال . ٢ - إقامة السدود والقناطر على طول نهر النيل .
- ٣ - ضعف الملوك بعد بطليموس الثالث .

اكتب كلمة ( صح ) أمام العبارة الصحيحة وكلمة ( خطأ ) أمام العبارة غير الصحيحة :

- ١ - تعد قناة السويس الجديدة تقريرة موازية للقناة القديمة . ( )
- ٢ - حرم الرومان المصريين من الاشتراك في حكم بلادهم . ( )
- ٣ - من أشهر ثورات المصريين ضد الرومان ثورة الرعاة في الوادي . ( )
- ٤ - قام خالد بن الوليد بفتح مصر وإنهاء الحكم الروماني بها . ( )

ب لمن تنسب الأعمال الآتية ؟

- ١ - تطورت الصناعة على يديه وأسس بنك مصر عام ١٩٢٠ م . ( )
- ٢ - أصدر مرسوم ميلان ٣١٣ م . ( )
- ٣ - أصبح إمبراطوراً على مصر بعد وفاة يوليوس قيصر . ( )

اختر الإجابة الصحيحة مما بين الأقواس فيما يلي :

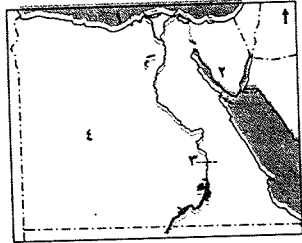
- ١ - ولد السيد المسيح عليه السلام في بيت لحم بدولة ..... ( سوريا - العراق - فلسطين - مصر )
- ٢ - يرجع توافر وسائل النقل البرى في مصر إلى .....  
( كثرة الموانى - استواء معظم السطح - كثرة المطارات - ارتفاع الجبال )
- ٣ - استشهد القديس مرقس على يد ..... ( البطالمة - الرومان - اليهود - الفرس )
- ٤ - الكوميسا اتحاد اقتصادى يضم دول .....  
( أوروبا - شرق وجنوب إفريقيا - أمريكا - آسيا )
- ٥ - يقتصر وجود الأمطار الشتوية في مصر على الساحل .....  
( الشرقى - الشمالى - الغربى - الجنوبى )

ب ما النتائج المترتبة على ؟ :

- ١ - وجود فوسفات بكميات كبيرة في مصر .
- ٢ - زيادة الصادرات المصرية .

### ١٣ محافظة بورسعيد | إدارة بوسعيد التعليمية

أمامك خريطة صماء لمصر ، اكتب مدلول الأرقام :



- ١ - البحر .....
- ٢ - منطقة لاستخراج المنجنيز .....
- ٣ - قناطر .....
- ٤ - مشروع .....

ب اكتب ما تشير إليه العبارات الآتية :

- ١ - حدوث تغيرات لبعض الموارد الطبيعية فتصبح غير صالحة للاستخدام البشرى . ( )
- ٢ - مواد صلبة تستخرج من باطن الأرض قد تكون قريبة أو بعيدة عن سطح الأرض . ( )
- ٣ - زيادة إنتاجية الفدان باستخدام الوسائل العلمية في الزراعة . ( )
- ٤ - تحويل المواد الخام إلى منتجات لسد احتياجات السكان . ( )

ج اكتب كلمة ( صح ) أمام العبارة الصحيحة وكلمة ( خطأ ) أمام العبارة غير الصحيحة فيما يلي :

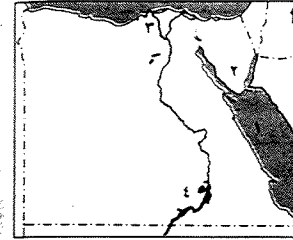
- ١ - من مصادر الطاقة غير المتجددة البترول . ( )
- ٢ - يستخرج الغاز الطبيعى من حقل أبو ماضى شرق الدلتا . ( )
- ٣ - يحتل البرتقال المركز الأول من الصادرات الزراعية المصرية . ( )
- ٤ - تعد مصر أول دولة في العالم في إنشاء السكك الحديدية . ( )
- ٥ - يتميز النقل المائى بالسرعة والانتشار . ( )

د بم تفسر ؟ :

- ١ - ندرة الغابات الطبيعية في مصر .
- ٢ - أهمية ميناء الإسكندرية .

### ١٢ محافظة السويس | إدارة شمال التعليمية

أ أمامك خريطة صماء لمصر ، اكتب مدلول الأرقام :



- ١ - البحر .....
- ٢ - شبه جزيرة .....
- ٣ - فرع .....
- ٤ - بحيرة .....

ب اكتب ما تشير إليه العبارات الآتية :

- ١ - الموارد التى منحها الله للإنسان دون جهد من جانبه فى تكوينها . ( )
- ٢ - تغيرات لبعض الموارد الطبيعية فتصبح غير صالحة للاستخدام البشرى . ( )
- ٣ - انتقال السلع والخدمات من مكان لآخر . ( )
- ٤ - زيادة الإنتاج الزراعى عن طريق التوسع الأفقى والرأسى . ( )

ج اكتب كلمة ( صح ) أمام العبارة الصحيحة وكلمة ( خطأ ) أمام العبارة غير الصحيحة فيما يأتى :

- ١ - البطالمة هم خلفاء الإسكندر الأكبر فى مصر . ( )
- ٢ - يستخدم المنجنيز فى صناعة الأسمدة الزراعية . ( )
- ٣ - يعتبر النقل الجوى أرخص وسائل النقل . ( )
- ٤ - احترام الرومان عقائد المصريين وشاركوهم فى حكم البلاد . ( )
- ٥ - تسهم الصناعة فى حل مشكلة البطالة فى مصر . ( )

د بم تفسر ؟ :

- ١ - صعوبة الصيد من البحر الأحمر .
- ٢ - رغبة بطلميوس الأول فى الانفراد بحكم مصر .

ه اكمل العبارات الآتية بكلمات مناسبة :

- ١ - من مصادر المياه العذبة فى مصر ..... و .....
- ٢ - يعد ..... بالإسكندرية أعلى نصب تذكارى فى العالم .
- ٣ - يوجد الفحم فى منطقة .....
- ٤ - من أمثلة الطاقة المتجددة ..... و .....

ب لمن تنسب الأعمال الآتية ؟ :

- ١ - انتصر على أنطونيوس وحليفته كليوباترا السابعة فى معركة أكتيوم البحرية  
٣١ ق.م . ( )
- ٢ - أصدر مرسوم ميلان ٣١٣ م الذى ألغى العقوبات المفروضة على من يعتنق  
المسيحية . ( )





٢- يحتل الأرز المركز ..... لصادرات مصر الزراعية .

٢- الكوميسا اتحاد اقتصادي يضم شرق وجنوب قارة .....

٤- أرخص وسائل النقل .....

استبدل كل عبارة بكلمة تدل على معناها :

١- ديانة سماوية نزلت على سيدنا عيسى عليه السلام . (.....)

٢- أهم ثورات المصريين ضد الرومان . (.....)

٣- معركة انتصر فيها أكتافيوس على كليوباترا السابعة . (.....)

٤- دار للعلم يدرس فيها الطالب العديد من التخصصات العلمية والأدبية . (.....)

بم تفسر ؟ :

١- اهتمام الرومان بإنشاء المسارح . ٢- تسمية الكنيسة المعلقة بهذا الاسم .

برهن تاريخياً على صحة العبارة : اهتمام بطلميوس الأول بالعلم .

من هو ؟ :

١- آخر الحكام البطالمة في مصر . (.....)

٢- كانت بداية حكمه نقطة تحول في تاريخ المسيحية . (.....)

٣- أول من بشر بالإنجيل في مصر . (.....)

٤- حمل لقب أغسطس قيصر . (.....)

اختر الإجابة الصحيحة من بين القوسين :

١- البطالمة هم خلفاء ..... ( بطلميوس الأول - الإسكندر الأكبر - أكتافيوس - يوليوس قيصر )

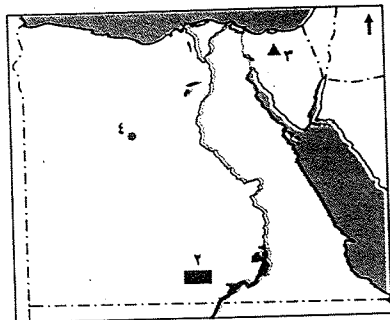
٢- من الآثار الرومانية في مصر ..... ( حصن بابليون - معابد فيلة - الكنيسة المعلقة - دير المحرق )

٣- عرف عصر الإمبراطور ..... بعصر الشهداء . ( أكتافيوس - قسطنطين الأول - دقلديانوس - بطلميوس الأول )

٤- ولد السيد المسيح عليه السلام في مدينة ..... بفلسطين . ( بيت لحم - الناصرة - القدس - الإسكندرية )

### ١٥ محافظة الفيوم إدارة شرق التعليمية

أمامك خريطة صماء لمصر ، اكتب مدلول الأرقام :



١- فرع .....

٢- مشروع .....

٣- منجم للفحم .....

٤- منطقة للحديد .....

بم تفسر ؟ :

١- صعوبة الصيد في البحر الأحمر .

٢- أهمية المياه العذبة في مصر .

١٥ إلى من تنسب الأعمال الآتية ؟ :

١- سك أول عملة معدنية في مصر .

٢- أول من بشر بالإنجيل في مصر .

رتب الأحداث الآتية من القديم إلى الحديث :

ثورة الرعاة - معركة أكتيوم البحرية - التقويم القبطي - ظهور المسيحية .

١٦ صنف الموارد المائية الآتية في الجدول التالي :

بحيرة قارون - بحيرة ناصر - الأمطار - البحر المتوسط


مياه عذبة	مياه مالحة
.....	.....
.....	.....

أمامك صورة لأثر روماني من خلال الصورة أجب عما يأتي :

١- ما اسم الأثر ؟

٢- أين يقع هذا الأثر في مصر ؟

٣- ما رأيك في الحكم الروماني ؟



### ١٤ محافظة الإسماعيلية إدارة التل الكبير التعليمية

أمامك خريطة صماء لمصر ، اكتب مدلول الأرقام :

١- مصدر للمياه المالحة .....

٢- منطقة لاستخراج الحديد .....

٣- مشروع زراعي .....

٤- منطقة لإنتاج الفحم .....

بم تفسر ؟ :

١- قلة الإنتاج السمكي بالبحر الأحمر .

٢- إنشاء ميناء دمياط .

ماذا يحدث إذا لم : يستخرج الفوسفات بكميات كبيرة في مصر ؟

١٧ اكتب كلمة ( صح ) أمام العبارة الصحيحة وكلمة ( خطأ ) أمام العبارة غير الصحيحة :

١- تعد الرياح من مصادر الطاقة المتجددة . ( )

٢- تعد صناعة الحديد والصلب من الصناعات الاستخراجية . ( )

٣- المياه المالحة لا تقل أهمية عن المياه العذبة في مصر . ( )

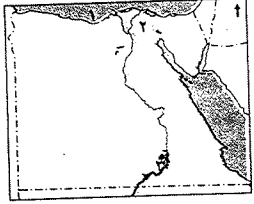
٤- تشمل الموارد الطبيعية في مصر النقل والمواصلات . ( )

أكمل العبارات الآتية بكلمات مناسبة :

١- تقوم الزراعة في الساحل الشمالي على مياه .....



## ١٦ محافظة بنى سويف إدارة سمسما التعليمية



أ. أمامك خريطة صماء لمصر ، اكتب مدلول الأرقام :

- ١ - البحر .....
- ٢ - فرع .....
- ٣ - بحيرة .....

ب. اكتب ما تشير إليه كل عبارة من العبارات الآتية :

- ١ - معدن يستخدم في صناعة الحلى وبعض الأدوية . ( )
- ٢ - ديانة سماوية دخلت مصر على يد القديس مرقس . ( )

ج. اكتب كلمة ( صح ) أمام العبارة الصحيحة وكلمة ( خطأ ) أمام العبارة غير الصحيحة :

- ١ - يعتبر نهر النيل أهم مصادر المياه العذبة في مصر . ( )
- ٢ - احترم الرومان المصريين وأشركوهم في حكم البلاد . ( )
- ٣ - تعتبر مصر من أولى دول العالم استخداماً للسكك الحديدية . ( )

د. لمن تنسب الأعمال الآتية ؟ :

- ١ - سك أول عملة معدنية في مصر . ( )
- ٢ - إصدار مرسوم ميلان ٢١٢ م . ( )

هـ. اختر الإجابة الصحيحة مما بين الأقواس فيما يلي :

- ١ - أكثر مصادر الطاقة تلويثاً للبيئة هو ..... ( البترول - الفحم - الغاز الطبيعي - الشمس )
- ٢ - من المقومات الطبيعية لقيام الصناعة ..... ( المال - وسائل النقل - السوق - مصادر الطاقة )
- ٣ - ولد السيد المسيح عليه السلام في بيت لحم بدولة ..... ( سوريا - فلسطين - لبنان - مصر )

و. بم تفسر ؟ :

- ١ - تسمية عصر دقلديانوس بعصر الاضطهاد .
- ٢ - أهمية المياه العذبة في مصر .

ز. أكمل العبارات الآتية بكلمات مناسبة :

- ١ - تزرع أراضى شرق العوينات اعتماداً على المياه .....
- ٢ - يعد ..... بالإسكندرية أعلى نصب تذكاري في العالم .
- ٣ - حدثت معركة أكتيوم البحرية بين ..... و ..... عام ٣١ ق.م .
- ٤ - يعتبر الحديد أساس ..... الحديثة .

ح. ما النتائج المترتبة على :

زيادة الصادرات المصرية ؟

أ. أكمل العبارات الآتية بكلمات مناسبة :

- ١ - المنجنيز عامل أساسى فى صناعة .....
- ٢ - تنقسم الصناعة إلى صناعة استخراجية وصناعة .....
- ٣ - المصدر الرئيس لمياه الشرب فى الواحات .....
- ٤ - أول دولة عربية أقامت مشروع مترو الأنفاق دولة .....

ب. ماذا يحدث إذا ؟ :

- ١ - لم يتم بناء السد العالى .
- ٢ - قام الإنسان بإلقاء مخلفات المصانع فى نهر النيل .

ج. اختر الإجابة الصحيحة مما بين الأقواس فيما يلي :

- ١ - يدخل الذهب فى صناعة ..... ( الأسمدة - الصلب - الحلى - السيارات )
- ٢ - أكبر مناطق استخراج البترول فى مصر ..... ( سيناء - خليج السويس - خليج العقبة - الدلتا )
- ٣ - البنزين والبولار من مشتقات ..... ( الفحم - الفوسفات - الغاز الطبيعي - البترول )
- ٤ - تقوم صناعة الأسمدة الزراعية على ..... ( الحديد - المنجنيز - الفوسفات - الذهب )
- ٥ - أكثر الموانئ المصرية أهمية ..... ( الإسكندرية - دمياط - سفاجا - القصير )

د. اكتب ما تشير إليه العبارة :

- ١ - تحويل المواد الخام إلى سلع ومنتجات لسد حاجة الإنسان . ( )
- ٢ - تغيرات لبعض الموارد الطبيعية فتصبح غير صالحة للاستخدام البشرى . ( )
- ٣ - الموارد التى منحها الله للإنسان دون جهد من جانبه . ( )

هـ. اكتب كلمة ( صح ) أمام العبارة الصحيحة وكلمة ( خطأ ) أمام العبارة غير الصحيحة :

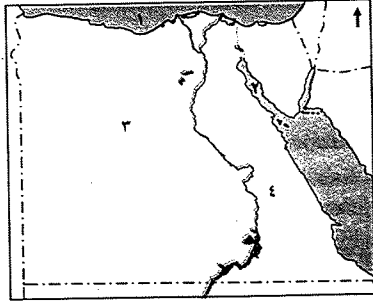
- ١ - نجح الإسكندر الأكبر فى تأسيس دولة البطالمة فى مصر . ( )
- ٢ - كان حكم قسطنطين الأول نقطة تحول فى تاريخ المسيحية . ( )
- ٣ - أقام الرومان المسرح الرومانى بالقاهرة . ( )
- ٤ - ولد السيد المسيح عيسى عليه السلام فى عهد الإمبراطور الرومانى أغسطس . ( )
- ٥ - دخلت المسيحية مصر على يد القديس باخوم . ( )

و. ما النتائج المترتبة على ؟ :

- ١ - انتحار أنطونيوس وكليوباترا .
- ٢ - سوء معاملة الرومان للمصريين .



## ١٨ محافظة سوهاج إدارة أحميم التعليمية



أ- أمامك خريطة صماء لمصر ، اكتب مدلول الأرقام :

- ١ - البحر .....
- ٢ - خليج .....
- ٣ - منطقة لاستخراج الحديد .....
- ٤ - الصحراء .....

ب- ما المقصود بكل من ؟ :

- ١ - الموارد الطبيعية .
- ٢ - المعادن .

ج- اختر الإجابة الصحيحة مما بين الأقواس فيما يلي :

- ١ - يدخل الذهب في صناعة .....
- ٢ - عمود السوارى من أهم الآثار .....
- ٣ - معدن .....
- ٤ - دخلت المسيحية مصر في منتصف القرن .....

د- صنف ما يلي من حيث كونها مصادر متجددة أو غير متجددة :

- ١ - الفحم ( )
- ٢ - الشمس ( )
- ٣ - الرياح ( )

هـ- اكتب كلمة ( صح ) أمام العبارة الصحيحة وكلمة ( خطأ ) أمام العبارة غير الصحيحة :

- ١ - تساهم الصناعة في تلبية حاجات السكان . ( )
- ٢ - كان عصر بطلميوس الأول أفضل عصور البطالمة . ( )
- ٣ - النقل الجوي أرخص وسائل النقل . ( )
- ٤ - من المقومات البشرية للصناعة المواد الخام . ( )
- ٥ - البترول من مصادر الطاقة المتجددة . ( )

و- بم تفسر ؟ :

- ١ - رغبة بطلميوس الأول في حكم مصر .
- ٢ - انهيار دولة الرومان .
- ٣ - استشهاد القديس مرقس .

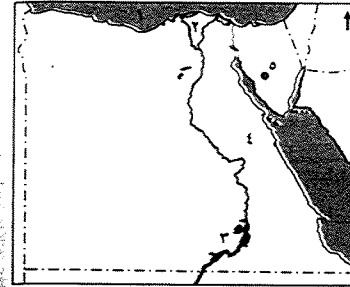
ز- اكتب اسم الشخصية التي قامت بهذا العمل :

- ١ - أنشأ دار البحث العلمي . ( )
- ٢ - أصدر مرسوم ميلان . ( )
- ٣ - كان حليف كليوباترا . ( )
- ٤ - خلفاؤه هم البطالمة . ( )

ح- اكتب كلمة موافق أو غير موافق :

- ١ - بناء المصانع بالقرب من المساكن . ( )
- ٢ - تلويث الهواء بالأدخنة . ( )
- ٣ - رمي المخلفات بعيداً في الصحراء . ( )

## ١٧ محافظة المنيا إدارة طوخ الخيل التعليمية



أ- أمامك خريطة صماء لمصر ، اكتب مدلول الأرقام :

- ١ - البحر .....
- ٢ - بحيرة .....
- ٣ - بحيرة .....
- ٤ - الصحراء .....
- ٥ - منطقة استخراج معدن المنجنيز .....

ب- بم تفسر :

أهمية الطاقة الشمسية ؟

ج- اكتب كلمة ( صح ) أمام العبارة الصحيحة وكلمة ( خطأ ) أمام العبارة غير الصحيحة :

- ١ - السد العالي حمى مصر من أخطار الفيضان والجفاف . ( )
- ٢ - يستخدم المنجنيز في صناعة الأسمدة . ( )
- ٣ - تكثر المراعى الطبيعية في مصر . ( )
- ٤ - نقل مياه النيل إلى شمال سيناء يعتمد على مشروع توشكى . ( )

د- بم تفسر : خطورة إقامة المصانع داخل المدن السكنية ؟

هـ- اختر الإجابة الصحيحة مما بين الأقواس فيما يلي :

- ١ - تمثل منطقة ..... أكبر مناطق إنتاج الغاز الطبيعي في مصر .  
( خليج السويس - سيناء - البحر المتوسط - الوادي الجديد )
- ٢ - تنقسم ..... إلى عذبة وأخرى مالحة .  
( الأنهار - البحار - البحيرات - المحيطات )
- ٣ - اتخذ بطلميوس الأول مدينة ..... عاصمة للبلاد .  
( القاهرة - الإسكندرية - الجيزة - دمياط )
- ٤ - ولد السيد المسيح ﷺ في بيت لحم بدولة .....  
( سوريا - لبنان - اليمن - فلسطين )

و- اكتب ما تشير إليه العبارات الآتية :

- ١ - أهم الثورات التي قام بها الشعب المصري ضد الرومان . ( )
- ٢ - دار للعلم يدرس فيها الطالب العديد من التخصصات العلمية والأدبية . ( )
- ٣ - انتصر على أنطونيوس وحليفته كليوباترا في معركة أكتيوم البحرية . ( )
- ٤ - عصر خلفاء الإسكندر الأكبر . ( )
- ٥ - أطلق على عصره عصر الشهداء . ( )

ز- بم تفسر : رغبة بطلميوس الأول في الانفراد بحكم مصر ؟