



مؤلف

سلسلة الموجز

كجسوات في الدراسات



٩٢٥٩١٩.١١١



معنا الدراسات من غير تعقيداً

٦

الموجز في الدراسات

رؤية وإعداد

أحمد الطيفي

أكتب ما تشير إليه العبارة التالية

| | |
|---------------------|--|
| الامتيازات الاجنبية | هي مزايا اقتصادية منحها الدولة العثمانية للراعي الاجانب في مصر لتشجيعهم على الاستثمار . |
| المراقبة الثنائية | شكل من اشكال التدخل الاجنبى وبمقتضاه عين انجليزى للإيرادات و آخر فرنسى للمصروفات . |
| الدستور | هو مجموع المبادئ و القواعد التى تحدد نظام الحكم فى الدولة . |
| الاستقلال الاقتصادى | هو عدم تبعية اقتصاد مصر لآى دولة أجنبية واعتمدها على رءوس أموالها الوطنية . |
| حرب الاستنزاف | هى حرب قامت بها القوات المصرية فى الفترة من 1969 - 1970 م ضد العدو الاسرائيلى لمحو آثار هزيمة 1967 م . |
| الضباط الأحرار | مجموعة من الضباط امعروفين بوطنيتهم تجمعهم أهداف مشتركة و أسسه جمال عبد الناصر |
| العدالة الاجتماعية | توزيع الثروات القومية بين المواطنين توزيعاً عادلاً . |
| الحزب السياسى | مجموعة منظمة تشترك فى وضع برامج محددة لتحسين شئون الدولة السياسية والاقتصادية والاجتماعية للدولة وذلك عن طريق المشاركة فى مسئوليات الحكم . |
| لجان شعبية | تجمع أفراد من الشعب فى مكان ما للمحافظة على الأمن . |

بم تفسر

1. سوء الأحوال الاقتصادية للمصريين قبل الثورة العربية ؟

بسبب الضرائب الباهظة المفروضة عليهم وعدم توزيعها توزيعاً عادلاً .

2. قيام الثورة العربية ؟

1. التدخل الأجنبى فى شئون مصر . 2. إهمال الجيش المصرى . 3. سوء أحوال مصر الاقتصادية .

3. ازدياد التدخل الاجنبى فى شئون مصر الداخلية ؟ بسبب :

1. الامتيازات الاجنبية التى منحها الدولة العثمانية للراعي الاجانب فى مصر .

2. القروض التى أخذتها مصر من الدول الاوربية .

3. إنشاء مراقبة ثنائية انجليزية فرنسية على الموارد و المصروفات المصرية .

4. إهمال الجيش المصرى ؟ بسبب :

تسريح الكثير من الجنود و الضباط المصريين .

5. كان الاحتلال البريطانى فى سنة 1882م نكبة على مصر ؟

بسبب السياسة التى اتبعتها إنجلترا و التى تمثلت فى :

-اتبعت بريطانيا سياسة السيطرة على كل مرافق البلاد .

-صار المعتمد البريطانى فى مصر هو الحاكم الفعلى للبلاد .

-قامت بريطانيا بالغاء المراقبة الثنائية (البريطانية و الفرنسية) .

-السيطرة على مالية البلاد لمصلحة أصحاب البنوك الأوروبية .

-ألغت النظام الدستورى فى مصر .

-حولت البلاد إلى قاعدة لتزويد الصناعة البريطانية بالقطن المصري مع إهمال الصناعة المصرية .
-فرض ضرائب باهظة على المصريين .
-ضعف الإنفاق الحكومي خاصة في ميزانية التعليم والصحة .
-جعلوا مصر تقوم بدفع تعويض لإنجلترا مقابل الخسائر التي نتجت عن العمليات الحربية أثناء الاحتلال
6-كان استقلال مصر سنة 1922م استقلالاً ناقصاً ؟

بسبب التحفظات الأربعة :

- 1 تأمين المواصلات البريطانية في مصر
- 2 الدفاع عن مصر ضد أي اعتداء أو تدخل أجنبي .
- 3 حماية المصالح الأجنبية وحماية الأقليات في مصر .
- 4 السودان (حكم ثنائي لإدارة السودان وفقاً لإتفاقية يناير 1899م) .

7. تاليف الوفد المصري ؟

لمطالبة سلطات الاحتلال بـ : 1 إلغاء الحماية البريطانية على مصر .
2 إلغاء الأحكام العرفية والرقابة على الصحف والمطبوعات .

8. الصدام بين الوفد المصري وسلطات الاحتلال البريطاني ؟

حيث رفضت السلطات البريطانية في مصر سفر أعضاء الوفد المصري إلى إنجلترا لعرض المطالب الوطنية هناك .

9. اعداد طلعت حرب تقريراً حول مسألة مد امتياز شركة قناة السويس ؟

حيث حدد فيه الخسائر المالية التي ستعرض لها مصر عند الموافقة على مد الإمتياز .

10. مد محمد فريد نشاط الحركة الوطنية الى أوروبا ؟

لتضيق السلطات المصرية والبريطانية الخناق عليه

11.ارتباط استقرار مصر مصر السياسي باستقلالها الاقتصادي

لان طلعت حرب ادرك ان استقلال مصر الذي يحارب من اجله المصريون لن يكون له قيمة اذا لم يستند الى استقلال اقتصادي قوى ، واذا لم يسيطر المصريون على اقتصادهم .

12.تأسيس جمال عبدالناصر لتنظيم الضباط الأحرار ؟

للقيام بثورة من أجل القضاء على فساد الحكام و الاحتلال البريطاني .

13.قيام ثورة 23 يوليو 1952 ؟

الأسباب السياسية : (1)الاحتلال البريطاني لمصر وفساد الحكام

الأسباب الاقتصادية : (2)ارتفاع الأسعار وقلة الدخل وانتشار الفقر .

الاسباب الاجتماعية : (3)سوء توزيع الثروات وغياب العدالة الاجتماعية و انتشار الجهل و المرض .

14. عقد مصر اتفاقية الجلاء مع بريطانيا ؟

من أجل جلاء القوات البريطانية عن مصر .

15.فشل العدوان الثلاثي على مصر ؟

(1) ووقوف الجيش والشعب بجانب قيادته السياسية لصد العدوان .

(2) تضامن الشعوب العربية بجانب مصر .

(3) معارضة الإتحاد السوفيتي (سابقاً) (روسيا الآن) للعدوان وتهديده بالتدخل العسكري .

16.إقامة اسرائيل لخط بارليف و الساتر الترابي ؟

لمنع مصر استرداد سيناء

17.تحقيق النصر في حرب أكتوبر ؟ صيغة أخرى : العوامل التي أدت إلى تحقيق نصر أكتوبر ؟

- (1) قوة الإيمان .
 (2) العقيدة القتالية .
 (3) التدريب المستمر .
 (4) التعاون العربى .
 (5) السرية التامة .
 (6) الخداع الاستراتيجى .

18. لم تكن ثورة 25 يناير وليدة هذا التاريخ ؟

- (1) لأنه سبقها منات الاحتجاجات و الوقفات الشعبية التى قامت بها فئات متعددة من المصريين فى العقد الأول من القرن الـ 21 الميلادى .
 (2) لأنه كان للعديد من الكتاب والشخصيات السياسية والجامعية دور هام فى نقد النظام وتسليط الضوء على الأوضاع السياسية والاقتصادية والاجتماعية فى مصر .
 19. سوء أحوال البلاد فى عصر مبارك ؟

- (1) سوء الأوضاع الاقتصادية والاجتماعية والسياسية والتعليمية والصحية .
 (2) انتشار الفساد فى جميع مؤسسات الدولة .
 (3) تزوير الانتخابات 2010 م وسيطرة الحزب الوطنى الديموقراطى على أغلبية مقاعد مجلس الشعب و الشورى وخلوهم من المعارضة .
 20. نجاح ثورة 25 يناير 2011 ؟

اطمئنان الجماهير إلى موقف القوات المسلحة المؤيد لمطالبهم .
 21. صدور قانون الاصلاح الزراعى ؟

من أجل القضاء على الأقطاع و تحديد ملكية الارض الزراعية .
 22. توقيع اتفاقية السلام مع اسرائيل 1979 م ؟

من أجل استرداد سيناء
 23. فشل اسرائيل فى اقتحام مدينة السويس ؟

تعاون الشعب مع القوات المسلحة .
 24. أهمية اللجان الشعبية فى ثورة 25 يناير ؟

لحماية المواطنين والمحافظة على المنازل و المؤسسات العامة .
 25. نزول الجيش إلى الشارع المصرى فى ثورة 2011 ؟

لحماية ممتلكات الدولة والمنشآت العامة
 26. حققت ثورة 25 يناير التلاحم بين المصريين ؟

حيث حققت التلاحم بين المسلمين والأقباط فى الثورة
 27. تسمية العدوان الثلاثى بهذا الاسم ؟

حيث شارك فى هذا العدوان ثلاث دول اسرائيل - فرنسا - بريطانيا

ما النتائج المترتبة على ... ؟

1. مظاهرة عابدين ؟

وافق الخديوى على مطالب الجيش والأمة وتم اختيار شريف باشا لتأليف الوزارة الجديدة فى سبتمبر 1881

2. معركة التل الكبير ؟

① هزيمة أحمد عرابى .
 ② الاحتلال البريطانى لمصر .

3. احداث ثورة 1919 م ؟

1 أفرجت السلطات البريطانية عن سعد زغول ورفاقه في 17 أبريل 1919 م .
2 سمحت السلطات البريطانية لسعد زغول ورفاقه بالتوجه إلى باريس لعرض مطالب الأمة على مؤتمر الصلح المنعقد هناك ولكن خيب مؤتمر الصلح آمال المصريين الاستقلال باعترافه بالحماية البريطانية على مصر .

4. فشل مفاوضات مؤتمر الصلح في باريس ؟

1 أقلت سلطات الاحتلال البريطاني القبض على سعد زغول وبعض زعماء الوفد المصري وفتحهم إلى جزيرة (سيشيل بالمحيط الهندي) .

2 اشتدت الثورة ولجأ المصريون إلى مقاطعة البضائع والبنوك والسفن البريطانية مقاطعة تامة .

3 ارتباك سلطات الاحتلال وإسراعها بالإفراج عن سعد زغول وزملائه .

5. إصدار تصريح 28 فبراير 1922 ؟

(1) وضع دستور 1923 م . (2) إجراء الانتخابات العامة

(3) فوز الوفد بزعامة سعد زغول أغلبية مطلقة .

(4) شكل سعد زغول أول حكومة دستورية وطنية في مصر عام 1924 م .

6. ثورة 23 يوليو 1952م ؟

أولا / الإنجازات و التحولات السياسية :

(1) إلغاء النظام الملكي وإعلان الجمهورية في يونيو 1953 م .

(2) عقد اتفاقية الجلاء 19 أكتوبر مع بريطانيا التي نصت على جلاء القوات البريطانية عن مصر .

(3) تأميم قناة السويس في يوليو 1956م وتمصير الشركات والبنوك .

(4) الاهتمام بالكيانات العسكرية وتنويع مصادر الأعداد والتسليح .

ثانيا / الإنجازات و التحولات الاقتصادية :

(1) بناء السد العالي على نهر النيل وافتتاحه في عام 1971م .

(2) بناء الصناعة الثقيلة مثل مصنع الحديد والصلب في حلوان .

ثالثا / الإنجازات و التحولات الاجتماعية :

▪ إصدار قوانين الإصلاح الزراعي في سبتمبر 1952م الذي نص على تحديد ملكية الأراضي الزراعية (للقضاء على الإقطاع) .

رابعا / الإنجازات و التحولات الاجتماعية :

(1) إقامة وحدة سوريا في عام 1958 م ، ولكنها لم تدم طويلاً .

(2) مساندة معظم حركات التحرر الوطني في آسيا وإفريقيا ومن أبرزها ثورة الجزائر .

7. تأميم قناة السويس ؟

العدوان الثلاثي على مصر .

8. العدوان الثلاثي على مصر ؟

فشل العدوان .

9. رفض اسرائيل جميع المفاوضات السلمية إعادة سيناء ؟

قيام حرب أكتوبر .

10. سوء الأوضاع السياسية والاجتماعية والاقتصادية عام 2010 ؟

قيام ثورة 25 يناير .

11. الحالة الامنية بعد قيام ثورة 25 يناير 2011 ؟

نزول القوات المسلحة للشارع المصري و تكوين الشعب لما عرف باللجان الشعبية .

12. عدم تحسن الاحوال السياسية والاقتصادية في عهد محمد مرسي ؟

قيام ثورة 30 يونية 2013 .

13. استمرار الاحتلال البريطاني لمصر ؟

تأسيس جمال عبدالناصر لما عرف بتنظيم الضباط الأحرار .

14. صدور قانون الاصلاح الزراعى ؟

القضاء على الاقطاع .

15. توقيع اتفاقية الجلاء 1954م ؟

رحيل قوات الاحتلال البريطاني عن مصر .

16. رفض السلطات البريطانية السماح للوفد المصرى بالسفر لباريس فى البداية ؟

اتجه أعضاء الوفد المصرى إلى تعبئة رأى العام الداخلى فى مصر ضد الاحتلال البريطانى .

17. قيام الوفد المصرى بتعبئة رأى العام ضد الاحتلال ؟

(1) إلقاء القبض على سعد زغلول وثلاثة من أعضاء الوفد .

(2) أصدر المعتمد البريطانى قراراً بنفيهم إلى جزيرة مالطة (فى البحر المتوسط) فى مارس 1919 م

دلل على صحة العبارة التالية !

1. ارتبط اسم طلعت حرب باستقلال مصر الاقتصادى ؟

حيث قام بتحرير الاقتصاد المصرى من السيطرة الاجنبية وقام بإنشاء بنك مصر

2. التحام عنصرى الامة لثورة 1919م من اروع انتصاراته ؟

حيث شارك فى الثورة كلا من المسلمين و المسيحيين .

3. كان لطلعت حرب مواقف وطنية فى خدمة مصر ؟

حيث استطاعت طلعت حرب بمشاركة مجموعة من العاملين فى مجال المال والتجارة تأسيس بنك مصر فى

إبريل 1920م يديره مصريون تحت إشراف وطنى .

4. احتلت انجلترا مصر بعد عدة معارك مع أحمد عرابى وزملائه ؟

▪ بادر البريطانىون بضرب مدينة الإسكندرية فى يوليه 1882 م .

▪ أقال الخديوى توفيق أحمد عرابى فى 20 يوليه 1882م من الوزارة (خيانة توفيق) .

▪ قرر الشعب المصرى مواصلة الدفاع عن البلاد بزعامة أحمد عرابى .

▪ فشل البريطانىون فى دخول البلاد عن طريق كفر الدوار بسبب قوة مقاومة المصريين .

▪ احتلت القوات البريطانية قناة السويس بعد خيانة ديلبس

▪ تغلبت القوات البريطانية على جيش عرابى بالتل الكبير ثم احتلوا القاهرة فى سبتمبر 1882م

5. شغل سعد زغلول العديد من المناصب و الوظائف ؟

(1) عمل محرراً فى صحيفة الوقائع المصرية .

(2) انضم إلى الثورة العرابية .

(3) اشتغل بالمحاماة ثم عمل بالقضاء .

(4) شارك فى الدعوة لإنشاء الجامعة المصرية .

(5) تولى نظارة المعارف(التربية و التعليم حالياً) فى سنة 1906 م .

(6) تم اختياره وزيراً للحقانية (العدل حالياً) فى سنة 1910 م .

(7) انتخب عضواً بالجمعية التشريعية فى سنة 1913م .

6. بعد الحرب العالمية الأولى اتخذت انجلترا عدة اجراءات تعسفية ضد مصر ؟

وهي كالتالي :

- (1) أعلنت انجلترا حمايتها على مصر في 18 ديسمبر 1914 م وإنهاء تبعيتها للدولة العثمانية .
- (2) جندت بريطانيا عدداً كبيراً من المصريين .
- (3) وضعت الخطوط الحديدية والموانئ في خدمة القوات البريطانية .
- (4) إعلان الأحكام العرفية والرقابة على الصحف والمطبوعات .

7. كان لمجلس الأمن الدور الكبير في حرب أكتوبر ؟

حيث أصدر مجلس الأمن العديد من القرارات وهي :

- (1) / قرار مجلس الأمن الدولي رقم 338 بوقف إطلاق النار ووافقت كل من مصر وإسرائيل عليه
- التزمت مصر بالقرار ولم تلتزم إسرائيل ، وحاولت اقتحام مدينة السويس لكنها فشلت بفضل تعاون الشعب مع القوات المسلحة .
- (2) / عاد مجلس الأمن وأصدر القرار الثاني رقم 340 والذي نص على :

(وقف إطلاق النار وجميع الأعمال الحربية بين الطرفين وعودة القوات المتحاربة إلي ما كانت عليه يوم 22 أكتوبر 1973 م وإنشاء قوة دولية للمراقبة) .

8. شهدت بداية حكم مبارك العديد من الإصلاحات ؟

حيث أقام العديد من المشروعات والبنية التحتية . مثل :

- (1) الطرق والكباري (2) إنشاء مترو الأنفاق . (3) التوسع في إنشاء المدارس والمدن الجديدة

9. كان هناك العديد من النقاط الفاصلة في ثورة 25 يناير ؟

- انتشار دعوات الشباب على الفيس بوك وتويتر للخروج للتظاهر السلمي في جميع ميادين مصر يوم 25 يناير 2011م
- تلاحم قوى الشعب المختلفة ومشاركة الملايين في محافظات مصر .
- اشتعال المظاهرات في ميدان التحرير والميادين العامة للمحافظات .
- قطع النظام الحاكم جميع وسائل التواصل الاجتماعي (التليفونات والانترنت والفيس بوك والتويتر)
- محاولة لمواجهة ثورة الشباب والمجتمع .
- استخدام العنف ضد المتظاهرين بإطلاق خرطوم المياه وقنابل الغاز المسيل للدموع .
- سوء الحالة الأمنية في المجتمع مما شجع البلطجية على اقتحام السجون وفرار المسجونين .
- نزول القوات المسلحة إلى الشوارع والميادين العامة لحماية ممتلكات الدولة والمنشآت العامة
- تشكيل اللجان الشعبية لحماية المواطنين والمحافظة على المنازل و المؤسسات العامة وتأمين المتحف المصري والمتظاهرين في أعقاب الانفلات الأمني .
- إسقاط الرئيس والنظام الحاكم 11 فبراير 2011 م .

#قيصر الدراسات محمود الصفي

أذكر عملاً واحداً لكل من ؟

| الزعيم | التعريف به |
|------------|---|
| احمد روات | <ol style="list-style-type: none"> 1 بدأ كفاحه منذ عصر الخديوى اسماعيل ضد استبداد النظام التركى و الجركسى 2 طالب بالمساواة بين أبناء مصر و غيرهم من باقى الأجناس . 3 اشترك مع بعض المصريين فى تأسيس الجمعية السرية " مصر الفتاة " وأصبح عضواً بارزاً فيها . 4 تزعم مظاهرة عابدين . 5 قاوم الجيش البريطانى فى معركة كفر الدوار و التل . |
| رياض باشا | <ol style="list-style-type: none"> 1 رأس الوزارة فى عهد الخديو توفيق وعرفت وزارته بالوزارة المستبدة . |
| شريف باشا | <ol style="list-style-type: none"> 1 رأس الوزارة بعد عزل رياض باشا . |
| مصطفى كامل | <ol style="list-style-type: none"> 1 تولى زعامة الحركة الوطنية : فى أواخر القرن التاسع عشر . 2 جاءت خطبه ومقالاته الموجهة إلى عواطف ومشاعر المصريين 3 توجه إلى الاتصال بالقوى الوطنية داخل مصر والقوى الدولية 4 محاولة اجتذاب الخديوى عباس حلمى الثانى إلى صفوف الحركة الوطنية 5 نتيجة كفاحه : عزل اللورد كرومر من منصبه كمعتمد بريطانى فى مصر عقب حادثة دنشواى عام 1906 م |
| محمد رفوف | <ol style="list-style-type: none"> 1 وضع برنامجاً لسياسة قومية تحرك كافة القوى السياسية فى البلاد على أساس بحث المشاكل الداخلية والخارجية . 2 دعا إلى : <ul style="list-style-type: none"> - جلاء الاحتلال البر يطانى عن مصر . - تأسيس حكومة وطنية مستقلة . - إنشاء مدارس ليلية لتعليم العمال والفقراء مجاناً . - قيام نقابات للعمال وظهور الحركة التعاونية . 3 مد نشاط الحركة الوطنية إلى أوروبا . 4 شارك فى العديد من المؤتمرات لبحث المشكلات المصرية السياسية والاجتماعية والاقتصادية و المناذاة باستقلال مصر . |
| سعد زغلول | <ol style="list-style-type: none"> 1 عمل محرراً فى صحيفة الوقائع المصرية و انضم إلى الثورة العربية كما اشتغل بالمحاماة ثم عمل بالقضاء . 2 شارك فى الدعوة لإنشاء الجامعة المصرية . 3 تولى نظارة المعارف فى سنة 1906م ثم تم اختياره وزيراً للحقانية (العدل حالياً) فى سنة 1910 4 انتخب عضواً بالجمعية التشريعية فى سنة 1913م و كان من اعضاء الوفد المصرى كما تزعم ثورة 1919م 5 شكل سعد زغلول أول حكومة دستورية فى مصر عام 1924 م و قاد الحركة الوطنية من أجل الاستقلال والدستور كما خاض المعارك الضارية ضد سلطات الاحتلال البريطانى وضد الملك فؤاد |
| ولسن | رئيس أمريكى أصدر عدة مبادئ ومنها حق الشعوب فى تقرير مصيرها |

| | |
|------------------|--|
| طلعت حرب | 3 قام بتأسيس بنك مصر عام 1920م |
| جمال عبدالناصر | 1 قام بتأسيس تنظيم الضباط الأحرار |
| محمد السادات | 1 قاد بنفسه مع كبار قادة القوات المسلحة التخطيط للحرب من أجل تحرير الأراضي المصرية المحتلة 2 بعد اغتياله تولى نائبه حسنى مبارك الحكم في مصر |
| مبارك | 1 نائب الرئيس السادات و تولى حكم مصر بعد اغتياله 1981 2 قامت ضده ثورة 25 يناير 2011 3 تخلى عن حكم البلاد فى 11 فبراير 2011 م |
| محمد مرسى | 1 أول رئيس لجمهورية مصر العربية بعد ثورة 25 يناير 2011 م . 2 قامت ضده ثورة 30 يونية 2013 م . 3 رفض إجراء انتخابات رئاسية مبكرة . |
| عدلى منصور | 1 رئيس المحكمة الدستورية و أول رئيس لجمهورية مصر العربية بعد ثورة 30 يونية 2011 م |
| عبدالفتاح السيسى | 1 أول رئيس منتخب بعد ثورة 30 يونية 2013 م |

الاحداث التاريخية

| العام | الحدث التاريخي |
|----------------|--|
| 9 سبتمبر 1881 | مظاهرة عابدين |
| سبتمبر 1881 | اختيار شريف باشا لتأليف الوزارة الجديدة |
| يوليو 1882 | ضرب مدينة الاسكندرية على يد البريطانيين |
| سبتمبر 1882 | معركة التل الكبير |
| 14 سبتمبر 1882 | دخول الانجليز الى القاهرة و الاحتلال البريطانى لمصر |
| يناير 1899 | الحكم الثنائى لادارة السودان بين انجلترا و مصر |
| 1900م | أنشأ مصطفى كامل جريدة اللواء |
| 1904م | الاتفاق الودى بين انجلترا وفرنسا |
| 1906م | حادثة دنشواى / عزل اللورد كرومر / تعيين سعد زغول فى وزارة المعارف |
| 1907 م | انشاء الحزب الوطنى |
| 1908 م | وفاة مصطفى كامل / تولى محمد فريد زعامة الحزب الوطنى بعده |
| 1910 م | تم اختيار سعد زغول لوزارة الحقائبة / تقديم انجلترا لطلب مد امتياز قناة السويس |
| 1913 م | انتخاب سعد زغول عضوا بالجمعية التشريعية |
| أغسطس 1914 م | بداية الحرب العالمية الاولى |
| ديسمبر 1914 م | اعلنت انجلترا حمايتها على مصر |
| نوفمبر 1918 م | انتهاء الحرب العالمية الاولى وتأليف الوفد المصرى |
| 1919 م | وفاة محمد فريد / تم لقاء القبض على سعد زغول وثلاثة من اعضاء الوفد ونفيهم الى جزيرة مالطة |
| 9 مارس 1919 | اندلاع ثورة 1919 من القاهرة وانتشرت فى الدلتا وجميع الاقاليم |
| ابريل 1919 | عن سعد زغول ورفاقه والسماح |

| | |
|-----------------|---|
| 1920م | تأسيس بنك مصر فى ابريل |
| 1922م | تصريح 28 فبراير . |
| 1923م | وضع أول دستور مصرى . |
| 1924م | تشكيل سعد زغول لأول وزارة دستورية وطنية |
| اغسطس 1927م | وفاة سعد زغول |
| 1952م | قيام ثورة 23 يوليو بقيادة الضباط الأحرار / إصدار قوانين الإصلاح الزراعى |
| 1953م | إلغاء الملكية و إعلان الجمهورية |
| 1954م | توقيع اتفاقية الجلاء عن مصر . |
| يوليو 1956 م | تأميم قناة السويس . |
| أكتوبر 1956 م | العدوان الثلاثى على مصر |
| 1958 م | الوحدة بين مصر وسوريا |
| 5 يونيو 1967م | العدوان الاسرائيلى على مصر . |
| 1969 - 1970م | حرب الاستنزاف |
| 1971 م | إنجاز مشروع السد العالى |
| 6 أكتوبر 1973 م | قيام حرب أكتوبر . |
| أكتوبر 1973م | قرار مجلس الأمن الدولى رقم 338 و 340 |
| 28 أكتوبر 1973 | إنهاء حرب أكتوبر |
| يونيو 1975م | عودة الملاحة بقناة السويس . |
| مارس 1979م | توقيع معاهدة السلام بين مصر واسرائيل |
| 1981 م | إغتيال الرئيس محمد أنور السادات / تولى محمد حسنى مبارك رئاسة البلاد . |
| 25 يناير 2011 | الثورة ضد محمد حسنى مبارك |
| 2012 | إصدار دستور 2012 |
| 30 يونية 2013 | الثورة الرئيس ضد محمد مرسي |
| 2014 م | إصدار دستور 2014 / إجراء انتخابات وفوز المرشح عبدالفتاح السيسى |

رتب الاحداث التاريخية التالية.....؟

معركة التل الكبير - إنشاء بنك مصر - حادثة دنشواى

تشكيل سعد زغول أول حكومة دستورية - اتفاقية السلام مع إسرائيل - معركة التل الكبير - تحطيم تحصينات خط بارليف

ثورة 25 يناير - العدوان الثلاثى على مصر - ثورة 30 يونيو - إعادة الملاحة بقناة السويس - بناء السد العالى - الإفراج عن سعد زغول

حادثة دنشواى - بداية الاحتلال البريطانى لمصر - عدوان 5يونية - معركة التل الكبير

تأميم شركة قناة السويس - مظاهرة عابدين - حرب أكتوبر - معاهدة الجلاء

عزل مرسى - تأميم قناة السويس - حرب الاستنزاف - العدوان الثلاثي على مصر

الإفراج عن سعد زغلول - الحرب العالمية الأولى - إنشاء جريدة اللواء - الوفاق الودي



قارن بين ؟

1. الثورة العربية و 1919 و ثورة 1952 و ثورة 25 يناير و 30 يونية من حيث الاسباب و النتائج

| وجه المقارنة | الاسباب | النتائج |
|----------------|---|---|
| الثورة العربية | (1) التدخل الأجنبي فى شئون مصر. (2) إهمال الجيش المصرى. (3) سوء أحوال المصريين اقتصادياً | 1- فشل الثورة بسبب خيانة دليسبس و توفيق 2- الاحتلال البريطانى لمصر . |
| ثورة 1919 | (1) ازدياد الوعى القومى والدعوة إلى التحرر من الاستعمار . (2) الإجراءات التعسفية التى فرضها الاحتلال البريطانى على مصر أثناء الحرب العالمية الأولى . (3) التطلع إلى الحرية والإستقلال . (4) إعلان الرئيس الأمريكى (ويلسن) مبادئه ومنها حق الشعوب فى تقرير مصيرها . | 1. أصدرت بريطانيا تصريح 28 فبراير 2. إصدار دستور 1923 م 3. تشكيل أول حكومة دستورية 1924 م |
| ثورة 1952 | (1) الاحتلال البريطانى لمصر وفساد الحكام (2) ارتفاع الأسعار وقلة الدخل وانتشار الفقر (3) سوء توزيع الثروات وغياب العدالة الاجتماعية و انتشار الجهل و المرض . | (1) إلغاء النظام الملكى وإعلان الجمهورية فى يونيو 1953 م . (2) عقد اتفاقية الجلاء 19 أكتوبر مع بريطانيا التى نصت على جلاء القوات البريطانية عن مصر . (3) تأميم قناة السويس فى يوليو 1956م وتمصير الشركات و البنوك . (4) الاهتمام بالكليات العسكرية وتنويع مصادر الأعداد و التسليح . (5) بناء السد العالى على نهر النيل وافتتاحه فى عام 1971م . (6) بناء الصناعة الثقيلة مثل مصنع الحديد و الصلب فى حلوان . إصدار قوانين الإصلاح الزراعى فى سبتمبر 1952م الذى نص على تحديد ملكية الأراضى الزراعية (للقضاء على الاقطاع) . (8) إقامة وحدة سوريا فى عام 1958 م ، ولكنها لم تدم طويلاً . (9) مساندة معظم حركات التحرر الوطنى فى آسيا و إفريقيا ومن أبرزها ثورة الجزائر . |

| وجه المقارنة | الاسباب | النتائج |
|--------------|---------|---------|
|--------------|---------|---------|

| | | |
|--|---|-----------------|
| <p>(1) إسقاط النظام السياسى ووضع الخطة الزمنية لإجراء انتخابات رئاسة الجمهورية ووضع الدستور الجديد . (2) حل مجلسى الشعب والشورى . (3) الإفراج عن المعتقلين والمسجونين السياسيين . (4) تأكيد وترسيخ الإحساس بالمواطنة والتأكيد على الوحدة الوطنية . (5) ارتفاع الوعى السياسى لدى الشعب المصرى والمطالبة بالحقوق واحترام حقوق الإنسان . (6) التلاحم بين المسلمين والأقباط فى الثورة وحماية الجبهة الداخلية .</p> | <p>(1) سوء الأوضاع الاقتصادية والاجتماعية و السياسية والتعليمية والصحية . (2) انتشار الفساد فى جميع مؤسسات الدولة . (3) تزوير الانتخابات 2010 م وسيطرة الحزب الوطنى الديموقراطى على أغلبية مقاعد مجلس الشعب و الشورى وخلوهم من المعارضة</p> | <p>25 يناير</p> |
| <p>(1) عزل محمد مرسى وتسليم السلطة للمستشار "عدلى منصور" رئيس المحكمة الدستورية العليا وذلك حتى يتم إجراء انتخابات رئاسية مبكرة . (2) تعديل دستور 2012م وصدر الدستور الجديد فى يناير 2014 م . (3) عقد الانتخابات الرئاسية وإعلان فوز المرشح عبدالفتاح السيسى . (4) بدأت فترة جديدة من تاريخ مصر لتحقيق آمال وطموحات الشعب المصرى فى حياة جديدة ينعم فيها بالديموقراطية والتقدم والرخاء</p> | <p>(1) استمرار سوء الاحوال الاقتصادية والاجتماعية و السياسية . (2) لم تحقق السياسات الجديدة حلولاً للمشكلات التى يعانى منها غالبية الشعب المصرى . (3) ازدياد الاصوات المعارضة للحكم و المطالبة بإجراء انتخابات رئاسية مبكرة .</p> | <p>30 يونيو</p> |

2. مبادئ ثورة 23 يوليو وأهداف ثورة 25 يناير

| | |
|--|---|
| <p>25 يناير</p> | <p>23 يوليو</p> |
| <p>تركزت اهداف الثورة فى الكرامة و الحرية و العدالة الاجتماعية .</p> | <p>القضاء على :- (1) الاستعمار و أعوانه . (2) الاقطاع . (3) الاحتكار و سيطرة رأس المال على الحكم . إقامة :- (1) عدالة اجتماعية . (2) جيش وطنى . (3) حياة ديموقراطية سليمة .</p> |

3. اتفاقية الجلاء و معاهدة السلام و الاتفاق الودى

| | | | |
|--|---|--|---------------------|
| <p>معاهدة السلام 1979</p> | <p>إنفاذ الجلاء 1954</p> | <p>الاتفاق الودى 1904</p> | <p>وجه المقارنة</p> |
| <p>مصر - اسرائيل</p> | <p>مصر - بريطانيا</p> | <p>بريطانيا - فرنسا</p> | <p>الأطراف</p> |
| <p>وقف القتال بين الدولتين و إستعادة مصر سيئاء</p> | <p>استقلال مصر وجلاء القوات البريطانية عن مصر</p> | <p>تخلى فرنسا عن مساندة الحركة الوطنية</p> | <p>النتائج</p> |

3. معركة التل الكبير و كفر الدوار

| | | |
|--------------------|-------------------|---------------------|
| <p>التل الكبير</p> | <p>كفر الدوار</p> | <p>وجه المقارنة</p> |
|--------------------|-------------------|---------------------|

| | | |
|---|--|---------|
| هزيمة الانجليز وانتصار العربيين وتراجع البريطانيين إلى مدينة الاسكندرية | هزيمة العربيين واحتلال البريطانيين مدينة القاهرة | النتائج |
|---|--|---------|

4. العدوان الثلاثي و العدوان الاسرائيلي و حرب أكتوبر

| النتائج | الاسباب | وجه المقارنة |
|--|---|--------------------|
| فشل العدوان | تأميم شركة قناة السويس في يوليو 1956 | العدوان الثلاثي |
| (1) هزيمة مصر واحتلال إسرائيل شبه جزيرة سيناء . (2) احتلال هضبة الجولان في سوريا . (3) احتلال الضفة الغربية لنهر الأردن . (4) احتلال القدس الشريف . | كان لنجاح مصر في مناصرة حركات التحرر الوطني في آسيا و أفريقيا أثره في التخطيط من جانب إسرائيل للقضاء على زعامة مصر للعالم العربي فكان العدوان الإسرائيلي الذي دعمته الولايات المتحدة الأمريكية في 5 يونيو 1967 . | العدوان الاسرائيلي |
| (1) غيرت من استراتيجيات الحروب في العالم (2) بتت النزاع الطويلة لإسرائيل المتمثلة في سلاح الجو الاسرائيلي . (3) احترام العالم للمصريين وتضامنهم مع الحق العربي . (4) كسر حاجز الخوف واستعادة الشعب المصري ثقته بنفسه . (5) تغير نظرة العالم للجيش المصري وانبهاره بأدائه العسكري تخطيطاً وتنفيذاً . (6) القضاء على أسطورة التفوق المطلق للجيش الإسرائيلي (الجيش الذي لا يقهر) . (7) استعادت مصر دورها الرائد في المنطقة العربية . (8) عودة الملاحة بقناة السويس تحت السيادة المصرية الكاملة في يونيو 1975 م . | (1) رفض إسرائيل لمفاوضات التسوية السلمية واستمرار احتلالها للأراضي العربية . (2) تحرير الأراضي العربية التي احتلتها إسرائيل في حرب يونيو 1967م وإزالة آثار العدوان (3) محاولة إنهاء حالة اللا حرب واللا سلم التي فرضت على المنطقة . (4) الأصرار على رد كرامة الجندي المصري والعربي . (5) العمل على إعادة الملاحة البحرية في قناة السويس . | حرب أكتوبر |

5. قرار مجلس الأمن 338 و قرار 340

| 340 | 338 | نصوصه |
|--|---|--------------|
| - إيقاف وقف إطلاق النار بين الطرفين - رجوع القوى المتحاربة إلى ماكانت عليه قبل 22 أكتوبر . - وضع قوات طوارئ دولية للمراقبة . | - إيقاف وقف إطلاق النار بين الطرفين | |
| - وافقت عليه كل من مصر و اسرائيل و التزمت به مصر و اسرائيل . | - وافقت عليه كل من مصر و اسرائيل و لكن لم تلتزم به اسرائيل . | موقف البلدين |
| - نهاية الحرب بين مصر و اسرائيل . | - محاولة اسرائيل احتلال مدينة السويس و لكنها فشلت بسبب مقاومة الشعب و الجيش | النتائج |

ما رأيك في ؟

| |
|--|
| 1. شعار (الجيش و الشعب أيد واحدة) |
| أوافق : لأنه يعبر عن تضامن الجيش مع الشعب في ثورة 25 يناير . |
| 2. موقف محمد فريد من مسألة مد امتياز قناة السويس ؟ |
| أوافق : لأنه أدى إلى رفض مشروع امتياز قناة السويس . |
| 3. تشكيل اللجان الشعبية في ثورة 25 يناير ؟ |
| أوافق : لأنها أدت إلى حماية المواطنين و المؤسسات و القضاء على أعمال السرقة و النهب و القتل |
| 4. تصريح 28 فبراير 1922 ؟ |
| لا أوافق : لأنه أعطى لمصر استقلالاً غير حقيقى . |
| 5. تشابه ثورة 25 يناير و 1919 م ؟ |
| أوافق : لأنهم كانوا ثورات شعبية شارك فيها كل طوائف الشعب . |
| 6. موقف القوات المسلحة من ثورة 25 يناير و 30 يونية 1913 م ؟ |
| أوافق : لأن هذا الموقف يدل على أن القوات المسلحة المصرية ليست أداة للنظام لقمع الشعب . |

ماذا يحدث إذا

| |
|--|
| 1. لم تصدر بريطانيا تصريح 28 فبراير 1922 ؟ |
| لم يصدر دستور 1923 و لم تجرى إنتخابات |
| 2. لم يصدر قانون الإصلاح الزراعى ؟ |
| لم يتم القضاء على الأقطاع . |
| 3. هزمت مصر فى حرب أكتوبر ؟ |
| لم نستطع استرداد سيناء و ظلت الحرب قائمة بين مصر و اسرائيل . |
| 4. استجابات اسرائيل لنداءات السلام و المفاوضات السلمية ؟ |
| لم تقم حرب أكتوبر . |

معلومات تهكم

- من الزعماء الذين شاركوا أحمد عرابى فى الكفاح محمد عبيد و على الروبى و على فهمى و عبدالعال حلمى و محمود سامى البارودى و الأمام محمد عبده .
- وقفت إنجلترا ضد الحركة الوطنية فدبرت بعض الحوادث فى مدينة الإسكندرية
- تم الاتفاق الودى بين إنجلترا وفرنسا
- ازداد التدخل الأجنبى فى مصر نتيجة القروض
- كان الوفد المصرى يتألف من سعد زغلول - عبد العزيز فهمى - على الشعراوى
- نفى سعد زغلول الى جزيرة مالطة للمرة الاولى بينما تم نفيه للمرة الثانية الى سيشل
- فى 18 ديسمبر 1914م اعلنت إنجلترا الحماية على مصر
- يرتبط اسم طلعت حرب فى تاريخ مصر باستقلال الاقتصاد المصرى من السيطرة الأجنبية

- استطاع طلعت حرب تأسيس بنك مصر

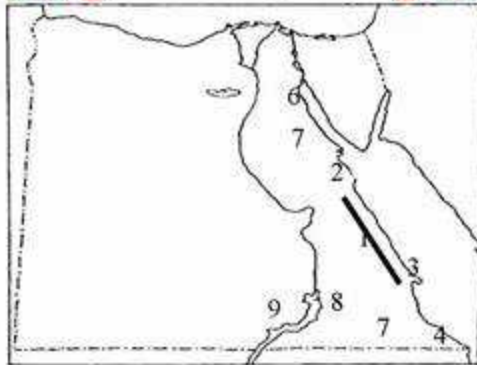
- بساهم بنك مصر فى تمويل المشروعات التجارية

- في 8 مارس 1919م القى القبض على سعد زغلول
- اصدرت بريطانيا تصريح 28 فبراير واعترفت فيه بمصر دولة مستقلة ذات سيادة و انتهاء حمايتها على مصر
- التحق بالجيش في عهد سعيد باشا الذي أمر بتجنيد اولاد عمه البلاد ومشايخها و أخذ يترقى حتى وصل إلى رتبة أميرالاي (عميد) في عهد توفيق .



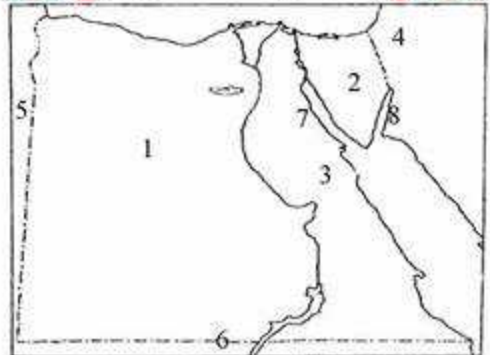


مقارم السطح في الصحراء الشرقية



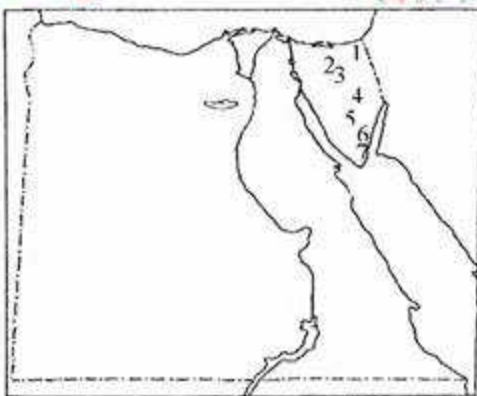
- (1) جبال البحر الأحمر
- (2) جبل الشايب
- (3) جبل حماطة
- (4) جبل علبة
- (5) هضبة الجلالة البحرية
- (6) هضبة الجلالة القبلية
- (7) هضبة العبايدة
- (8) وادي العلاقي
- (9) بحيرة ناصر

حدود البيئات الصحراوية



- (1) بيئة صحراوية (الصحراء الغربية)
- (2) بيئة صحراوية (شبه جزيرة سيناء)
- (3) بيئة صحراوية (الصحراء الشرقية)
- (4) دولة فلسطين
- (5) دولة ليبيا
- (6) دولة جمهورية السودان
- (7) خليج السويس
- (8) خليج العقبة

مقارم السطح في شبه جزيرة سيناء والمحيطات



- (1) وادي العريش
- (2) جبل المغارة
- (3) جبل الحلال
- (4) هضبة التيه
- (5) هضبة العجمة
- (6) جبل موسى
- (7) أعلى قمة جبلية في مصر سانت كاترين

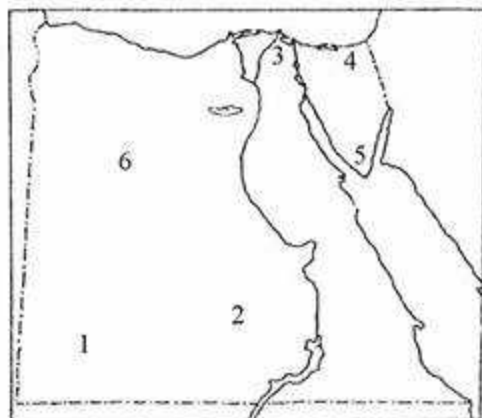
مقارم السطح في الصحراء الغربية



- (1) جبل العوينات
- (2) هضبة الجلف الكبير
- (3) الهضبة الوسطى
- (4) هضبة مارمرিকা
- (5) تجمعات من الرمال بحر الرمال العظيم
- (6) منخفض القطارة
- (7) واحة سيوة
- (8) واحة البحرية
- (9) واحة الفرافرة
- (10) واحة الدخلة

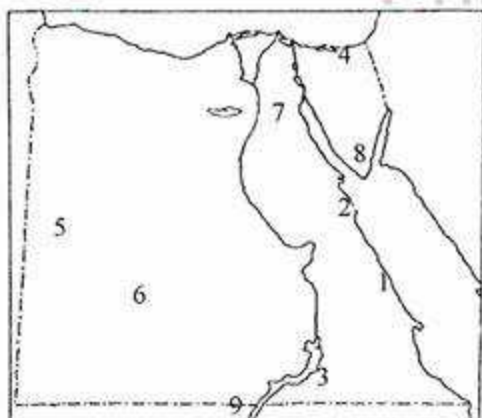
#الموجز - دليل التمييز

مشروعات تنمية البيئة الصحراوية



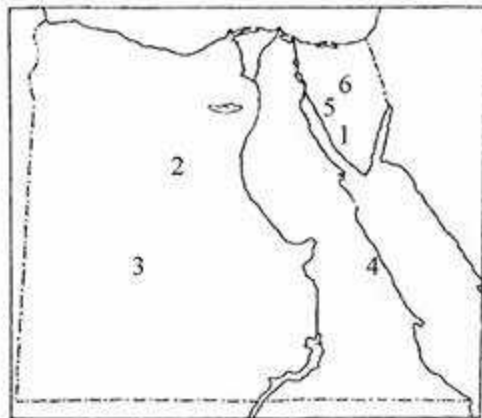
- (1) مشروع تنمية زراعية شرق العوينات
- (2) مشروع تنمية زراعية بوشكي
- (3) مشروع تنمية زراعية ترعة السلام
- (4) سد الروافعة
- (5) محمية رأس محمد
- (6) محمية الصحراء البيضاء

خارطوحت في امتحانات محافظات



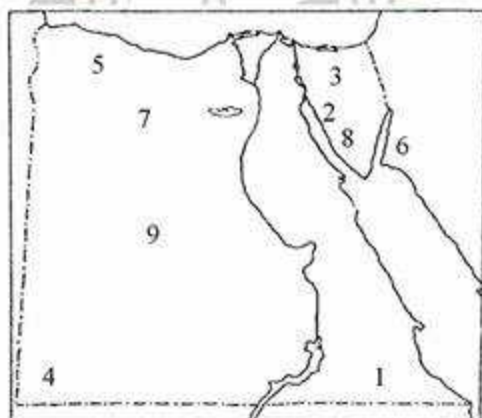
- (1) سلاسل جبال
- (2) أعلى قمة جبلية بالصحراء الشرقية
- (3) وادي
- (4) وادي
- (5) بحر
- (6) منجم فوسفات
- (7) هضبة
- (8) أعلى جبال في مصر
- (9) دولة

التعدين ومصادر الطاقة



- (1) منطقة لاستخراج المنجنيز أم بجمة
- (2) منطقة لاستخراج الحديد الواحات البحرية
- (3) منطقة لاستخراج الفوسفات أبو طرطور
- (4) منجم السكرى
- (5) منطقة لاستخراج البترول سيناء
- (6) منطقة لاستخراج الغاز الطبيعي سيناء

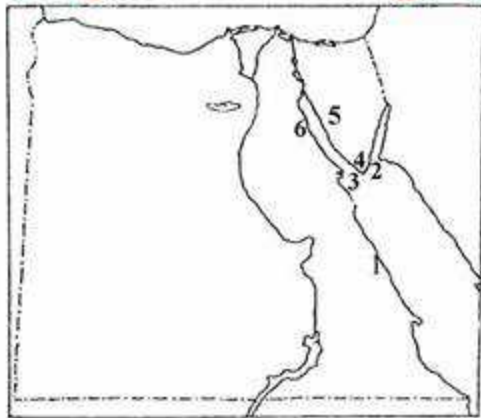
خارطوحت في امتحانات محافظات



- (1) هضبة تقطعها الأودية الجافة
- (2) حقل بترول
- (3) شبه جزيرة
- (4) جبل
- (5) هضبة
- (6) خليج
- (7) منخفض
- (8) منطقة لاستخراج المنجنيز
- (9) هضبة بالصحراء الغربية

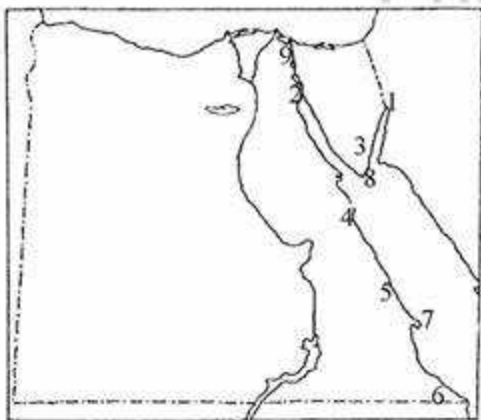
#الدراسات تختلف مع مدرّس محترف

ساحل شرم وجزر حقل بنزل البحر الاحمر



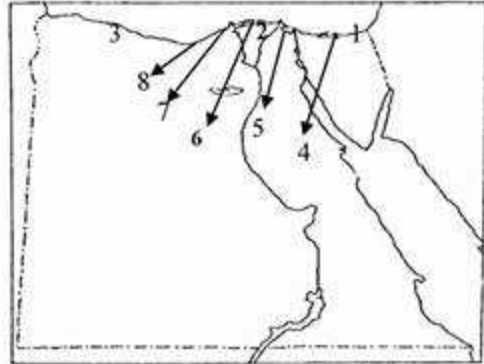
- (1) ساحل البحر الاحمر
- (2) جزيرة تيران
- (3) جزيرة سيدوان
- (4) شرم الشيخ
- (5) حقل بلاعيم البحري
- (6) حقل رأس غارب

مدن ورعوس على البحر الاحمر



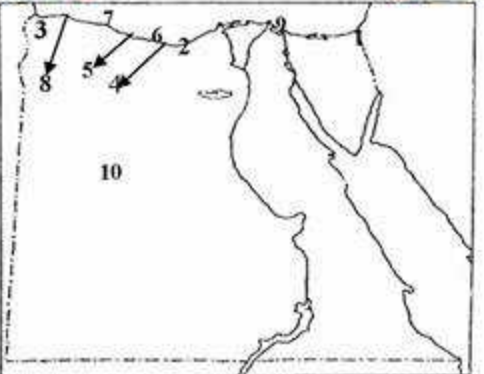
- (1) مدينة طابيا
- (2) مدينة السويح
- (3) مدينة شرم الشيخ
- (4) مدينة الغردقة
- (5) مدينة مرسى علم
- (6) مدينة حلايب
- (7) رأس بناس
- (8) رأس محمد
- (9) ممر ملاحي هام قناة السويس

ساحل وبحيرات حقل غاز البحر المتوسط



- (1) ساحل شمال سيناء
- (2) حقل أبو ماضي
- (3) الساحل الشمالي الغربي
- (4) بحيرة البردويل
- (5) بحيرة المنزلة
- (6) بحيرة البرلس
- (7) بحيرة إدكو
- (8) بحيرة مريوط

مدن وخليجان ورعوس على البحر المتوسط



- (1) مدينة رفح
- (2) مدينة مليونية الاسكندرية
- (3) مدينة السلوم
- (4) خليج العرب
- (5) خليج الحكمة
- (6) رأس الضبعة
- (7) رأس الحكمة
- (8) رأس علم الزوم
- (9) مرسى مطروح
- (10) مريوط إقليم



#الدراسات_تختلف_مع_مدارس_محترف



أكتب ما تشير إليه العبارة التالية

| | |
|-----------------------|--|
| البيئة الصحراوية | هي بيئة يقل فيها المطر ويسود الجفاف والفقر الشديد في النبات مع ندرة الحيوان وغالبًا ما يغطي سطحها الرمال و الحصى و الصخور . |
| المنخفضات | هو الجزء من الأرض الذي يقل مستواه عن مستوى سطح البحر مثل منخفض القطارة |
| الكثبان الرملية | هي تجمعات من الرمال تتراكم بفعل الرياح مثل بحر الرمال العظيم بين مصر وليبيا. |
| الواحات | أرض منخفضة تقوم بها الزراعة اعتمادًا على المياه الجوفية "العيون و الآبار" |
| الأودية الجافة | مجارى مائية كانت تجري بها المياه ثم جفت. |
| الآبار | هي مصدر للمياه الجوفية يقوم الإنسان بحفرها . |
| العيون | هي مصدر للمياه الجوفية تتدفق منه المياه تلقائياً لقربه من سطح الأرض . |
| النباتات الطبيعية | هو النبات الذي ينمو تلقائياً دون تدخل الإنسان . |
| محافظة الحدود | هي مطروح و الوادى الجديد و شمال سيناء و جنوب سيناء و البحر الأحمر وسميت بذلك لأنها تقع على حدود مصر مع الدول المجاورة . |
| الرعى | هو نشاط تقليدى قديم يقوم به سكان البيئة الصحراوية . |
| المحمية الطبيعية | هي مساحة محدودة من الأرض أو المياه أو بعض المناطق الساحلية تتميز بوجود كائنات حية ولها قيمة ثقافية و تقوم الدولة بحمايتها . |
| حركة الرمال | هي وجود كميات كبيرة من الرمال المفككة تقوم الرياح بتحريكها من مكان لآخر |
| التصحّر | هو تدهور التربة الزراعية وانخفاض القدرة الإنتاجية . |
| تملح التربة | هي تراكم الأملاح على سطح التربة و داخل مسامها |
| سياحة السفارى | هي سياحة التجول في الصحارى و المناطق الجبلية للعودة إلى الحياة في الطبيعة. |
| البيئة الساحلية | هي ذلك الجزء من اليابسة أو الأرض التى تطل على البحر أو المحيط و التى تتأثر به بشكل كبير في مناخها و أعمال سكانها و عاداتهم كما أنها تبدو في شكل شريط سهلى قد يتسع أو يضيق تبعاً لإقتراب الجبال أو الهضاب من البحر أو البعد عنه . |
| السهول الساحلية | أرض شبه مستوية السطح تمتد من خط الساحل إلى مسافات داخل اليابس |
| الجزر | هي مساحة من اليابس محاطة بالمياه من جميع الجهات. |
| البحيرات | هي مسطحات مائية تمتد عادة موازية للبحر و تتصل به عن طريق بواغيز . |
| الخلجان | هو توغل مياه البحر في اليابس و تحيط به الأرض من ثلاث جهات . |
| الرأس الأرضى | أمتداد أرضى من اليابس داخل البحر . |
| الشرم | خليج ذو مدخل ضيق متعمق في اليابس و مرتبط بمصب وادى جاف . |
| الشعب المرجانية | عبارة عن تكوينات من صخور مرجانية أفرزتها حيوانات بحرية دقيقة |
| السهول الساحلية للبحر | تتميز بالاتساع و الانبساط بشكل عام و تغطي معظمها الرمال الناعمة و يوجد بها |
| البحر المتوسط | ظواهر طبيعية مثل الكثبان الرملية و سلاسل التلال الجيرية |
| النوة | رياح شديدة تسبب ارتفاع موج البحر و تستمر لعدة أيام |
| الساحل الشمالى الغربى | ساحل يمتد من مدينة الاسكندرية شرقاً حتى مدينة السلوم غرباً |

تعليم لا حدود



بم تفسر & اذكر سبب واحد للعبارات التالية



- 1- وجود بعض السكان في البيئة الصحراوية؟
- لوجود المياه الجوفية وممارسة حرفة الرعي على الأعشاب الفقيرة أو مناطق التعدين واستخراج البترول.
- 2- وجود اختلاف في مظاهر السطح بين الصحراء الغربية والشرقية؟
- يميز الصحراء الغربية وجود المنخفضات بينما يميز الصحراء الشرقية وجود أودية وسلسلة جبلية.
- 3- نمو بعض النباتات الطبيعية في البيئة الصحراوية؟
- بعضها نباتات له جذور طويلة تصل إلى المياه الجوفية مثل أشجار النخيل أو إسفنجية تخزن مياه الأمطار مثل الصبار.
- 4- خطورة رياح الخماسين؟
- لأنها محملة بالأتربة والرمال والتي تضر الإنسان والمحاصيل الزراعية.
- 5- خطورة الأمطار التي تسقط في البيئة الصحراوية؟
- تسقط فجأة وتكون غزيرة تملأ الأودية وتسبب حدوث سيول مدمرة.
6. زراعة محاصيل في الواحات مثل التي تزرع في الوادي والدلتا؟
- وذلك بسبب وفرة المياه الجوفية و التربة الخصبة .
7. قلة عدد سكان البيئة الصحراوية رغم إتساع المساحة؟
- بسبب قلة الموارد الطبيعية .
8. معاناة سكان البيئة الصحراوية من مشكلات اقتصادية؟
- بسبب نقص الغذاء والهجرة إلى البيئات الأخرى نتيجة قلة الموارد .
9. انخفاض مستوى المعيشة؟
- لأن معظم السكان يعملون بحرفتي الرعي و الزراعة .
10. حرص سكان البيئة الصحراوية على تكوين علاقات طيبة مع البيئات الأخرى؟
- للاعتدال عليهم في سد حاجاتهم من السلع والمنتجات خاصة الزراعية.
11. انخفاض نسبة الأمية في المحافظات الصحراوية مؤخراً؟
- (ج) : بسبب جهود الدولة في مواجهة مشكلات التعليم .
12. تركيز سكان البيئة الصحراوية في الواحات؟
- لوفرة المياه الجوفية و التربة الخصبة التي ساعدت على قيام حرفة الزراعة .
13. تعتبر السياحة من الأنشطة الاقتصادية المهمة في البيئة الصحراوية؟
- صيغة أخرى : قيام النشاط السياحي في البيئة الصحراوية؟
- لعدة أسباب منها :

- (1) تمتعها بالنباتات والحيوانات والطيور النادرة مثل الكيش الجبلي.
- (2) مناظرها الخلابة مما يجذب السياح لسياحة السفارى مثل محمية الصحراء البيضاء بالفرافرة .
- (3) تعدد المزارات السياحية مثل دير سانت كاترين في سيناء وجبل موسى حيث السياحة الدينية .

(4) توافر المنشآت من فنادق ومخيمات وطرق جيدة لخدمة السياحة .

14. قيام الزراعة في الصحراء الغربية ؟

لوجود الواحات التي تتميز بوفرة المياه الحوفية و التربة الخصبة .

15-تنوع الأنشطة الاقتصادية في البيئة الصحراوية ؟

تتنوع الأنشطة الاقتصادية لتنوع الموارد الطبيعية:

- توافر الموارد المائية مثل الآبار والعيون والإيدى العاملة يساعد على قيام حرفتا الرعي والزراعة.
- توافر الأيدي العاملة والمواد الخام اللازمة للصناعات يساعد على قيام الصناعات الحرفية.
- توافر المعادن يساعد على قيام حرفة التعدين .
- وجود الطبيعة الخلابة و الحيوانات النادرة والمزارات السياحية مثل جبل موسى وتوافر الخدمات يساعد على قيام السياحة.

16. أهمية نشاط التعدين في البيئة الصحراوية ؟

حيث يعمل به عدد كبير من سكان البيئة الصحراوية .

17. قيام صناعة حفظ و تعليب التمور في البيئة الصحراوية ؟

وذلك لوفرة أشجار النخيل و الأيدي العاملة .

18. قيام صناعة السجاد اليدوي في البيئة الصحراوية ؟

وذلك لوفرة صوف الأغنام ووبر الأبل

19. الإهتمام بالمشروعات السياحية في البيئة الصحراوية ؟

لتنمية البيئة الصحراوية .

20. إقامة سد الروافعة على وادي العريش ؟

لحجز المياه والاستفادة منها بدلاً من إهدارها

21. استخراج الكثبان الرملية ؟

لتنشيط الرمال ومراقبة حركتها على الطرق .

22.إنشاء شبكة من الطرق ؟

لتسهيل حركة التجارة ونقل الركاب لربط الصحراء بالوادي والدلتا .

23.ينتقل الرعاة من مكان لآخر ؟

بحثاً عن الماء والعشب .

24.أهمية الثروة الحيوانية في البيئة الصحراوية ؟

حيث توفر اللحوم والألبان والجلود والصوف .

25.ينخفض منسوب المياه في الآبار ؟

بسبب الاسراف في استخدام المياه خاصة في الزراعة.

26.تملح التربة في البيئة الصحراوية ؟

بسبب تبخر المياه واستقرار الملح على سطح التربة مما يؤدي إلى تدهورها .

27.الأهمية الاقتصادية للجزر الساحلية على البحر الأحمر ؟

يستخدمها السكان كمراكز للصيد من البحر وفي السياحة .

28. ضيق السهل الساحلى على خليج العقبة ؟

لأقتراب الجبال من الخليج

29. قيام النشاط الزراعى على الساحل الشمالى الغربى ؟

لأن الأمطار تسقط شتاءً على ساحل البحر المتوسط

30. نمو الشعاب المرجانية على سواحل البحر الأحمر ؟

وذلك بسبب : (1) هدوء حركة المياه . (2) دفء الحرارة . (3) صفاء المياه . (4) المياه الضحلة .

31. أهمية الشعاب المرجانية ؟

حيث تمثل عاملاً مهماً للجذب السياحى من شتى أنحاء العالم

32. اعتبار المدن الساحلية منطقة جذب سكانى ؟

وذلك لعدة أسباب :

(1) وجود الموارد الغذائية و المواد الخام التى هى أساس التنمية الاقتصادية .

(2) تعتبر المنطقة الساحلية مجالاً حيويًا للنقل البحرى والتجارة مثل ميناء السخنة .

(3) وجود العديد من المناظر الطبيعية البيئية الهامة التى تعتبر مقصداً أساسياً للترويج والجذب السياحى مثل مدينة الاسكندرية .

33. ضيق السهول الساحلية المطلة على البحر الاحمر ؟

لأقتراب الجبال من البحر

34. اتساع السهول الساحلية المطلة على البحر المتوسط ؟

لابتعاد الحافات المرتفعة عنها البحر

35. أهمية الكثبان الرملية و التلال الجيرية على طول الساحل الشمالى لمصر ؟

لها من دور مهم فى تخزين مياه الأمطار ويستفاد منها فى حفر الآبار .

36. اعتدال المناخ فى البيئة الساحلية ؟

حيث يلعب البحر دوراً هاماً فى تطيف درجة حرارة الجو معظم فصول السنة

37. تفاوت اتساع مساحة السهل الساحلى على البحر الاحمر ؟

حيث تتميز بالضيق لأقتراب الجبال وتتسع بشكل عام بالاتجاه جنوباً لابتعاد الجبال .

38. إنشاء عدد من الموانئ المهمة على ساحل البحر الاحمر ؟

وذلك لكثرة الشروم و الخلجان على خليج العقبة و السويس .

ما النتائج المترتبة على

1. ندرة الامطار وانتشار الجفاف فى البيئة الصحراوية ؟

الفقر الشديد فى النباتات .

2. توافر مياه الآبار و العيون و التربة الخصبة فى الواحات ؟

قيام حرفة الزراعة فى الواحات .

3. حدوث السيول فى بعض مناطق البيئة الصحراوية فى مصر ؟

امتلاء الأودية الجافة .

4. تعرض مصر لرياح الخماسين فى مارس و إبريل ؟

الأضرار بصحة الانسان و المحاصيل الزراعية .

5. قيام النشاط الزراعى فى الواحات ؟

أصبحت الواحات من مناطق التركيز السكانى فى البيئة الصحراوية .

6. قدرة النبات الطبيعي على تحمل الجفاف و الحرارة ؟
- تعدد النباتات الطبيعية في البيئة الصحراوية مثل الصبار و النخيل و الدوم و النباتات الابرية .
7. وجود مناطق للتعدين واستخراج البترول في البيئة الصحراوية ؟
- قيام حرفة التعدين .
8. الجهود التي تبذلها الدولة في مواجهة مشكلات التعليم في البيئة الصحراوية ؟
- انخفاض نسبة الأمية مؤخرًا في البيئة الصحراوية .
9. الموارد المحدودة وانخفاض مستوى المعيشة في البيئة الصحراوية ؟
- هجرة السكان إلى البيئات الأخرى و الاعتماد على البيئات الأخرى لسد احتياجاتهم .
10. خلو الصحراء الشرقية من الواحات ؟
- عدم قيام حرفة الزراعة و انخفاض عدد السكان بها .
11. كثرة أشجار النخيل في البيئة الصحراوية ؟
- قيام حرفة حفظ وتعليب التمور .
12. توافر المزارات الدينية في البيئة الصحراوية ؟
- قيام نشاط السياحة الدينية .
13. حركة الرمال في البيئة الصحراوية ؟
- (1) إتلاف الحقول الزراعية . (2) تعطيل حركة النقل لتراكم الرمال على الطرق .
- (3) ردم الآبار وزيادة التصحر .
14. السيول في البيئة الصحراوية ؟
- (1) تدمير الحقول الزراعية و المباني . (2) تدمير الطرق مما يؤدي إلى تعطيل حركة النقل
15. إنشاء السدود على الأودية في البيئة الصحراوية ؟
- تخزين المياه والاستفادة منها عند الحاجة .
16. كثرة الخلجان و الشروم على خايج السوبس و العقبة ؟
- سهولة إنشاء الموانئ
17. انتشار الجزر الساحلية بالقرب من سواحل البحر الاحمر و المتوسط ؟
- أصبحت مراكز للصيد و الجذب السياحي .
18. انتشار الكتبان الرملية و التلال على طول الساحل الشمالى ؟
- تخزين مياه الأمطار و سهولة حفر الآبار .
19. انتشار الشعاب المرجانية على ساحل البحر ؟
- أصبحت سواحل البحر الأحمر من مناطق الجذب السياحي
20. هدوء و صفاء و ضحالة المياه على سواحل البحر الأحمر ؟
- نمو الشعاب المرجانية .

ماذا يحدث إذا ... ؟

1. اهتمت الدولة بحفر الآبار في البيئة الصحراوية ؟
- توفير المياه الجوفية & زيادة مساحة الأراضي الزراعية & زيادة الإنتاج الزراعى .
2. اهتمت الدولة بإقامة المدارس و الجامعات في البيئة الصحراوية ؟
- انخفاض نسبة الأمية .

3. سقطت الامطار بغزارة على الصحارى المصرية ؟

وفرة النباتات & وفرة المراعى الطبيعية .

4. اسرف سكان الصحارى في استهلاك المياه الجوفية ؟

انخفاض منسوب المياه الجوفية .

5. شجعت الدولة إقامة المجتمعات العمرانية في الصحارى المصرية ؟

زيادة اعداد السكان في البيئة الصحراوية .

6. لم توجد التلال الجيرية على ساحل البحر المتوسط ؟

صعوبة حفر الابار و لم تخزن مياه الامطار

7. سقطت الامطار كل عام على ساحل البحر الاحمر ؟

1. نمو النباتات الطبيعية وبالتالي توافر المراعى التى تقوم عليها حرفة الرعى .

2. قيام حرفة الزراعة .

8. اقتربت المرتفعات من سواحل البحر المتوسط ؟

ضيق السهول الساحلية على البحر و بالتالى صعوبة قيام حرفة الزراعة و الرعى

9. لم تجد الجزر الساحلية بالبحر الاحمر ؟

لا توجد مراكز للصيد و السياحة .

10. ازدادت سرعة و عمق مياه البحر الاحمر ؟

عدم نمو الشعب المرجانية ؟

11. لم تسقط الامطار الشتوية على سواحل البحر المتوسط ؟

عدم قيام حرفة الزراعة و الرعى ؟

12. لم توجد مناظر طبيعية خلابة على سواحل مصر ؟

عدم قيام حرفة السياحة فى البيئة الساحلكية .

13. لم تلق مخلفات المصانع و الصرف الصحى فى مياه البحر ؟

لم تتلوث الشواطى المصرية .

14. لم تتنوع مراد البيئة الساحلية الطبيعية ؟

لم تتنوع الأنشطة الاقتصادية وبالتالي لم تكون منطقة جذب سكانى .

15. لم تقم الدولة بوضع مصدات على السواحل ؟

تآكل السواحل .

16. لم تظل مصر على البحر الاحمر و البحر المتوسط ؟

لم توجد بيئة ساحلية فى مصر .

17. أهملت الدول المحميات و الفنادق و الطرق الجديدة فى البيئة الصحراوية ؟

ضعف السياحة فى البيئة الصحراوية .

18. لم توجد مناطق التعدين فى البيئة الصحراوية ؟

عدم قيام حرفة التعدين فى البيئة الصحراوية

19. لم تتعرض مصر لرياح الخماسين ؟

عدم تأثر المحاصيل الزراعية و صحة الانسان

20. لم توجد مياه جوفية فى البيئة الصحراوية ؟

عدم توافر حرفة الزراعة بها وبالتالي ضعف التبادل التجارى بين البيئة الصحراوية و البيئات الأخرى

21. أهتمت الدولة بإنشاء المدارس فى البيئة الصحراوية ؟

انخفاض نسبة الأمية و زيادة نسبة التعليم فى البيئة الصحراوية .

دليل - برهن على صحة العبارة التالية

س1/ تبذل الدولة جهودًا كبيرة من أجل تنمية البيئة الصحراوية ؟

- الاهتمام بمشاريع استصلاح الأراضي في البيئة الزراعية.
- حفر الآبار الآلية العميقة في مناطق الاستصلاح مثل مشروع شرق العوينات.
- إنشاء شبكة من الطرق لتسهيل حركة التجارة ، ونقل الركاب لربط الصحراء بالوادي والدلتا .
- تشجيع سياحة السفاري
- الاهتمام بالمشروعات السياحية وتشجيع المستثمرين على إنشاء المنتجعات والفنادق.
- الاهتمام بالمحميات الطبيعية مثل محمية الصحراء البيضاء ومحمية رأس محمد.
- إقامة مشروع استزراع الكتبان الرملية جنوب واحة سيوة في مناطق كثيرة من الصحاري لتثبيت الرمال ومراقبة حركتها في الطرق.
- إنشاء سدود على الأودية التي تتعرض للسيول وفقا لأسس علمية لحجز المياه والاستفادة منها بدلا من إهدارها مثل سد الروافعة على وادي العريش.

2. تختلف السهول الساحلية على البحر الأحمر عن السهول الساحلية على البحر المتوسط ؟

أولا / سهول ساحلية مطلة على البحر المتوسط

- (1) تتميز بالاتساع والانبساط بشكل عام لابتعاد الحافات المرتفعة عنها البحر وتغطي معظمها الرمال الناعمة .
- (2) يوجد بها ظاهرات طبيعية مثل الكتبان الرملية وسلاسل التلال الجيرية على طول الساحل الشمالي الغربي للبحر المتوسط وهي تقوم بدور مهم في تخزين مياه الأمطار والإفادة منها في حفر الآبار . للكتبان الرملية و التلال الجيرية أهمية كبيرة على سواحل البحر المتوسط لما لها من دور مهم في تخزين مياه الأمطار ويستفاد منها في حفر الآبار .

ثانيا / سهول ساحلية مطلة على البحر الأحمر

- (1) تمتد بين البحر الأحمر شرقا وجبال البحر الأحمر
- (2) تتميز بالضيق وتتسع بشكل عام بالاتجاه جنوباً
- (3) السهل الساحلي على خليج العقبة يتسم بالضيق لاقتراب الجبال من البحر أما السهل الساحلي على جانبي خليج السويس فهو أكثر اتساعاً .

3. يعتبر ساحل البحر المتوسط مراعى طبيعية ؟

لنمو النباتات الطبيعية التي تتمثل في الحشائش و الأعشاب التي تعتبر مراعى طبيعية لبعض الحيوانات مثل الماعز و الأغنام .

4. للبحر أثر كبير في عادات سكان البيئة الساحلية ؟

حيث نجد :

أولا / عادات إيجابية :

- (1) العمل في جماعة لأن أعمال البيئة الساحلية تحتاج إلى التعاون مثل الصيد والشحن وتفريغ السفن .
- (2) حب المخاطرة والشجاعة في مواجهة الأخطار بسبب عملهم في البحر .
- (3) مشاركة المرأة للرجل بنصيب وافر في معظم الأعمال لأن الرجال يقضون معظم أوقاتهم في الأعمال المرتبطة بالبحر .
- (4) الاحتفال بمسابقات الصيد والمهرجانات الساحلية والعباب الشاطئي .
- (5) الانفتاح على العالم الخارجي .

ثانيا / عادات سلبية

- (1) الهجرة غير الشرعية. (2) تصريف المخلفات المنزلية والصناعية في البحر . (3) الصيد غير القانوني .

قارن بين

1. قارن بين الصحراء الغربية و الشرقية و شبه جزيرة سيناء من حيث حدودها و مساحتها و محافظتها

| (1) الصحراء الغربية | (2) الصحراء الشرقية | (3) شبه جزيرة سيناء |
|--|--|---|
| يحدّها من : <u>الشرق</u> : وادي النيل والدلتا . <u>الغرب</u> : الحدود المصرية الليبية . <u>الشمال</u> : البحر المتوسط . <u>الجنوب</u> : الحدود المصرية السودانية | يحدّها من : <u>الشرق</u> : البحر الأحمر . <u>الغرب</u> : وادي النيل . <u>الشمال</u> : شرق الدلتا . <u>الجنوب</u> : الحدود المصرية السياسية مع دولة جمهورية السودان | يحدّها من : <u>الشرق</u> : خليج العقبة و الحدود المصرية الفلسطينية . <u>الغرب</u> : خليج السويس وقناة السويس . <u>الشمال</u> : البحر المتوسط . <u>الجنوب</u> : البحر الأحمر . |
| 68% من مساحة مصر . أكبر محافظات محافظتها الوادي الجديد ومحافظه مطروح . | 22% من مساحة مصر . أكبر محافظات محافظتها البحر الأحمر . | 6% من مساحة مصر . يوجد بها محافظتا شمال سيناء وجنوب سيناء . |

2. قارن بين العادات و التقاليد الايجابية و السلبية لسكان الينة الصحراوية ؟

| الاجابة | السلبيه |
|---|--|
| (1) الحفاظ على التقاليد و التراث القديم في عادات الزواج (2) احترام المجالس العرفية التي يرأسها شيخ القبيلة . (3) الحرص على تكوين العلاقات الطيبة مع سكان البيئات الأخرى . (4) إكرام الضيف . | (1) الزواج المبكر . (2) عمل الأطفال في الرعي و الزراعة . (3) العلاج بوسائل بدائية مما يؤدي إلى زيادة الوفيات خاصة بين الأطفال . |



متشكرفهم

مع الفبصر

الدراسات في لبله

الامتحان هننلم



3- قارن بين البيئة الساحلية على البحر المتوسط و البحر الأحمر

| وجه المقارنة | البيئة الساحلية على سواحل البحر المتوسط | البيئة الساحلية على سواحل البحر الأحمر |
|-----------------|---|---|
| الامتداد | تمتد على طول ساحل البحر المتوسط وتمتد من مدينة رفح في أقصى الشرق حتى مدينة السلوم غرباً . | تمتد من مدينة طابا شمالاً إلى جنوب مدينة حلايب حتى الحدود السودانية . |
| الأقسام | تنقسم إلى ثلاثة أقسام : (1) الساحل الشمالي لشبه جزيرة سيناء : ويمتد من مدينة رفح حتى مدينة بورسعيد . (2) ساحل شمال الدلتا : يمتد من بورسعيد حتى غرب الإسكندرية . (3) الساحل الشمالي الغربي : من غرب الإسكندرية حتى غرب السلوم . | تنقسم إلى قسمين : (1) من مدينة السويس حتى مدينة حلايب جنوباً (2) على خليج العقبة من مدينة طابا إلى رأس محمد وعلى خليج السويس من مدينة رأس محمد إلى مدينة السويس . |
| العقول الساحلية | (1) تتميز بالاتساع والانبساط بشكل عام لابتعاد الحافات المرتفعة عنها البحر وتغطي معظمها الرمال الناعمة . (2) يوجد بها ظاهرات طبيعية مثل الكثبان الرملية وسلاسل التلال الجيرية على طول الساحل الشمالي الغربي للبحر المتوسط وهي تقوم بدور مهم في تخزين مياه الأمطار والإفادة منها في حفر الآبار . | (1) تمتد بين البحر الأحمر شرقاً وجبال البحر الأحمر (2) تتميز بالضيق وتتسع بشكل عام بالاتجاه جنوباً (3) السهل الساحلي على خليج العقبة يتسم بالضيق لآل الجبال من البحر أما السهل الساحلي على جانبي خليج السويس فهو أكثر اتساعاً . |
| الخلجان | توجد عدة خلجان متسعة مثل : (1) خليج أبوقير (2) خليج العرب . (3) خليج الحكمة . | من أمثلة الخلجان على البحر الأحمر : (1) خليج السويس . (2) خليج العقبة . |
| الرءوس الأرضية | توجد عدة رءوس أرضية مثل : (1) رأس الحكمة (2) رأس الضبعة . (3) رأس علم الروم . | تقل الرءوس على ساحل البحر الأحمر وذلك بسبب استقامة الساحل و من أمثلة الرءوس الأرضية على البحر الأحمر : رأس بناس . |
| البحيرات | توجد العديد من البحيرات وهي بالترتيب من الشرق إلى الغرب : بحيرة البردويل - بحيرة المنزلة - بحيرة البرلس - بحيرة إدكو - بحيرة مريوط | لا يوجد |
| الغروب | لا توجد شروم | توجد عدة شروم على سواحل البحر الأحمر مثل شرم الشيخ ونويبع . |
| الغاب المرجانية | لا توجد | تنتشر في مناطق متفرقة بالمياه الضحلة لساحل البحر الأحمر و تتميز بمنظرها وألوانها الخلابة . |
| الحرارة | تميل البيئة الساحلية على البحر الأحمر وخليج السويس والعقبة إلى الدفاء طوال العام مع ارتفاع درجة الحرارة صيفاً . | تمتاز بصفة عامة بمناخ معتدل طوال العام حيث يلعب البحر دوراً هاماً في تلطيف درجة حرارة الجو معظم فصول السنة وإن مالت إلى الارتفاع صيفاً . |
| الأمطار | - تمتاز مناطق البيئة الساحلية للبحر الأحمر بقل الأمطار أو ندرتها . - أحياناً تسقط الأمطار بشدة على شكل سيول وينتج عنها دمار كبير للطرق والمنشآت . | - تسقط الأمطار شتاءً على ساحل البحر المتوسط مما يساعد على إقامة الزراعة في مناطق مختلفة شمال سيناء والساحل الشمالي الغربي لمصر . |

| | | |
|-------------------|---|--|
| النباتات الطبيعية | تتمثل في الحشائش و الأعشاب التي تعتبر مراعى طبيعية لبعض الحيوانات مثل الماعز و الأغنام . ومن أمثلة الأشجار : أشجار الزيتون | تتمثل في الشجيرات المتنوعة التي تنمو في المناطق الطينية ومن أمثلة الأشجار : أشجار الغرقد و المانجروف |
| الحيوانات البرية | الغزلان □ الثعالب □ | القط البرى □ القليل جداً من الغزلان . |

4- مظاهر السطح في البيئة الصحراوية

| الصحراء الغربية | الصحراء الشرقية | شبه جزيرة سيناء |
|---|--|--|
| <ul style="list-style-type: none"> جبل العيونات : يمتد في جنوب غرب مصر و يوجد في ثلاث دول وهي : مصر - السودان - ليبيا | <ul style="list-style-type: none"> سلاسل جبال البحر الأحمر التي تمتد من الشمال الغربي إلى الجنوب الشرقي وأكثرها ارتفاعاً جبل الشايب . | <ul style="list-style-type: none"> شبه جزيرة سيناء : في الجنوب : 1 جبل سانت كاترين : يعتبر أعلى قمة جبلية في مصر ويقع جنوب سيناء . 2 جبل موسى في الشمال : وهي قمم جبلية قبايية قليلة الارتفاع منها : 1 جبل المغارة . 2 جبل الحلال . |
| <ul style="list-style-type: none"> في الشمال : هضبة مارمريكا في الوسط : الهضبة الوسطى في الجنوب : الجلف الكبير . | <ul style="list-style-type: none"> الهضاب الشمالية : 1 هضبة الجلالة البحرية . 2 هضبة الجلالة القبلية . 3 هضبة المعازة . الهضبة الجنوبية : 1 هضبة العباودة | <ul style="list-style-type: none"> وسط سيناء : 1 هضبة التيه . 2 هضبة العجمة . يخترقهم وادي العريش الذي يصب في البحر المتوسط . |
| <ul style="list-style-type: none"> بحر الرمال العظيم بين مصر و ليبيا | | |
| <ul style="list-style-type: none"> منخفض القطارة . | <ul style="list-style-type: none"> تحتفى المنخفضات من الصحراء الشرقية . | |
| <ul style="list-style-type: none"> الداخلة . الفرافرة . سيوة . الخارجة . البحرية . | | |
| الأودية الجافة | <ul style="list-style-type: none"> تنتشر الأودية الجافة ومن أمثلتها وادي العلاقي الذي يقطر كلا من سلاسل جبال البحر الأحمر وهضبة العباودة . | وادي العريش |

5- قارن بين الحرف داخل البيئة الصحراوية

| | |
|--|------------------|
| <ul style="list-style-type: none"> من القبائل التي تقوم بحرفة الرعى : (1) قبيلة أولاد علي : في محافظة مطروح بالصحراء الغربية . (2) قبائل العباودة : بالصحراء الشرقية . (3) بالإضافة إلى بعض القبائل بسيناء . من أهم حيوانات الرعى في البيئة الصحراوية الماعز و الأغنام و الإبل الثروة الحيوانية في البيئة الصحراوية لها أهمية كبيرة حيث توفر اللحوم والألبان والجلود والصوف . | أ ب ج د |
|--|------------------|

| الزراعة | <p>- توجد فى الواحات مثل واحة سيوة و الغرافرة والبحرية والخارجة والداخلة .</p> <p>- أهم المحاصيل الزراعية : (1) <u>الحبوب الغذائية</u> : مثل القمح والشعير وهى هامة لسد حاجات السكان الغذائية .</p> <p>(2) <u>النباتات الشجرية</u> : مثل أشجار النخيل والزيتون والمشمش .</p> <p>(3) <u>النباتات الطبية</u> : التى تستخدم فى علاج بعض الأمراض .</p> | | | | | | | | | | | | |
|--------------------------|--|----------|--------------------------------|--------|-----------------|--------|--------------------------------|----------|--------------------------------|----------|---------------------------------|-------|-------------------------------|
| الصناعات الحرفية | <p>■ ترتبط الصناعات الحرفية فى البيئة الصحراوية بتوافر الموارد اللازمة للصناعة .</p> <p>■ من أهم الصناعات :</p> <p>1- صناعة <u>السجاد اليدوي</u> بسبب وفرة المواد الخام اللازمة لقيام هذه الصناعة وهى صوف الأغنام ووبر الأيل .</p> <p>2- صناعة <u>حفظ التمور</u> بسبب كثرة أشجار النخيل و وفرة الأيدي العاملة .</p> | | | | | | | | | | | | |
| التعدين واستخراج البترول | <p>■ يعمل عدد كبير من السكان فى حرفة التعدين واستخراج البترول .</p> <p>■ استقر عدد كبير منهم فى المراكز العمرانية القريبة من مناطق التعدين وحقول البترول.</p> <p>- أهم المعادن فى البيئة الصحراوية :</p> | | | | | | | | | | | | |
| | <table border="1"> <thead> <tr> <th>المعدن</th> <th>مناطق الاستخراج</th> <th>المعدن</th> <th>مناطق الاستخراج</th> </tr> </thead> <tbody> <tr> <td>الحديد</td> <td>منطقة الجديدة بالواحات البحرية</td> <td>المنجنيز</td> <td>منطقة أم بجمة بشبه جزيرة سيناء</td> </tr> <tr> <td>الفوسفات</td> <td>منطقة أبوظرطور بالواحات الخارجة</td> <td>الذهب</td> <td>مناجم السكرى بالصحراء الشرقية</td> </tr> </tbody> </table> | المعدن | مناطق الاستخراج | المعدن | مناطق الاستخراج | الحديد | منطقة الجديدة بالواحات البحرية | المنجنيز | منطقة أم بجمة بشبه جزيرة سيناء | الفوسفات | منطقة أبوظرطور بالواحات الخارجة | الذهب | مناجم السكرى بالصحراء الشرقية |
| المعدن | مناطق الاستخراج | المعدن | مناطق الاستخراج | | | | | | | | | | |
| الحديد | منطقة الجديدة بالواحات البحرية | المنجنيز | منطقة أم بجمة بشبه جزيرة سيناء | | | | | | | | | | |
| الفوسفات | منطقة أبوظرطور بالواحات الخارجة | الذهب | مناجم السكرى بالصحراء الشرقية | | | | | | | | | | |
| السياحة | <p>■ من أهم مصادر الطاقة فى البيئة الصحراوية <u>البترول</u> و <u>الغاز الطبيعي</u> .</p> <p>■ من أهم مناطق استخراج البترول و الغاز الطبيعي فى البيئة الصحراوية سيناء و الصحراء الغربية .</p> <p>■ تعد السياحة من الأنشطة الاقتصادية الهامة فى البيئة الصحراوية لعدة أسباب منها :</p> <p>(1) تمتعها بالنباتات والحيوانات والطيور النادرة مثل الكيش الجبلى.</p> <p>(2) مناظرها الخلابة مما يجذب السياح لسياحة السفارى مثل محمية الصحراء البيضاء بالغرافرة .</p> <p>(3) تعدد المزارات السياحية مثل دير سانت كاترين فى سيناء وجبل موسى حيث السياحة الدينية .</p> <p>(4) توافر المنشآت من فنادق ومخيمات وطرق جيدة لخدمة السياحة .</p> | | | | | | | | | | | | |

6- قارن بين الحرف المختلفة فى البيئة الساحلية

| | |
|---------|---|
| الصيد | <p>■ يعد من الحرف الرئيسية فى البيئة الساحلية .</p> <p>■ يعمل فيها عديد من السكان بالإضافة إلى العمل فى حفظ وتعليب الأسماك .</p> <p>■ من أهم أسماك البحر المتوسط <u>البورى</u> و <u>السردين</u> ومن أهم أسماك البحر الأحمر <u>المرجان</u> و <u>الدنيس</u> .</p> <p>■ تعتبر مياه <u>البحيرات</u> و <u>البحار</u> الموجودة بهذه البيئة المصدر الرئيسى للأسماك فى مصر .</p> <p>■ يبلغ إنتاج البحار و البحيرات السنوى ما يزيد على 60٪ من إنتاج مصر من الأسماك .</p> <p>■ تعد بحيرة المنزلة أكبر البحيرات من حيث الإنتاج .</p> |
| التعدين | <p>■ تتميز البيئة الساحلية باستخراج البترول و الغاز الطبيعي</p> <p>■ من أهم حقول البترول حقول <u>بلاعيم</u> و <u>مرجان</u> و من أهم حقول الغاز الطبيعي <u>أبو ماضى</u> شمال الدلتا .</p> |
| الريعى | <p>■ تنتشر مراعى الأغنام و الماعز و الإبل فى :</p> <p>(1) <u>المناطق الساحلية</u> : خاصة الساحل الشمالى <u>ساحل مريوط</u> (بين الإسكندرية و السلوم).</p> <p>(2) شمال سيناء .</p> |
| الزراعة | <p>■ من أهم المحاصيل التى تنتج :</p> <p>(1) <u>أشجار الزيتون</u> : على طول الساحل الشمالى و شمال سيناء ويستخرج منها أجود أنواع زيت الزيتون .</p> <p>(2) <u>مزارع الفاكهة</u> : خاصة التين و الموالح (البرتقال و الليمون) .</p> <p>(3) <u>محاصيل الحقل</u> : كالشعير .</p> |
| السياحة | <p>■ تعد الشواطئ على ساحلى البحر المتوسط و البحر الأحمر من أجمل المصايف و المشاتى للسانحين من مختلف بلدان العالم و من أهم مناطق السياحة الترفيهية الرئيسية للمصريين</p> <p>■ من الأنشطة المرتبطة بالسياحة و يعمل بها بعض سكان البيئة الساحلية استقبال السياح و الأعمال الفندقية .</p> |

| | |
|---------|--|
| التجارة | يعمل بعض السكان في : (1) شحن وتفريغ السفن في الموانئ . (2) نقل البضائع والمسافرين عن طريق البحر . |
| الصناعة | يعمل السكان في عديد من الصناعات المختلفة : (1) صناعة الغزل والنسيج . (2) صناعة الحديد والصلب . (3) معامل تكرير البترول بالسويس . (4) استخراج البترول والغاز الطبيعي . (5) صناعة السفن . |

أسئلة متنوعة

س1/ أمامك مجموعة من الظواهر الجغرافية ضعها في المكان المناسب في الجدول التالي ؟
 جبل العوينات - هضبة العباددة - المنخفضات - وادي العلاقي - وادي العريش - جبل موسى - جبل
 علبة - جبل سانت كاترين - هضبة الجلالة البحرية و القبلية - هضبة التيه - هضبة العجمة - هضبة
 مارمريكا - سد الروافعة - الكثبان الرملية - التلال الجيرية - شرم نوبيع - رأس بناس - رأس محمد
 - رأس الحكمة - رأس الضبعة - رأس علم الروم - خليج أبي قير - خليج الحكمة - أشجار
 المانجروف

| الصحراء الغربية | الصحراء الشرقية | سيناء | ساحل البحر الاحمر | ساحل البحر المتوسط |
|-----------------|-----------------|-------|-------------------|--------------------|
| | | | | |
| | | | | |
| | | | | |
| | | | | |

- س2/ ما رأيك في : الجهود التي تبذلها الدولة لحل مشكلات التعليم في البيئة الصحراوية ؟
 أوافق : لأنها ساهمت في انخفاض نسبة الأمية في البيئة الصحراوية و ساهمت أيضًا في زيادة نسبة
 التعليم مما أدى إلى وجود المهندسون والأطباء و الأساتذة .
- س3/ ما رأيك في : الجهود التي تبذلها الدولة لحل مشكلات البيئة الصحراوية ؟
 أوافق : لأنها ساهمت في تنمية البيئة الصحراوية .
- س4/ ما رأيك في : جهود الدولة لتعديل بعض العادات السلبية ؟
 أوافق : لأنها أدت إلى :
 (1) التوعية بعدم عمالة الأطفال أو الزواج المبكر . (2) إقامة المستشفيات وتوفير الرعاية الصحية .
- س6/ ما مقترحتك لتنمية البيئة الصحراوية ؟
 (1) الاهتمام بمشاريع استصلاح الأراضي في البيئة الصحراوية .
 (2) حفر الآبار الآلية العميقة في مناطق الاستصلاح مثل مشروع شرق العوينات .
 (3) إنشاء شبكة من الطرق لتسهيل حركة التجارة ونقل الركاب لربط الصحراء بالوادي والدلتا .
 (4) الاهتمام بالمحميات الطبيعية مثل محمية الصحراء البيضاء بالوادي الجديد ومحمية رأس محمد التي
 توجد جنوب سيناء .
 (5) إقامة مشروع استزراع الكثبان الرملية جنوب واحة سيوة وفي مناطق كثيرة من الصحاري
 لتثبيت الرمال ومراقبة حركتها على الطرق .
 (6) إنشاء سدود على الأودية التي تتعرض للسيول وفقا لأسس علمية لحجز المياه والاستفادة منها بدلاً
 من إهدارها مثل سد الروافعة على وادي العريش .

كبسولات في الدراسات

- تتمثل الخصائص الطبيعية للبيئة الصحراوية في **التضاريس** و **المناخ** و **التربة** و **النباتات الطبيعية** و **الحيوانات البرية**.
- يوجد جبل العوينات في الصحراء **الشرقية**.
- يعتبر جبل **سانت كاترين** هو أعلى جبال مصر ويوجد في سيناء ، بينما يعتبر جبل **الشايب** هو أعلى جبال البحر الأحمر ارتفاعاً، ويوجد فالصحراء الشرقية .
- توجد هضبة **مارمريكا** في شمال الصحراء الغربية .
- يمتد جبل العوينات في ثلاث دول هي **مصر وليبيا و السودان** .
- يوجد الواحات **البحرية** و واحة **الفرافرة** في الهضبة الوسطى في الصحراء الغربية
- توجد الكثبان الرملية مثل بحر الرمال في الصحراء **الغربية** .
- هضبة **العبادة** توجد في الصحراء الشرقية ويقطع سطحها أودية مثل وادي **العلاقي** .
- يوجد في وسط سيناء هضبتا **التية** و **العجمة** .
- لا يوجد منخفضات في الصحراء **الشرقية** .
- يتميز المناخ الصحراوي بارتفاع الحرارة في **الصيف** وانخفاضها في **الشتاء** خاصة في الليل .
- الأمطار في الصحراء نادرة وتسقط في **سبوت** .
- تهب رياح **الخماسين** في شهرى مارس و إبريل وتكون محملة بالأتربة وتسبب أضراراً للإنسان و النباتات .
- من أهم المحاصيل الزراعية في البيئة الصحراوية الحبوب الغذائية مثل **القمح** و **الشعير** و النباتات الشجرية مثل اشجار **النخيل** و **الزيتون** و النباتات **الطبية** و هي نباتات تستخدم في علاج بعض الامراض .
- توجد المياه **الجوفية** في الصحراء على شكل خزانات في باطن الأرض .
- العيون** تعنى خروج المياه إلى سطح الأرض في شكل طبيعي .
- الآبار و العيون** هما المصدر الرئيسي للمياه في الصحراء .
- التربة في البيئة الصحراوية **ملية وقليلة الخصوبة بسبب ندرة المياه** .
- تزداد خصوبة التربة في الواحات الصحراوية بسبب **اختلاط الماء بالرمال**
- تتركز النباتات في **الأودية و المنخفضات** حيث توافر المياه الجوفية و التربة الخصبة
- من الحيوانات التي توجد في البيئة الصحراوية **الثعالب** و **الغزلان** و **الإرانب البرية** .
- من الحيوانات التي يراعاها البدو من أجل الغذاء و الكساء **الأبل** و **الأغنام** و **الماعز** .
- أشجار **الدوم و النخيل** تمد جذورها في التربة للوصول إلى المياه الجوفية .
- نبات **الصبار** من النباتات ذات الأوراق الاسفنجية لكي تخزن فيها مياه الأمطار .
- يتركز سكان البيئة الصحراوية في **الواحات** و مناطق **التعدين و الرعي** .
- من الخصائص الاجتماعية لسكان البيئة الصحراوية **الترايط الأسرى و الزواج من الأقارب و حجم الأسرة كبير**
- يهاجر بعض السكان البيئة الصحراوية إلى البيئات الأخرى بسبب نقص **الغذاء**

- سكان البيئة الصحراوية هم سكان محافظات الحدود
- محافظات الحدود هي شمال سيناء و جنوب سيناء والبحر الأحمر و مرسى مطروح و الوادي الجديد .
- تعتمد الواحات في الزراعة على المياه الجوفية .
- من الصناعات الحرفية في البيئة الصحراوية صناعة حفظ وتعليب التمور و صناعة السجاد اليدوي .
- من المحاصيل الزراعية في البيئة الصحراوية المحاصيل الغذائية و من أهمها القمح و الشعير
- يتم تعدين خام الحديد في منطقة الجديدة بالصحراء الغربية، و تعدين الذهب في منطقة مناجم السكري
- من المزارات السياحية الدينية في سيناء جبل موسى و دير سانت كاترين .
- الغرض من السياحة البيئية التمتع بالبيئة الطبيعية خاصة في مناطق المحميات .
- من أشهر القبائل التي تعمل بحرفة الرعي في الصحراء الغربية قبيلة أولاد علي
- أهم حيوانات الرعي الأبل و الماعز و الأغنام التي توفر اللحوم و الألبان و الجلود
- تتمثل مشكلات البيئة الصحراوية في تملح التربة و قلة المياه و السيول و حركة الرمال .
- خص الله وطننا الحبيب مصر بـ :

(1) موقع متميز على بحرين مهمين .

(2) امتداد عدد من البحيرات على سواحلها فيها خيرات كثيرة عاش الناس بجوارها و عمروا سواحلها و اعتمدوا على ثروات البحر في معيشتهم و تجارتهم و أعمالهم فعرفت حياتهم بـ (حياة البحر) و سميت بيئتهم بالبيئة الساحلية .

- تمتاز سواحل البحر المتوسط برياح تهب هادئة صيفاً مما يساعد على تطايف الجو بينما تتعرض شتاءً لرياح شديدة تتسبب في تقلب الجو و حدوث الثورة التي تستمر لعدة أيام متواصلة
- يتركز سكان البيئة الساحلية في المدن الساحلية و مراكز العمران المختلفة .
- من المدن الساحلية على البحر الاحمر مدينة الغردقة و شرم الشيخ
- من المدن الساحلية على البحر المتوسط الاسكندرية .



امتلكنا الخبرة
فهديناك التفوق

