



(يجيب عنها التلميذ)

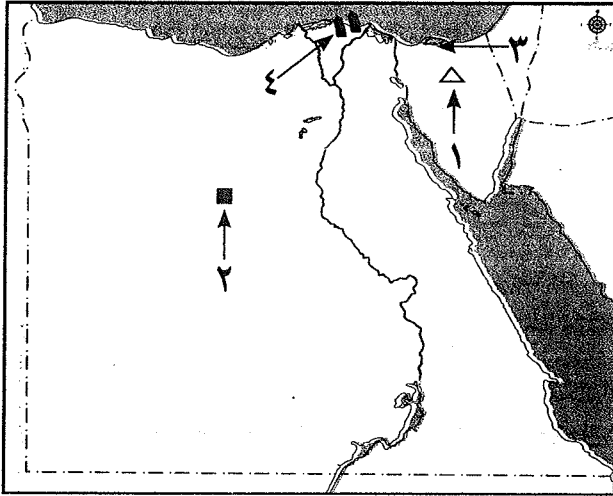
امتحانات المحافظات المختلفة لعام ٢٠١٧ م

رابعاً :

محافظة القاهرة

١

أولاً : الجغرافيا



١ أمامك خريطة صماء لمصر .

اكتب مدلول الأرقام الموقعة عليها :

- ١ - قمة جبلية قبابية
- ٢ - منطقة لاستخراج الحديد
- ٣ - محمية طبيعية
- ٤ - حقول للغاز الطبيعي

ب أكمل العبارات الآتية بكلمات مناسبة :

- ١ - أكبر الصحارى المصرية هي الصحراء
- ٢ - من القبائل التي تقوم بحرفة الرعى فى محافظة مطروح قبيلة
- ٣ - المنطقة التي يتأثر مناخها وأعمال سكانها وعاداتهم بالبحر تعرف بالبيئة
- ٤ - من العادات الإيجابية لسكان البيئة الساحلية انفتاحهم على

ح بم تفسر ؟ :

- ١ - لنبات الصبار أوراق إسفنجية سميكة .
- ٢ - تتركز نسبة كبيرة من سكان مصر فى المحافظات الساحلية . (يكتفى بواحدة)

١ اكتب كلمة (صواب) أمام العبارة الصحيحة وكلمة (خطأ) أمام العبارة غير الصحيحة :

- ١ - تتعدد المزارات السياحية فى البيئة الصحراوية . ()
- ٢ - تؤدي حركة الرمال بفعل الرياح إلى حفر الآبار بالبيئة الصحراوية . ()
- ٣ - يمتد ساحل شمال الدلتا من الإسكندرية حتى غرب السلوم . ()
- ٤ - أصدرت الدولة قوانين تُجرم إلقاء مُخلفات الصرف فى مياه البحر . ()

ب ما المقصود بالمفاهيم الآتية ... ؟ :

- ١ - الواحات .
- ٢ - شعاب مرجانية .

ح أين يوجد كل من ... ؟ :

- ١ - سد الروافعة .
- ٢ - رأس بناس .

د ما النتائج المترتبة على ... ؟ :

- ١ - إقامة الدولة للعديد من المدارس وبعض الكليات والمعاهد بالمحافظات الصحراوية .
- ٢ - سقوط الأمطار بشدة أحياناً على مناطق البيئة الساحلية للبحر الأحمر .



ثانيًا : التاريخ

اختر الشخصية المناسبة من المجموعة (ب) لعبارات المجموعة (أ) :

(ب)	(أ)
- محمد فريد	١ - انضم للجيش المصري في عهد محمد سعيد باشا .
- عبد الفتاح السيسي	٢ - أسس جريدة اللواء عام ١٩٥٥ م .
- أحمد عرابي	٣ - دعا إلى إنشاء مدارس ليلية لتعليم العمال والفقراء مجاناً .
- مصطفى كامل	٤ - من نتائج ثورة ٣٠ يونيو ٢٠١٣ م عقد انتخابات الرئاسة وإعلان فوز المرشح .
- سعد زغلول	

ب رتب الأحداث التاريخية الآتية من الأقدم إلى الأحدث :

(توقيع اتفاقية السلام بين مصر وإسرائيل - العدوان الثلاثي على مصر - تأسيس بنك مصر) .

أمامك عدد من العوامل التي أدت لقيام ثورة ٢٣ يوليو ١٩٥٢ م وهي :

(انخفاض الدخل - انتشار الجهل والمرض - فساد الحكم - غياب العدالة الاجتماعية)

صنفها في الجدول التالي حسب النوع الذي تنتمي إليه .

أسباب اجتماعية	أسباب اقتصادية	أسباب سياسية

ب صوب ما تحته خط في العبارات الآتية :

- ١ - احتلت القوات البريطانية قناة السويس بعد خيانة رياض باشا لعرابي . (.....)
- ٢ - تم نفي سعد زغلول وثلاثة من زملائه في المرة الأولى إلى جزيرة سيشل . (.....)
- ٣ - في حرب أكتوبر ١٩٧٣ م فوجئ العالم ببدء القتال على الجبهتين المصرية والعراقية . (.....)
- ٤ - من أسباب ثورة ٢٥ يناير ٢٠١١ م سيطرة حزب الوفد على أغلبية المقاعد في مجلسي الشعب والشورى . (.....)

ح ماذا كان يحدث إذا ... ؟ :

١ - لم يقطع المصريون البضائع والبنوك والسفن البريطانية أثناء ثورة ١٩١٩ م .

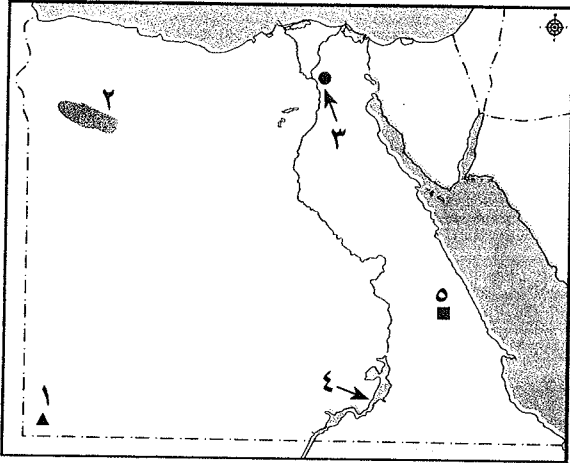
٢ - لم يتم المواطنون بتشكيل لجان شعبية أثناء ثورة ٢٥ يناير ٢٠١١ م .



محافظة البحيرة

٢

أولاً : الجغرافيا



١ - أمامك خريطة صماء لمصر .

اكتب مدلول الأرقام الموقعة عليها :

- ١ - جبل
- ٢ - هضبة
- ٣ - مدينة
- ٤ - بحيرة
- ٥ - منجم لاستخراج الذهب

ب صوب ما تحته خط في العبارات الآتية :

- ١ - تربة البيئة الصحراوية تربة طينية سوداء .
- ٢ - يقوم بحرفة الرعى بالصحراء الشرقية أولاد على .
- ٣ - تعددت المزارات السياحية في سيناء مثل جبل الشايب .
- ٤ - رياح شديدة وأمطار غزيرة تتسبب في تقلب الجو لعدة أيام متصلة السيول .
- ٥ - أكبر بحيرات البيئة الساحلية إنتاجاً للأسماك في مصر إداكو .

اكتب ما تشير إليه العبارات الآتية :

- ١ - مجارٍ مائية كانت تجرى بها المياه قديماً ثم جفت .
- ٢ - تدهور التربة وانخفاض قدرتها الإنتاجية .
- ٣ - أرض شبه مستوية السطح تمتد من خط الساحل إلى داخل اليابس .
- ٤ - خليج ذو مدخل ضيق متعمق في اليابس .
- ٥ - المدينة التي يزيد عدد سكانها على مليون نسمة .
- ٦ - هجرة أفراد وجماعات إلى خارج الدول بطرق غير قانونية .

ب ما النتائج المترتبة على ... ؟ : (يكتفى بنتيجة واحدة)

- ١ - حركة الرمال التي تسببها الرياح على البيئة الصحراوية .
- ٢ - تآكل سواحل الدلتا بفعل نحت الأمواج .

ثانياً : التاريخ

١ اختر الإجابة الصحيحة مما بين الأقواس لكل مما يأتي :

- ١ - أسس مصطفى كامل عام ١٩٠٠م جريدة : (الوقائع المصرية - الوفد - الأهرام - اللواء)
- ٢ - تم نفي سعد زغلول للمرة الأولى مارس ١٩١٩م إلى جزيرة : (سيشل - صقلية - مالطة - قبرص)
- ٣ - أصدرت تصريح ٢٨ فبراير ١٩٢٢م . (فرنسا - بريطانيا - ألمانيا - إيطاليا)
- ٤ - شُكلت أول حكومة دستورية عام ١٩٢٤م برئاسة :

(سعد زغلول - طلعت حرب - على الروبى - محمد عبده)

٥ - نجح الجيش المصرى فى تحطيم وذلك فى حرب أكتوبر ١٩٧٣م :

(الشغرة الأولى - خط بارليف - الحاجز المائى - خط ألون)



ب لمن تنسب الأعمال الآتية ... ؟ :

- ١ - ترقى حتى وصل إلى رتبة أميرالاي في عهد الخديو توفيق . ()
- ٢ - دعا إلى رفض مد امتياز شركة قناة السويس عام ١٩١٠ م . ()
- ٣ - كان له دور في تأسيس تنظيم الضباط الأحرار . ()
- ٤ - تولى رئاسة مصر بعد اغتيال الرئيس السادات . ()
- ٥ - تسلم السلطة بعد عزل الرئيس محمد مرسى ٢٠١٣ م . ()

١ اكتب كلمة (صواب) أمام العبارة الصحيحة وكلمة (خطأ) أمام العبارة غير الصحيحة :

- ١ - أدت الامتيازات الأجنبية إلى زيادة التدخل الأجنبي في شئون مصر . ()
- ٢ - نجحت القوات البريطانية في دخول مصر عن طريق كفر الدوار . ()
- ٣ - تحسنت أحوال مصر الاقتصادية والاجتماعية أثناء الحرب العالمية الأولى ١٩١٤ م . ()
- ٤ - قامت مصر بإعادة تنظيم وتسليح وتدريب القوات المسلحة بعد هزيمة ٥ يونيو ١٩٦٧ م . ()
- ٥ - وقعت مصر اتفاقية السلام مع إنجلترا عام ١٩٧٩ م لاستعادة أراضيها المحتلة . ()
- ٦ - كان شعار ثورة ٢٥ يناير ٢٠١١ م « عيش ، حرية ، عدالة اجتماعية » . ()

ب « قام الشعب المصرى بعدة ثورات على مر التاريخ للتخلص من الفساد والظلم والعدوان » .

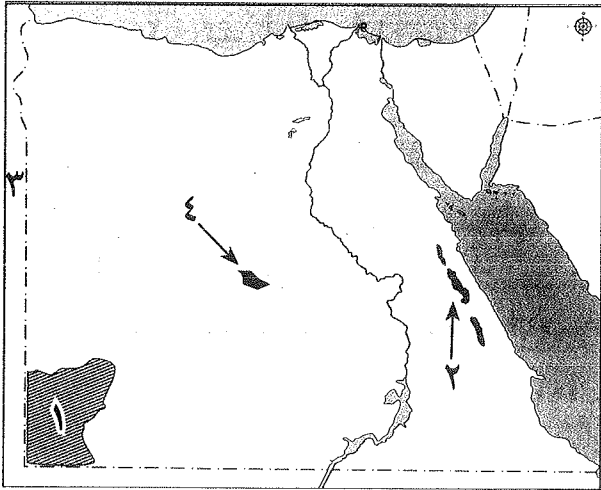
فى ضوء هذه العبارة ، أجب عما يأتى :

- ١ - اذكر اثنين من مبادئ ثورة ٢٣ يوليو ١٩٥٢ م .
- ٢ - اذكر اثنين من أسباب فشل العدوان الثلاثى على مصر .

محافظة القليوبية

٣

أولاً : الجغرافيا



١ أمامك خريطة صماء لمصر .

اكتب مدلول الأرقام المدونة عليها :

- ١ - هضبة
- ٢ - سلاسل جبال
- ٣ - دولة
- ٤ - منطقة لاستخراج الفوسفات

ب بم تفسر ... ؟ :

- ١ - يتميز النبات الطبيعى فى الصحراء بتحمل الجفاف .
- ٢ - أهمية التلال الجيرية بالساحل الشمالى الغربى لمصر .
- ٣ - تركيز نسبة كبيرة من سكان مصر فى المحافظات الساحلية .



اكتب كلمة (صواب) أمام العبارة الصحيحة وكلمة (خطأ) أمام العبارة غير الصحيحة :

- ١ - من العادات الإيجابية في البيئة الصحراوية عمل الأطفال في الرعى والزراعة . ()
- ٢ - أقيم مشروع استزراع الكثبان الرملية في جنوب واحة سيوة لتثبيت الرمال . ()
- ٣ - ترتفع نسبة التعليم بين سكان البيئة الساحلية خاصة تعليم البنات . ()
- ٤ - تُعد حرفة صيد الأسماك من الحرف الرئيسية في البيئة الصحراوية . ()

ب اكتب ما تشير إليه كل عبارة من العبارات الآتية :

- ١ - من أشهر القبائل التي تعمل بحرفة الرعى بمحافظة مطروح بالصحراء الغربية . (.....)
- ٢ - تدهور التربة وانخفاض قدرتها الإنتاجية . (.....)
- ٣ - أرض شبه مستوية السطح تمتد من خط الساحل إلى داخل اليابس . (.....)
- ٤ - قيام الأمواج بنحت الصخور التي تشكل ساحل البحر . (.....)

ح ما المقصود بالمصطلحات الآتية .. ؟ : الخليج - رأس أرضى .

ثانيًا : التاريخ

ا اختر الإجابة الصحيحة مما بين الأقواس لكل مما يأتي :

- ١ - كان أحمد عرابي عضوًا بارزًا في جمعية : (الجامعة المصرية - الوفد المصري - مصر الفتاة - عابدين)
- ٢ - دخل الإنجليز في ١٤ سبتمبر ١٨٨٢ م . (الإسكندرية - السويس - الإسماعيلية - القاهرة)
- ٣ - تم في يوليو عام ١٩٥٦ م .
- (تأميم شركة قناة السويس - إعلان الجمهورية - الوحدة بين مصر وسوريا - بناء السد العالي)
- ٤ - عزل اللورد كرومر من منصبه عقب حادثة : (الإسكندرية - أبي قير - دنشواي - كفر الدوار)
- ٥ - قامت الوحدة بين مصر و عام ١٩٥٨ م . (ليبيا - سوريا - السودان - فلسطين)

ب إلى من تنسب الأعمال الآتية ... ؟ :

- ١ - أسس جريدة اللواء عام ١٩٠٠ م . (.....)
- ٢ - رئيس أمريكي أعلن حق الشعوب في تقرير مصيرها . (.....)
- ٣ - شكل أول حكومة دستورية في مصر عام ١٩٢٤ م . (.....)

ح دد على صحة العبارة التالية : كان لثورة ٣٠ يونيو ٢٠١٣ م نتائج هامة .

ا « تميزت ثورة ٢٥ يناير ٢٠١١ م بأنها ثورة سلمية » .

في ضوء العبارة السابقة ، أجب عن الآتي :

١ - ما أسباب قيام ثورة ٢٥ يناير ٢٠١١ م ؟

٢ - ما تحفظات تصريح ٢٨ فبراير ١٩٢٢ م ؟

٣ - اذكر اثنتين من نتائج حرب أكتوبر ١٩٧٣ م .

ب ما المقصود بالمفاهيم الآتية ... ؟ :

١ - عدالة اجتماعية .

٢ - الحزب السياسي .

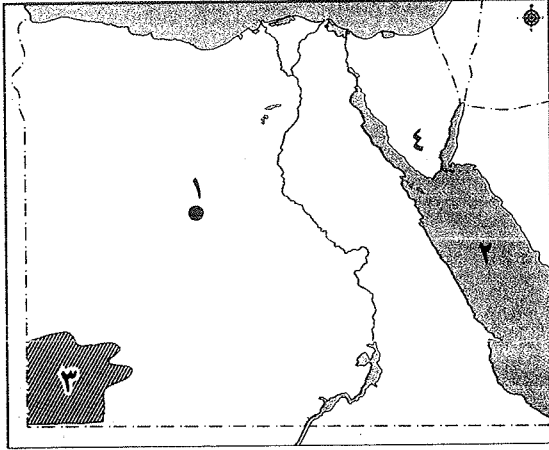
ح ما رأيك في ... ؟ : موقف محمد فريد من مسألة مد امتياز شركة قناة السويس .



محافظة الغربية

٤

أولاً : الجغرافيا



١ أمامك خريطة صماء لمصر .

اكتب مدلول الأرقام الموقعة عليها :

- ١ - منطقة إنتاج حديد
- ٢ - البحر
- ٣ - هضبة
- ٤ - شبه جزيرة

ب بم تفسر ؟ : (اذكر سببين لكل سؤال)

- ١ - قيام صناعة التمور في البيئة الصحراوية .
- ٢ - تتركز نسبة كبيرة من سكان مصر في المحافظات الساحلية .
- ٣ - تلوث المياه الشاطئية في البيئة الساحلية .

اكتب كلمة (صواب) أمام العبارة الصحيحة وكلمة (خطأ) أمام العبارة غير الصحيحة :

- ١ - تعد الصحراء الشرقية أكبر صحارى مصر من حيث المساحة . ()
- ٢ - يعمل السكان بالزراعة فى الواحات اعتماداً على المياه الجوفية . ()
- ٣ - إكرام الضيف والزواج المبكر من الخصائص التعليمية لسكان البيئة الصحراوية . ()
- ٤ - توجد أعلى قمة جبلية فى جبل سانت كاترين بالصحراء الغربية . ()
- ٥ - من العادات السلبية فى البيئة الساحلية الهجرة غير الشرعية . ()
- ٦ - تمتاز البيئة الساحلية فى مصر بحرارة معتدلة طوال العام . ()

ب ما النتائج المترتبة على ؟ : (اذكر نتيجتين لكل سؤال)

- ١ - حركة الرمال بفعل الرياح فى البيئة الصحراوية .
- ٢ - تآكل السواحل بفعل نحت الأمواج .

ثانياً : التاريخ

اختر الإجابة الصحيحة مما بين الأقواس :

- ١ - خرج الجيش والشعب فى ٩ سبتمبر ١٨٨١ م لتقديم مطالب الأمة إلى :
(الخديو إسماعيل - الخديو توفيق - سعيد باشا - إبراهيم باشا)
- ٢ - رفض مد امتياز شركة قناة السويس عام ١٩١٠ م .
- ٣ - أسس جمال عبد الناصر : (جريدة اللواء - تنظيم الضباط الأحرار - الحزب الوطنى المصرى - بنك مصر)
- ٤ - رد كرامة الجندى المصرى والعربى من أسباب :
(حرب ١٩٤٨ م - العدوان الثلاثى ١٩٥٦ م - حرب يونيو ١٩٦٧ م - حرب أكتوبر ١٩٧٣ م)
- ٥ - من نتائج ثورة ٣٠ يونيو ٢٠١٣ م عزل الرئيس :
(محمد أنور السادات - محمد حسنى مبارك - محمد نجيب - محمد مرسى)
- ٦ - الشرارة التى فجرت ثورة ١٩١٩ م نفى سعد زغلول وثلاثة من أعضاء الوفد المصرى إلى جزيرة :
(قبرص - كريت - مالطة - سيلان)



ب اكتب المفهوم الذي تشير إليه العبارات الآتية :

- ١ - توزيع الثروات القومية بين المواطنين توزيعاً عادلاً . (.....)
- ٢ - عدم تبعية اقتصاد مصر لأي دولة أجنبية واعتمادها على رءوس أموالها الوطنية . (.....)
- ١ اختر من القائمة (ب) ما يناسب القائمة (أ) :

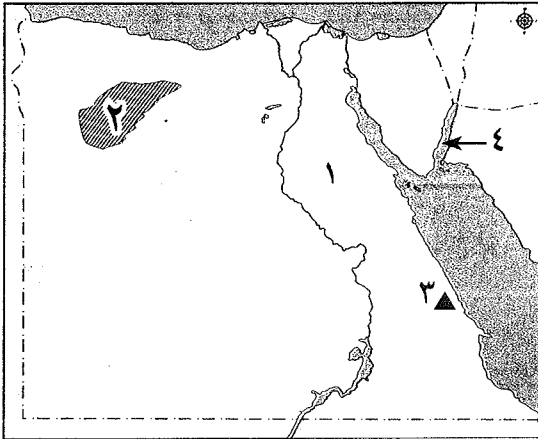
(ب)	(أ)
- تعرضها للعدوان الثلاثي .	١ - انضم أحمد عرابي للجيش المصري في عهد
- حرب أكتوبر ١٩٧٣ م .	٢ - بصدور تصريح ٢٨ فبراير ١٩٢٢ م انتهت
- ٢٥ يناير ٢٠١١ م .	٣ - أدى تأميم مصر لشركة قناة السويس ١٩٥٦ م إلى
- طلعت حرب .	٤ - تغيرت نظرة العالم للجيش المصري بعد
- الحماية البريطانية على مصر .	٥ - انتشار الفساد في جميع مؤسسات الدولة من أسباب ثورة
- سعيد باشا	٦ - كان له دور كبير في تأسيس بنك مصر عام ١٩٢٠ م

- ب ماذا كان يحدث إذا ... ؟ : ١ - لم يتم صدور قانون الإصلاح الزراعي ١٩٥٢ م .
- ٢ - ردم أحمد عرابي قناة السويس من جهة الشمال .

محافظة البحيرة

٥

أولاً : الجغرافيا



١ أمامك خريطة صماء لمصر ، اكتب مدلول الأرقام الموجودة عليها :

- ١ - الصحراء
- ٢ - منخفض
- ٣ - منجم لإنتاج الذهب
- ٤ - خليج

ب اكتب ما تشير إليه كل عبارة من العبارات الآتية :

- ١ - تدهور التربة وانخفاض قدرتها الإنتاجية . (.....)
- ٢ - خليج ذو مدخل ضيق متعمق في اليابس . (.....)
- ٣ - مجار مائية كانت تجرى بها المياه قديماً ثم جفت . (.....)
- ٤ - هجرة أفراد وجماعات إلى خارج الدولة بطرق غير قانونية . (.....)

ح قارن بين البيئة الصحراوية والساحلية في مصر من حيث :

- العادات الإيجابية لسكان كل منهما .
- ١ - يكتفى باثنتين من العادات لكل بيئة (.....)

ب صوب ما تحته خط في كل عبارة من العبارات الآتية :

- ١ - أكثر جبال البحر الأحمر ارتفاعاً جبل حماطة . (.....)
- ٢ - تعيش نسبة كبيرة من سكان مصر في البيئة الصحراوية . (.....)
- ٣ - تقوم بحرفة الرعي في محافظة مطروح بالصحراء الغربية قبيلة العبادة . (.....)



- ٤ - تنمو أشجار الزيتون فى المناطق المطلة على ساحل البحر الأحمر .
 (.....)
 ٥ - قامت الدولة باستزراع الكثبان الرملية جنوب واحة الفرافرة لتثبيت الرمال .
 (.....)
 ٦ - إحدى مشكلات البيئة الصحراوية تلوث المياه الشاطئية .
 (.....)

ب أجب عما يلى :

- ١ - ما الأضرار الناتجة عن حدوث السيول فى البيئة الصحراوية ؟
 ٢ - اكتب جهود الدولة لحل مشكلات السكان فى البيئة الساحلية .

ثانيًا : التاريخ

١ اختر الإجابة الصحيحة مما بين الأقواس فيما يلى :

- ١ - انضم أحمد عرابى للجيش المصرى فى عهد :
 (إبراهيم باشا - إسماعيل باشا - توفيق باشا - سعيد باشا)
 ٢ - عُقد مؤتمر الصلح لبعض الدول الأوربية للنظر فى الأوضاع السياسية بعد الحرب العالمية الأولى فى :
 (لندن - باريس - روما - أثينا)
 ٣ - بعد اغتيال الرئيس السادات تولى حكم مصر نائبه :
 (حسنى مبارك - حسين طنطاوى - صوفى أبو طالب - عدلى منصور)
 ٤ - القضاء على الإقطاع أحد مبادئ :
 (ثورة ١٩١٩ م - ثورة ٢٣ يوليو ١٩٥٢ م - ثورة ٢٥ يناير ٢٠١١ م - ثورة ٣٠ يونيو ٢٠١٣ م)

ب أجب عما يلى :

- ١ - ما نتائج كفاح الزعيم مصطفى كامل (باعث الحركة الوطنية) ؟
 ٢ - ما هى عوامل نجاح حرب أكتوبر ١٩٧٣ م ؟ (يكتفى باثنين)
 ح ما المقصود بالمفاهيم الآتية ... ؟ ١ - الدستور . ٢ - عدالة اجتماعية .

١ اكتب كلمة (صواب) أمام العبارة الصحيحة ، وكلمة (خطأ) أمام العبارة غير الصحيحة فيما يلى :

- ١ - أسس طلعت حرب بنك مصر عام ١٩٢٠ م . ()
 ٢ - قاد تنظيم الضباط الأحرار ثورة ٢٣ يوليو ١٩٥٢ م . ()
 ٣ - كانت الشرارة التى فجرت ثورة ١٩١٩ م نفى سعد زغلول وزملائه فى مارس ١٩١٩ م إلى جزيرة صقلية . ()
 ٤ - نجح العدوان الثلاثى فى أكتوبر ١٩٥٦ م فى احتلال مصر . ()
 ٥ - دعا محمد فريد إلى إنشاء مدارس ليلية لتعليم العمال والفقراء مجاناً . ()
 ٦ - قضت حرب أكتوبر ١٩٧٣ م على أسطورة الجيش الإسرائيلى الذى لا يقهر . ()

ب « قال الزعيم أحمد عرابى : « لقد خلقنا الله أحراراً ولم يخلقنا تراناً أو عقاراً » »

فى ضوء العبارة السابقة ، أجب عما يلى :

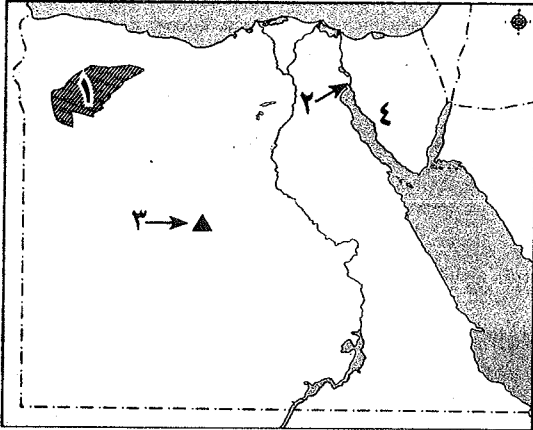
- ١ - اذكر أسماء زعماء الثورة العرابية الذين أدوا دورهم الوطنى إلى جانب أحمد عرابى . (يكتفى باثنين)
 ٢ - ما هى مطالب الأمة فى مظاهرة عابدين السلمية ٩ سبتمبر ١٨٨١ م ؟ (يكتفى باثنين)
 ٣ - ما اسم الاتفاقية التى عُقدت بين مصر وبريطانيا أكتوبر ١٩٥٤ م والتي انتهى بها الاحتلال البريطانى لمصر ؟



محافظة الإسكندرية

٦

أولاً : الجغرافيا



أمامك خريطة صماء لمصر ، اكتب ما تدل عليه الأرقام التالية :

- ١ - منخفض
- ٢ - مدينة
- ٣ - منطقة لاستخراج الفوسفات
- ٤ - شبه جزيرة

ب بم تفسر ... ؟ :

- ١ - إنشاء الدولة لشبكة من الطرق في البيئة الصحراوية .
- ٢ - نمو الشعاب المرجانية على ساحل البحر الأحمر .

ج اكتب المصطلح الجغرافي الدال على العبارات الآتية :

- ١ - تجمعات من الرمال تتراكم بفعل الرياح . (..)
- ٢ - هجرة أفراد وجماعات إلى خارج الدول بطرق غير قانونية . (..)

د اكتب كلمة (صواب) أمام العبارة الصحيحة وكلمة (خطأ) أمام العبارة غير الصحيحة :

- ١ - تقع الصحراء الشرقية ما بين البحر المتوسط شمالاً وخليج العقبة والسويس جنوباً . ()
- ٢ - تعيش قبائل أولاد علي في مرسى مطروح بالصحراء الغربية . ()
- ٣ - من المناظر الطبيعية التي تجذب السياح الصحراء البيضاء بواحة الداخلة . ()
- ٤ - يتميز ساحل البحر المتوسط بوجود الشروم . ()
- ٥ - شجيرات المانجروف من النباتات الطبيعية على ساحل البحر الأحمر . ()
- ٦ - تعتبر مدينة الإسكندرية من المدن المليونية بالبيئة الساحلية . ()

ه صنف كلاً من خصائص سكان البيئة الصحراوية الآتية في الجدول التالي :

- ١ - الزواج المبكر .
- ٢ - ارتفاع نسبة الأمية .

خصائص اجتماعية	خصائص تعليمية
.....

و أين توجد الظواهر التالية ... ؟ :

- ١ - جبل الشايب .
- ٢ - هضبة الجلف الكبير .

ثانياً : التاريخ

ز اختر الإجابة الصحيحة مما بين الأقواس :

- ١ - فشلت القوات البريطانية في دخول مصر عن طريق : (كفر الدوار - التل الكبير - كفر الزيات - الإسكندرية)

- ٢ - رفض مد امتياز شركة قناة السويس عام ١٩١٠ م : (مصطفى كامل - طلعت حرب - محمد فريد - أحمد عرابي)



٣- شاركت في العدوان الثلاثى على مصر عام ١٩٥٦ م :

(الولايات المتحدة الأمريكية - ألمانيا - إنجلترا - روسيا)

٤- كان للرئيس جمال عبد الناصر دور فى تأسيس :

(الحركة الوطنية - تنظيم الضباط الأحرار - جريدة اللواء - الحزب الوطنى)

٥- أثناء ثورة ٢٥ يناير تم قطع جميع وسائل : (النقل - المواصلات - التواصل الاجتماعى - الإعلام)

٦- التحق أحمد عرابى بالجيش فى عهد : (توفيق - إسماعيل - سعيد باشا - عباس)

ب ما النتائج المترتبة على ما يأتى ... ؟ :

١- تصريح ٢٨ فبراير ١٩٢٢ م . ٢- خطب ومقالات مصطفى كامل .

ا صوب ما تحته خط :

١- توقيع معاهدة السلام مع إسرائيل عام ١٩٧٩ م من نتائج ثورة ٢٣ يوليو . (.....)

٢- أسس الزعيم مصطفى كامل أول حكومة دستورية فى مصر . (.....)

٣- طالب عرابى فى مظاهرة عابدين بإسقاط وزارة شريف باشا المستبدة . (.....)

٤- أعلن الرئيس الأمريكى كيندى حق الشعوب فى تقرير مصيرها . (.....)

ب اكتب ما تشير إليه العبارات الآتية :

١- المبادئ والقواعد التى تحدد نظام الحكم فى الدولة . (.....)

٢- من التحصينات العسكرية التى أقامتها إسرائيل أمام الجبهة المصرية . (.....)

٣- مجموعة منظمة تشترك فى وضع برامج لتحسين شئون الدولة . (.....)

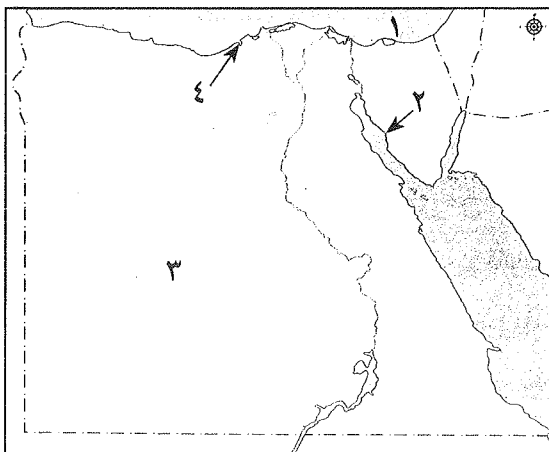
٤- صدر فى سبتمبر ١٩٥٢ م ونص على تحديد ملكية الأراضى الزراعية . (.....)

ح ما رأيك فى : التعاون العربى فى حرب أكتوبر ١٩٧٣ م ؟

محافظة المنوفية

٧

أولاً : الجغرافيا



ا أمامك خريطة صماء لمصر ، اكتب مدلول

الأرقام الموقعة عليها :

١- البحر

٢- خليج

٣- الصحراء

٤- مدينة

ب بم تفسر ... ؟ :

١- نمو الشعاب المرجانية على ساحل البحر الأحمر .

٢- تركيز السكان فى البيئة الصحراوية فى الواحات .

٣- تنوع الأنشطة الاقتصادية فى البيئة الصحراوية .



س ٢

اختر الإجابة الصحيحة مما بين الأقواس :

- ١ - يوجد الذهب فى مناجم بالصحراء الشرقية . (أم بجمة - السكرى - السباعية - أبو طرطور)
- ٢ - من أشهر القبائل التى تعمل بحرفة الرعى فى الصحراء الشرقية قبيلة : (عامر - على - عابد - الشهرى)
- ٣ - أهم النباتات التى تنمو على ساحل البحر المتوسط أشجار : (المطاط - المناجروف - الزيتون - الغرقد)
- ٤ - تُعد حرفة من الحرف الرئيسة فى البيئة الساحلية .
(الصيد - الرعى - الزراعة - حفظ التمور)
- ٥ - أكبر البحيرات إنتاجًا للأسماك بحيرة :
(البردويل - المنزلة - البرلس - إدكو)
- ٦ - قامت الدولة بمشروع استزراع الكثبان الرملية جنوب واحة :
(الخارجة - سيوة - الفرافرة - الداخلة)

ب ضع المفهوم المناسب لكل من العبارات الآتية :

- ١ - هجرة أفراد وجماعات إلى خارج الدولة بطرق غير قانونية .
(.....)
- ٢ - تدهور التربة وانخفاض قدرتها الإنتاجية .
(.....)

ثانيًا : التاريخ

أكمل العبارات الآتية بكلمات مناسبة :

- ١ - أسس الحزب الوطنى عام ١٩٠٧ م .
- ٢ - احتلت مصر فى ١٤ سبتمبر ١٨٨٢ م .
- ٣ - قاد مظاهرة عابدين السلمية فى سبتمبر عام ١٨٨١ م .
- ٤ - تأسس بنك فى عام ١٩٢٠ م .
- ٥ - استولت إسرائيل على هضبة السورية ٥ يونيه ١٩٦٧ م .
- ٦ - تسلم المستشار سلطة البلاد بعد عزل الرئيس محمد مرسى .

ب دلل على صحة العبارات الآتية :

- ١ - عمل محمد فريد على مد نشاط الحركة الوطنية إلى أوروبا .
- ٢ - تعددت عوامل نجاح حرب أكتوبر ١٩٧٣ م .

أكتب كلمة (صواب) أمام العبارة الصحيحة ، وكلمة (خطأ) أمام العبارة غير الصحيحة :

- ١ - وقفت فرنسا إلى جانب الحركة الوطنية المصرية بعد الاتفاق الودى عام ١٩٠٤ م . ()
- ٢ - انتشار الجهل والمرض من الأسباب الاجتماعية لثورة ٢٣ يوليو ١٩٥٢ م . ()
- ٣ - أصدرت حكومة ثورة يوليو قانون الإصلاح الزراعى فى سبتمبر ١٩٥٢ م . ()
- ٤ - خيب مؤتمر الصلح فى باريس آمال المصريين فى الاستقلال . ()
- ٥ - قام الشباب المصرى بالتظاهر يوم ٢٥ يناير ٢٠١١ م . ()
- ٦ - طالب أحمد عرابى بإقالة وزارة شريف باشا . ()

ب ما النتائج المترتبة على .. ؟ :

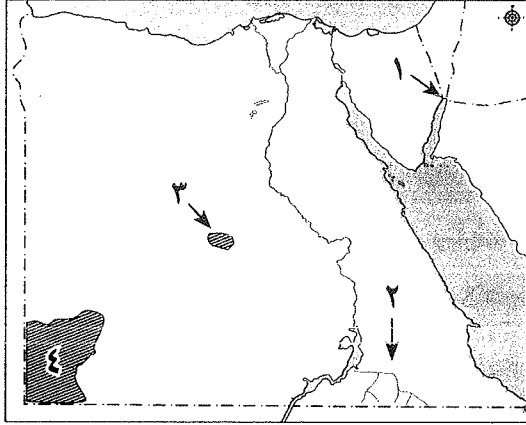
- ١ - تأميم شركة قناة السويس عام ١٩٥٦ م .
- ٢ - قيام ثورة ٢٥ يناير ٢٠١١ م .



محافظة الدقهلية

٨

أولاً : الجغرافيا



- (.....)
 (.....)
 (.....)
 (.....)

١ أمامك خريطة صماء لمصر ، اكتب مدلول الأرقام الموقعة عليها :

- ١ - مدينة
 ٢ - وادى
 ٣ - منطقة لإنتاج الفوسفات
 ٤ - جبل

ب اكتب المفهوم الجغرافى لكل مما يأتى :

- ١ - تجمعات من الرمال تتراكم بفعل الرياح .
 ٢ - تدهور التربة وانخفاض قدرتها الإنتاجية .
 ٣ - المدينة التى يزيد عدد سكانها عن مليون نسمة .
 ٤ - قيام الأمواج بنحت الصخور التى تشكل ساحل البحر .

ح « تتميز البيئات المصرية بالتنوع الاقتصادى والسكانى ، كما تسعى الدولة لحل مشكلاتها » .

- فى ضوء هذه العبارة ، وضح ما يلى : ١ - الخصائص الاجتماعية السلبية لسكان البيئة الصحراوية .
 ٢ - جهود الدولة لعلاج مشكلات البيئة الساحلية .

١ اختر الإجابة الصحيحة مما بين الأقواس لكل مما يأتى :

- ١ - تقوم الزراعة فى البيئة الصحراوية على مياه : (النيل - الأمطار - الترع - الآبار)
 ٢ - يستخرج المنجنيز فى مصر من منطقة : (جبل السكرى - أم بجمة - الواحة البحرية - أبو ماضى)
 ٣ - رأس الحكمة من الرءوس التى تقع على ساحل : (البحر الأحمر - خليج العقبة - البحر المتوسط - خليج السويس)
 ٤ - يهاجر سكان واحة سيوة للاستقرار فى : (مرسى مطروح - الإسكندرية - السلوم - برج العرب)

ب بم تفسر ... ؟ :

- ١ - سوء الأحوال المناخية فى البيئة الصحراوية فى فصل الربيع .
 ٢ - ازدهار السياحة فى البيئة الصحراوية .
 ٣ - انتشار الشعاب المرجانية على ساحل البحر الأحمر .

ثانياً : التاريخ

١ اكتب كلمة (صواب) أمام العبارة الصحيحة وكلمة (خطأ) أمام العبارة غير الصحيحة ، مع التصويب :

- ١ - من نتائج خيانة ديليسبس للزعيم عرابى هزيمة الجيش المصرى فى كفر الدوار . ()
 ٢ - خيب مؤتمر الصلح فى باريس آمال المصريين فى الحرية والاستقلال . ()
 ٣ - وقفت فرنسا إلى جانب الحركة الوطنية بعد الاتفاق الودى عام ١٩٠٤ م . ()
 ٤ - من إنجازات ثورة يوليو ١٩٥٢ م بناء السد العالى وافتتاحه عام ١٩٧١ م . ()

س ١

س ٢

س ٣



ت « ساءت أحوال مصر الاقتصادية والاجتماعية أثناء الحرب العالمية الأولى عام ١٩١٤ م » .

في ضوء هذه العبارة ، أجب عما يلي :

١- ما أسباب سوء أحوال مصر الاقتصادية والاجتماعية أثناء الحرب العالمية الأولى ؟

٢- متى صدر قرار مجلس الأمن رقم « ٣٤٠ » ؟ وما هي نصوصه ؟

٣- ما المقصود ب : استقلال مصر الاقتصادي ؟

١- إلى من تنسب الأعمال التالية ... ؟ :

(.....)

١- أقال أحمد عرابي من وزارة الحربية .

(.....)

٢- أمر بتجنيد أولاد عمدة البلاد ومشايخها .

(.....)

٣- قاد ثورة ٢٣ يوليو ١٩٥٢ م .

(.....)

٤- عمل محرراً في جريدة الوقائع المصرية .

ب ما النتائج المترتبة على كل مما يأتي ... ؟ :

٢- خطب ومقالات الزعيم مصطفى كامل .

١- تأميم شركة قناة السويس عام ١٩٥٦ م .

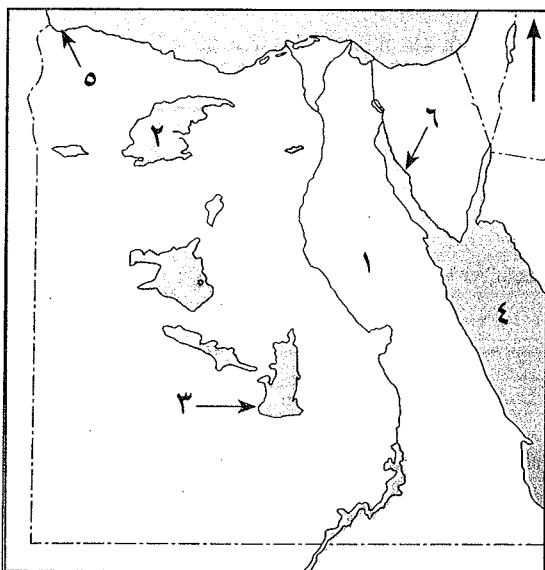
٣- انتصار الجيش المصري في حرب أكتوبر ١٩٧٣ م .

محافظة دمياط

٩

أولاً : الجغرافيا

١- أمامك خريطة صماء لمصر ، اكتب ما تدل عليه الأرقام الموقعة عليها :



١- الصحراء

٢- منخفض

٣- واحة

٤- البحر

٥- مدينة

٦- خليج

ب اكتب سبباً واحداً لكل مما يأتي :

١- تنوع الأنشطة الاقتصادية في البيئة الصحراوية .

٢- استزراع الكثبان الرملية جنوب واحة سيوة .

٣- ضيق السهول الساحلية المطلة على خليج العقبة .

٤- انتشار الشعاب المرجانية في مناطق متفرقة على طول ساحل البحر الأحمر .

١- اكتب كلمة (صواب) أمام العبارة الصحيحة ، وكلمة (خطأ) أمام العبارة غير الصحيحة :

()

١- تتميز البيئة الصحراوية في مصر بتنوع الخصائص الطبيعية .

()

٢- يوجد جبل العوينات جنوب غرب مصر .

()

٣- يقع سد الروافعة على وادي العلاقي .



- ٤ - يتركز سكان البيئة الساحلية في المدن ومراكز العمران الساحلية . ()
 ٥ - تنتشر مزارعي الأغنام والإبل في المناطق الساحلية خاصة الساحل الشمالي . ()
 ٦ - تُعد بحيرة المنزلة أقل البحيرات المصرية إنتاجًا للأسماك . ()

ب اكتب المفهوم العلمى أو المصطلح الجغرافى الدال على كل عبارة من العبارات التالية :

- ١ - تجمعات من الرمال تتراكم بفعل الرياح . (.....)
 ٢ - تدهور التربة الزراعية وانخفاض قدرتها الإنتاجية . (.....)
 ٣ - أرض شبه مستوية السطح تمتد من خط الساحل إلى داخل اليابس . (.....)
 ٤ - يقصد به قيام الأمواج بنحت الصخور التى تشكل ساحل البحر . (.....)

ثانيًا : التاريخ

١ صوب الكلمات التى فوق الخط فيما يأتى :

- ١ - أسس الزعيم مصطفى كامل جريدة الأهرام . (.....)
 ٢ - مد محمد فريد نشاط الحركة الوطنية إلى أمريكا . (.....)
 ٣ - تأسس بنك مصر فى عام ١٩٢٠م على يد سعد زغلول . (.....)
 ٤ - قامت فى عام ١٩٥٨م الوحدة بين مصر وفلسطين . (.....)
 ٥ - تغيير نظرة العالم للجيش المصرى من نتائج حرب الاستنزاف . (.....)
 ٦ - من أسباب ثورة ٢٥ يناير تزوير انتخابات مجلسى الشعب والنواب . (.....)

ب انسب كل عمل من الأعمال التالية إلى صاحبه :

- ١ - قاد مظاهرة عابدين عام ١٨٨١م . (.....)
 ٢ - عمل محررًا فى جريدة الوقائع المصرية ثم تولى وزارة المعارف عام ١٩٠٦م . (.....)
 ٣ - أسس تنظيم الضباط الأحرار . (.....)
 ٤ - تسلم حكم البلاد بعد عزل الرئيس محمد مرسى . (.....)

١ اختر للعبارات التالية ما يناسب كلاً منها مما بين الأقواس :

- ١ - بعد معركة التل الكبير احتلت إنجلترا : (الإسكندرية - القاهرة - السويس - الإسماعيلية)
 ٢ - تخلت فرنسا بعد الاتفاق الودى عن تأييدها للزعيم : (أحمد عرابى - سعد زغلول - مصطفى كامل - محمد فريد)

٣ - القضاء على النظام الملكى وإعلان الجمهورية من إنجازات ثورة :

- (٩ سبتمبر - ٢٣ يوليو - ٢٥ يناير - ٣٠ يونيو)
 ٤ - ساندت ثورة ٢٣ يوليو معظم حركات التحرر الوطنى أبرزها ثورة : (الجزائر - المغرب - الكويت - السودان)
 ٥ - اتخذ قرار حرب أكتوبر بالتنسيق بين الجيش المصرى والجيش :

(الأردنى - السعودى - العراقى - السورى)

٦ - انبهر العالم بأداء الجيش المصرى فى حرب أكتوبر الذى قضى على أسطورة الجيش :

(الفرنسى - الإيطالى - الإسرائيلى - الأمريكى)



ت « أنجبت مصر رجالاً مخلصين مثل أحمد عرابي ومصطفى كامل ومحمد فريد وسعد زغلول وغيرهم ممن حملوا راية الكفاح والنضال ضد استبداد وظلم وقهر الاحتلال البريطاني ، فاتجهت إليهم الأنظار وتعلقت بهم الآمال ، فالتف حولهم الشعب لإنقاذ البلاد وتحقيق أمانهم في التمتع بالحرية والحياة الكريمة » .

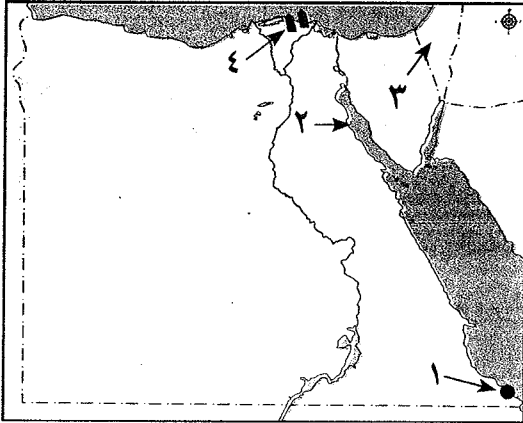
في ضوء العبارة السابقة ، أجب عن الأسئلة الآتية :

- ١ - متى بدأ كفاح أحمد عرابي ضد النظام التركي والجركسي ؟
- ٢ - اكتب سبباً واحداً من أسباب الثورة العربية .
- ٣ - لماذا سافر الوفد المصري إلى باريس في إبريل ١٩١٩م ؟
- ٤ - ما المقصود بالدستور ؟

محافظة كفر الشيخ



أولاً : الجغرافيا



١ أمامك خريطة صماء لمصر ، اكتب مدلول الأرقام الموقعة عليها :

- ١ - مدينة
- ٢ - خليج
- ٣ - دولة
- ٤ - حقول غاز طبيعي

ب بم تفسر ؟

- ١ - تؤثر حركة الرمال بفعل الرياح على البيئة الصحراوية تأثيراً سلبياً .
- ٢ - انتشار الشعاب المرجانية في مناطق متفرقة على ساحل البحر الأحمر .
- ٣ - إنشاء سد الروافعة على وادي العريش .

٢ اكتب كلمة (صواب) أمام العبارة الصحيحة وكلمة (خطأ) أمام العبارة غير الصحيحة :

- ١ - جبل الشايب من أشهر جبال الصحراء الغربية . ()
- ٢ - ترتبط الصناعات الحرفية في البيئة الصحراوية بوفرة الموارد اللازمة للصناعة . ()
- ٣ - تقل الرعوس الأرضية على طول سواحل البحر الأحمر . ()
- ٤ - تعد البيئة الساحلية مناطق طرد سكاني . ()

ب اكتب المفهوم أو المصطلح الذي تعبر عنه العبارات الآتية :

- ١ - أرض منخفضة بالصحراء تقوم بها الزراعة على المياه الجوفية . ()
- ٢ - قيام الأمواج بنحت الصخور التي تشكل ساحل البحر . ()

ح قارن بين :

- العادات الاجتماعية السلبية للبيئة الصحراوية والعادات الاجتماعية السلبية للبيئة الساحلية :



ثانياً : التاريخ

س ٣

١- اختر الإجابة الصحيحة مما بين الأقواس :

١- بدأ « أحمد عرابي » كفاحه منذ عهد :

(سعيد باشا - الخديو إسماعيل - الخديو توفيق - الخديو عباس حلمي الثاني)

٢- عمل محرراً في جريدة الوقائع المصرية الزعيم : (أحمد عرابي - مصطفى كامل - محمد فريد - سعد زغلول)

٣- عارضت العدوان الثلاثي على مصر وهددت بالتدخل العسكري دولة :

(إنجلترا - فرنسا - روسيا - الولايات المتحدة الأمريكية)

٤- إنهاء حالة الاحراب واللاسلم من أهم أسباب :

(العدوان الثلاثي - عدوان ٥ يونيو ١٩٦٧ - حرب الاستنزاف - حرب أكتوبر ١٩٧٣)

ب « قام الشعب المصري على مر التاريخ بعدة ثورات للتخلص من الظلم والفساد » .

في ضوء هذه العبارة ، أجب عما يأتي :

١- ما الأسباب الاجتماعية لثورة ٢٣ يوليو ١٩٥٢ م ؟ ٢- لماذا تعتبر ثورة ١٩١٩ م ثورة شعبية عامة ؟

٣- اذكر سببين من أسباب ثورة ٢٥ يناير ٢٠١١ م .

ل من تنسب الأعمال الآتية ... ؟ :

س ٤

(.....)

١- رئيس أمريكي أعلن مبدأ حق الشعوب في تقرير مصيرها .

(.....)

٢- قام بتأسيس بنك مصر عام ١٩٢٠ م .

(.....)

٣- أسس تنظيم الضباط الأحرار .

(.....)

٤- تسلم السلطة في مصر بعد عزل الرئيس محمد مرسي .

ب ما النتائج المترتبة على ... ؟ :

١- الاتفاق الودي بين إنجلترا وفرنسا عام ١٩٠٤ م . ٢- حرب أكتوبر ١٩٧٣ م .

ج رتب الأحداث التاريخية التالية من القديم إلى الحديث :

١- افتتاح السد العالي . ٢- معركة التل الكبير .

٣- قيام الحرب العالمية الأولى . ٤- وفاة الزعيم محمد فريد .

محافظة الشرقية

II

أولاً : الجغرافيا

س ١

١- أمامك خريطة صماء لمصر ، اكتب مدلول الأرقام

الموقعة عليها :

١- هضبة

٢- سلاسل جبال

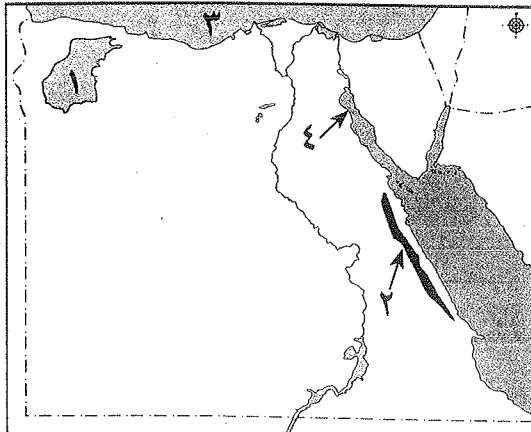
٣- البحر

٤- خليج

ب بم تفسر ... ؟ :

١- تركز النبات الطبيعي في مناطق الأودية والواحات في البيئة الصحراوية .

٢- تركز سكان البيئة الصحراوية في الواحات .





ح اختر الإجابة الصحيحة مما بين الأقواس :

- ١ - يوجد الذهب في مناجم بالصحراء الشرقية . (أم بجمة - السكري - أبو طرطور - السباعية)
 - ٢ - أنشئ سد الروافعة على وادي : (العريش - قنا - العلاقي - أسيوط)
 - ٣ - يعرف الخليج ذو المدخل الضيق المتعمق في اليابس باسم : (البحيرة - الخليج - الرأس الأرضي - الشرم)
 - ٤ - تعد حرفة من الحرف الرئيسية في البيئة الساحلية . (السياحة - صيد الأسماك - الزراعة - الرعي)
- ١ قارن بين سكان البيئة الصحراوية وسكان البيئة الساحلية من حيث : العادات والتقاليد من خلال الجدول الآتي :

العادات والتقاليد السلبيّة لسكان البيئة الساحلية	العادات والتقاليد السلبيّة لسكان البيئة الصحراوية
١ -	١ -
٢ -	٢ -

ب أعط تعريفاً صحيحاً لكل من المفاهيم الآتية :

- ١ - منخفض .
- ٢ - تأكل السواحل .

ح اكتب كلمة (صواب) أمام العبارة الصحيحة وكلمة (خطأ) أمام العبارة غير الصحيحة فيما يلي :

- ١ - تهب رياح الخماسين في فصل الربيع . ()
- ٢ - من أهم حيوانات الرعي في البيئة الصحراوية الفهد . ()
- ٣ - تنمو شجيرات المانجروف على ساحل البحر المتوسط . ()
- ٤ - من المدن الساحلية الجديدة التي أنشأتها الدولة مدينة برج العرب الجديدة . ()

ثانياً : التاريخ

١ أكمل العبارات التالية بكلمات مناسبة :

- ١ - انضم أحمد عرابي للجيش المصري في عهد
- ٢ - في ديسمبر عام ١٩١٤م أعلنت إنجلترا على مصر .
- ٣ - من مبادئ ثورة ٢٣ يوليو عام ١٩٥٢م القضاء على وأعدائه .
- ٤ - من عوامل نجاح حرب أكتوبر عام ١٩٧٣م العقيدة
- ٥ - من إنجازات ثورة ٢٥ يناير ٢٠١١م حل

ب لمن تنسب الأعمال الآتية ... ؟ :

- ١ - أسس الحزب الوطني المصري عام ١٩٠٧م . ()
- ٢ - تشكيل أول حكومة دستورية في مصر عام ١٩٢٤م . ()
- ٣ - أسس تنظيم الضباط الأحرار عام ١٩٥٢م . ()
- ٤ - حرب شهدتها مصر في الفترة ما بين حرب عام ١٩٦٧م وقبل حرب أكتوبر عام ١٩٧٣م . ()
- ٥ - استخدم وسائل التواصل الاجتماعي أثناء ثورة ٢٥ يناير عام ٢٠١١م . ()



١- ما النتائج المترتبة على ... ؟ :

- ١ - مظاهرة عابدين السلمية في ٩ سبتمبر عام ١٨٨١ م .
- ٢ - نفي سعد زغلول وزملائه إلى جزيرة مالطة .
- ٣ - العدوان الإسرائيلي على مصر عام ١٩٦٧ م .

ب اكتب ما تشير إليه العبارات الآتية :

- ١ - مجموع المبادئ والقواعد التي تحدد نظام الحكم في الدولة . (.....)
- ٢ - مجموعة منظمة تشترك في وضع برامج محددة لتحسين شئون الدولة من خلال المشاركة في مسئوليات الحكم . (.....)

ح صوب الكلمات التي تحتها خط في الجمل الآتية :

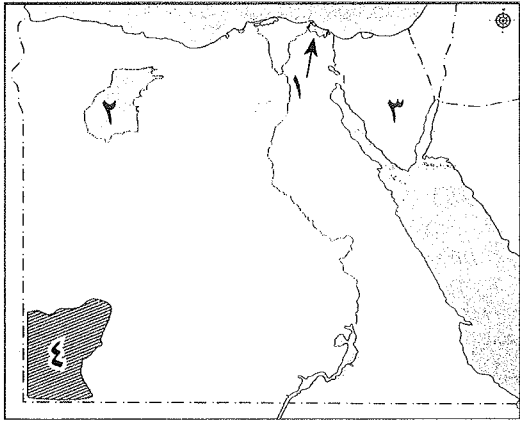
- ١ - تخلت إنجلترا عن مساندة الحركة الوطنية المصرية بعد عقد الاتفاق الودي عام ١٩٠٤ م . (.....)
- ٢ - أصدرت إيطاليا تصريح ٢٨ فبراير عام ١٩٢٢ م . (.....)
- ٣ - تم بناء سد أسوان على نهر النيل وافتتاحه عام ١٩٧١ م . (.....)
- ٤ - غيرت حرب أكتوبر عام ١٩٧٣ م نظرة العالم للجيش السعودي . (.....)
- ٥ - من نتائج ثورة ٣٠ يونيو عام ٢٠١٣ م تعديل دستور عام ٢٠٠٥ م وصدور الدستور الجديد عام ٢٠١٤ م . (.....)

١٢ محافظة الإسماعيلية

أولاً : الجغرافيا

١- أمامك خريطة صماء لمصر ، اكتب مدلول الأرقام

الموقعة عليها :



- ١ - مدينة ساحلية
- ٢ - منخفض
- ٣ - شبه جزيرة
- ٤ - هضبة

ب صوب ما تحته خط :

- ١ - يوجد جبل العوينات في شمال شرق مصر . (.....)
- ٢ - تربة البيئة الصحراوية المصرية طينية سوداء . (.....)
- ٣ - تمتاز مناطق البيئة الساحلية المصرية للبحر الأحمر بغزارة الأمطار . (.....)

ح أمامك جدول به عبارات انقلها كاملة ، واكتب بجوار كل عبارة ما يناسبها (أوافق) أو (لا أوافق) :

لا أوافق	أوافق	العبارات
		١ - اهتمام الدولة باستصلاح الأراضي في البيئة الصحراوية .
		٢ - إلقاء مياه الصرف الصحي والصناعي والزراعي في البحر والبحيرات الساحلية .
		٣ - التوعية بعدم عمالة الأطفال والزواج المبكر في البيئة الصحراوية .



أكمل العبارات التالية بكلمات مناسبة :

- ١ - من المدن الساحلية المليونية المصرية مدينة
 - ٢ - أهم الحبوب الغذائية في البيئة الصحراوية المصرية
 - ٣ - تتميز البيئة الساحلية في مصر بتنوع الخصائص
 - ٤ - حيوانات الرعى في البيئة الصحراوية الماعز و و
- ب بم تفسر ... ؟ ١ - تنتشر الشعاب المرجانية في مناطق متفرقة على طول ساحل البحر الأحمر .
- ٢ - تنوع الأنشطة الاقتصادية المصرية في البيئة الصحراوية .
 - ٣ - استزراع الكثبان الرملية جنوب واحة سيوة وفي مناطق كثيرة من الصحارى .

ثانيًا : التاريخ

أ اختر الإجابة الصحيحة مما بين الأقواس :

- ١ - انضم أحمد عرابي للجيش المصرى فى عهد :
(محمد على - الخديو إسماعيل - سعيد باشا - الملك فاروق)
- ٢ - شارك فى الدعوة لإنشاء الجامعة المصرية :
(أحمد عرابى - سعد زغلول - محمد فريد - جمال عبد الناصر)
- ٣ - لجأت إسرائيل إلى إقامة سلسلة من التحصينات العسكرية المنيعة مثل خط :
(مائير - شارون - موسى ديان - بارليف)
- ٤ - من أسباب ثورة ٢٥ يناير ٢٠١١ م :
(انتشار الفساد - سوء الأوضاع الاقتصادية - تزوير الانتخابات - كل ما سبق)

ب اكتب المصطلح أو المفهوم العلمى للعبارات التالية :

- ١ - توزيع الثروات القومية بين المواطنين توزيعًا عادلاً . (.....)
- ٢ - مجموعة من الضباط المعروفين بوطنيتهم وتجمعهم أهداف مشتركة . (.....)
- ٣ - مجموعة المبادئ والقواعد التى تحدد نظام الحكم فى الدولة . (.....)

ح لمن تنسب الأعمال التالية ... ؟ :

- ١ - دعا لإنشاء مدارس ليلية لتعليم العمال والفقراء مجاناً . (.....)
- ٢ - أسس جريدة اللواء عام ١٩٠٠ م . (.....)
- ٣ - شارك فى تأسيس الجمعية السرية (مصر الفتاة) . (.....)

أ اكتب كلمة (صواب) أو (خطأ) بجوار ما يناسبها من العبارات التالية :

- ١ - ازدياد الوعى القومى والتحرر من الاستعمار من عوامل قيام الثورة ١٩١٩ م . ()
- ٢ - أنشأ طلعت حرب بنك مصر سنة ١٩٢٠ م . ()
- ٣ - عدم استخدام العنف ضد المتظاهرين فى أحداث ثورة ٢٥ يناير سنة ٢٠١١ م . ()
- ٤ - تمصير الشركات والبنوك من إنجازات ثورة ٢٣ يوليو ١٩٥٢ م . ()

ب اذكر نتيجة واحدة لكل من :

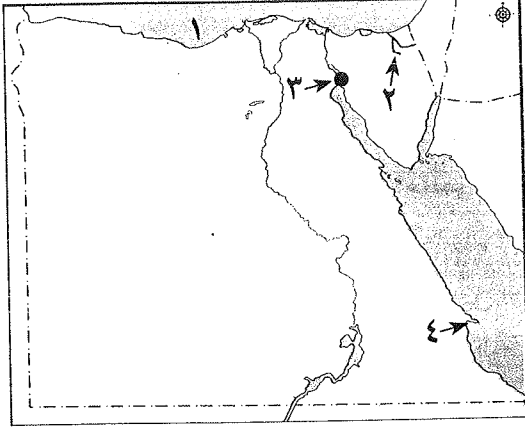
- ١ - أحداث ثورة ١٩١٩ م .
- ٢ - مطالب أحمد عرابى فى المظاهرة السلمية فى ٩ سبتمبر ١٨٨١ م .
- ٣ - إعلان مصر تأميم شركة قناة السويس فى يوليو ١٩٥٦ م .



محافظة بورسعيد

١٣

أولاً : الجغرافيا



- (.....)
 (.....)
 (.....)

١- أمامك خريطة صماء لمصر ، اكتب مدلول الأرقام الموقعة عليها :

- ١- بحر
 ٢- وادى
 ٣- مدينة
 ٤- رأس

ب اكتب ما تشير إليه العبارات الآتية :

- ١- مجارٍ مائية كانت تجرى بها المياه قديماً ثم جفت .
 ٢- تدهور التربة وانخفاض قدرتها الإنتاجية .
 ٣- خليج ذو مضيق متعمق فى اليابس .

ح قارن بين الصحراء الغربية والصحراء الشرقية من حيث مظاهر السطح الآتية :

- ١- الجبال .
 ٢- الهضاب .

١ اختر الإجابة الصحيحة مما بين الأقواس :

- ١- من النباتات الطبيعية التى لها أوراق إسفنجية :
 ٢- توجد الصحراء البيضاء بواحة :
 ٣- السهول المطلة على البحر الأحمر تتسع كلما أتجهنا :
 ٤- يتجه سكان واحة سيوة للاستقرار فى مدينة : (مرسى مطروح - الإسكندرية - دمنهور - شرم الشيخ)
 ٥- أكبر بحيرات البيئة الساحلية إنتاجاً للأسماك فى مصر بحيرة : (المنزلة - البردويل - البرلس - أدكو)

ب بم نفسر ؟ : ١- زيادة الوفيات وخاصة بين الأطفال فى البيئة الصحراوية .

٢- اعتدال الحرارة طوال العام فى البيئة الساحلية .

٣- تلوث المياه الشاطئية فى البيئة الساحلية .

ح ما مقترحاتك لحل المشكلات الآتية ... ؟ :

- ١- السيول فى البيئة الصحراوية .
 ٢- تآكل السواحل فى البيئة الساحلية .

ثانياً : التاريخ

١ أكمل العبارات الآتية بما يناسبها من كلمات :

- ١- بدأ « أحمد عرابى » كفاحه ضد استبداد النظام التركى منذ عهد الخديو
 ٢- أسس مصطفى كامل جريدة
 ٣- عُزل اللورد كرومر من منصبه كمعتمد بريطانى فى مصر عقب حادثة
 ٤- شارك فى ثورة ١٩١٩م كافة طوائف المجتمع المصرى ولذلك تعد ثورة
 ٥- استولت إسرائيل بعد عدوان ١٩٦٧م على هضبة السورية .

٣



ب صنف الأسباب الآتية كلاً حسب الثورة التي قامت من أجله :

- ١ - تزوير انتخابات مجلسي الشعب والشورى .
- ٢ - سوء توزيع الثروات وغياب العدالة الاجتماعية .
- ٣ - ازدياد الوعي القومي والدعوة إلى التحرر من الاستعمار .

الثورة	ثورة ٢٣ يوليو ١٩٥٢م	ثورة ٢٥ يناير ٢٠١١م
السبب		

- ح بم تفسر ؟ : ١ - خيب مؤتمر الصلح بباريس ١٩١٩م آمال المصريين في الاستقلال .
٢ - فشل العدوان الثلاثي على مصر ١٩٥٦م .

١ اختر الإجابة الصحيحة مما بين الأقواس لكل عبارة من العبارات الآتية :

- ١ - شارك العديد من الزعماء الوطنيين في الثورة العرابية إلى جانب أحمد عرابي مثل :
(عبد العزيز فهمي - محمد فريد - علي شعراوي - محمد عبده)
- ٢ - فشلت القوات البريطانية في دخول مصر عن طريق :
(كفر الدوار - التل الكبير - كفر الزيات - الإسكندرية)
- ٣ - ساندت ثورة ٢٣ يوليو ١٩٥٢م معظم حركات التحرر الوطني ومن أبرزها ثورة :
(فلسطين - الجزائر - سوريا - العراق)
- ٤ - من نتائج حرب أكتوبر ١٩٧٣م عودة الملاحة تحت السيادة المصرية الكاملة في يونيه ١٩٧٥م في :
(البحر الأحمر - البحر المتوسط - قناة السويس - خليج العقبة)

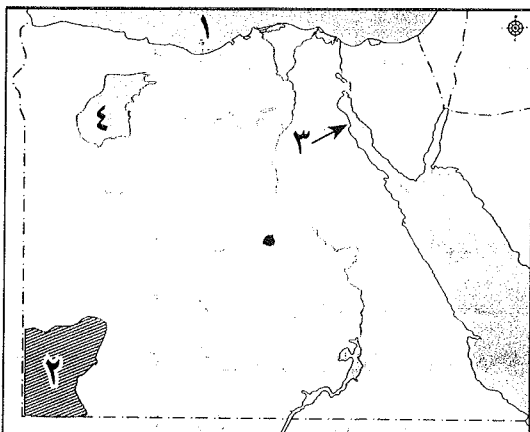
ب لمن تنسب الأعمال الآتية ... ؟ :

- ١ - تأمر وأتباعه على الحركة الوطنية مما أدى إلى تمكين بريطانيا من احتلال مصر . (.....)
- ٢ - رفض مد امتياز شركة قناة السويس ١٩١٠م . (.....)
- ٣ - قام بتأسيس تنظيم الضباط الأحرار . (.....)
- ٤ - رئيس المحكمة الدستورية العليا تسلم السلطة لحين إجراء انتخابات رئاسية مبكرة عقب
ثورة ٣٠ يونيه ٢٠١٣م . (.....)

- ح « تعددت العوامل التي أدت إلى نجاح حرب أكتوبر ١٩٧٣م » .
في ضوء هذه العبارة ، وضح : عوامل نجاح حرب أكتوبر ١٩٧٣م .

١٤ محافظة السويس

أولاً : الجغرافيا



١ أمامك خريطة صماء لمصر ، اكتب مدلول الأرقام الموقعة عليها :

- ١ - البحر
- ٢ - هضبة
- ٣ - خليج
- ٤ - منخفض



ب اكتب كلمة (صواب) أمام العبارة الصحيحة ، وكلمة (خطأ) أمام العبارة غير الصحيحة فيما يلي :

- ١ - تمتد البيئة الساحلية على البحر المتوسط من طابا حتى حدود السودان . ()
- ٢ - يعتمد سكان الواحات على المياه الجوفية في الزراعة . ()
- ٣ - تقع هضبة (مارماريكا) في الشمال من الصحراء الشرقية . ()
- ٤ - أقيم مشروع استزراع الكثبان الرملية في واحة سيوة لتثبيت الرمال . ()

ح بم تفسر ... ؟ :

- ١ - ضيق السهول الساحلية المطلة على خليج العقبة .
- ٢ - تملح التربة في بعض المناطق بالبيئة الصحراوية .

١ اكمل العبارات التالية بكلمات مناسبة :

- ١ - يميل مناخ البيئة الصحراوية إلى الحرارة في فصل الصيف .
- ٢ - من العادات السلبية لسكان البيئة الساحلية الهجرة غير
- ٣ - من أشهر القبائل الرعوية في الصحراء الشرقية قبائل
- ٤ - تنتشر في مناطق متفرقة على طول ساحل البحر الأحمر .

ب اكتب ما تشير إليه العبارات التالية :

- ١ - مدينة يزيد سكانها عن مليون نسمة . (.....)
- ٢ - قيام الأمواج بنحت الصخور التي تشكل ساحل البحر . (.....)
- ٣ - هو جزء من الأرض يقل مستواه عن الأرض المحيطة به . (.....)
- ٤ - مجارٍ مائية كانت تجري فيها المياه قديماً ثم جفت . (.....)
- ٥ - أرض منخفضة بالصحراء تقوم بها الزراعة على المياه الجوفية . (.....)

ح ما النتائج المترتبة على : إنشاء الدولة شبكة من الطرق في البيئة الصحراوية ؟

ثانياً: التاريخ

١ اختر الإجابة الصحيحة مما بين الأقواس :

- ١ - نجح الجيش المصري في إزالة الساتر الترابي والعبور إلى : (سيناء - الدفرسوار - الإسماعيلية - السويس)
- ٢ - سيطر الحزب قبل ثورة ٢٥ يناير ٢٠١١ م على أغلبية مقاعد مجلسي الشعب والشورى .
- ٣ - أقامت مصر عام ١٩٥٨ م وحدة مع : (بريطانيا - الجزائر - سوريا - الأردن)
- ٤ - احتل الإنجليز القاهرة بعد هزيمة عرابي عند : (التل الكبير - كفر الدوار - الإسكندرية - بورسعيد)

ب لمن تنسب الأعمال التالية ... ؟ :

- ١ - أعلن أثناء الحرب العالمية الأولى حق الشعوب في تقرير مصيرها . (.....)
- ٢ - أسس بنكاً وطنياً بأموال مصرية عام ١٩٢٠ م . (.....)
- ٣ - أنشأ الحزب الوطني عام ١٩٠٧ م . (.....)
- ٤ - قائد ثورة الجيش المصري عام ١٨٨١ م . (.....)



ح بم تفسر ... ؟ :

١ - تُعد ثورة ١٩١٩م ثورة شعبية .

٢ - سوء أحوال المصريين الاقتصادية في عهد وزارة (رياض باشا) .

ا اكتب كلمة (صواب) أمام العبارة الصحيحة ، وكلمة (خطأ) أمام العبارة غير الصحيحة فيما يلي :

١ - أدت الامتيازات الأجنبية إلى تدخل إنجلترا وفرنسا في شئون مصر . ()

٢ - التزمت مصر وإسرائيل بقرار مجلس الأمن رقم (٢٣٨) . ()

٣ - عُزل اللورد كرومر من منصبه بعد حادثة دنشواي عام ١٩٠٦م . ()

٤ - رفضت سلطات الاحتلال البريطاني سفر أعضاء الوفد المصري إلى إنجلترا . ()

٥ - أصدرت حكومة ثورة يوليو قانون الإصلاح الزراعي في سبتمبر عام ١٩٥٢م . ()

ب اكتب ما تشير إليه العبارات التالية :

١ - عدم تبعية اقتصاد مصر لأي دولة أجنبية واعتمادها على رؤوس أموال وطنية . ()

٢ - مجموعة منظمة تشترك في وضع برامج محددة لتحسين شئون الدولة سياسياً واقتصادياً واجتماعياً . ()

٣ - مؤتمر عقدته بعض الدول الأوروبية بعد الحرب العالمية الأولى للنظر في الأوضاع السياسية . ()

٤ - مجموعة المبادئ والقواعد التي تحدد نظام الحكم في الدولة . ()

ح ما النتائج المترتبة على : قبول الحكومة المصرية لتصريح ٢٨ فبراير عام ١٩٢٢م ؟

محافظة جنوب سيناء

10

أولاً : الجغرافيا

ا أمامك خريطة صماء لجمهورية مصر العربية ،

اكتب مدلول الأرقام الموقعة عليها :

١ - شبه جزيرة

٢ - منخفض

٣ - محمية طبيعية

٤ - منطقة لاستخراج الحديد

ب ما المقصود بالمفاهيم التالية ... ؟ :

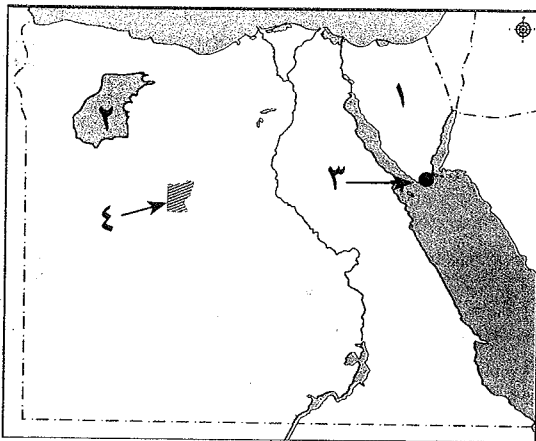
١ - كثبان رملية .

٢ - خليج .

ح بم تفسر ... ؟ :

١ - تُعد السياحة من الأنشطة الاقتصادية الهامة في البيئة الصحراوية .

٢ - تركز نسبة كبيرة من سكان مصر في المحافظات الساحلية .





١ اكتب كلمة (صواب) أمام العبارة الصحيحة وكلمة (خطأ) أمام العبارة غير الصحيحة :

- ١ - يتميز سكان البيئة الصحراوية بإكرام الضيف . ()
- ٢ - يعتبر تملح التربة من المشكلات التي تعاني منها البيئة الصحراوية . ()
- ٣ - تنتشر الشجيرات المرجانية بمناطق متفرقة بسواحل البحر المتوسط . ()
- ٤ - تُعد الصحراء الغربية أكبر صحارى مصر مساحة . ()
- ٥ - تقل نسبة التعليم بين سكان البيئة الساحلية . ()
- ٦ - تعتبر حرفة صيد الأسماك من الحرف الرئيسية فى البيئة الساحلية . ()

ب ما مقترحاتك لحل مشكلة تآكل الشواطئ فى البيئة الساحلية ؟

ح برهن على صحة العبارة الآتية : « تبذل الدولة العديد من الجهود لحل مشكلات التعليم فى البيئة الصحراوية » .

ثانيًا : التاريخ

١ أكمل العبارات الآتية بما يناسبها من كلمات :

- ١ - احتل الإنجليز القاهرة بعد هزيمة عرابى فى معركة
- ٢ - أسس الزعيم مصطفى كامل عام ١٩٠٠م جريدة
- ٣ - تشكلت أول حكومة دستورية عام ١٩٢٤م برئاسة
- ٤ - من إنجازات ثورة يوليو ١٩٥٢م إصدار قانون لتحديد الملكية الزراعية .

ب اكتب ما تشير إليه العبارات الآتية :

- ١ - توزيع الثروات القومية بين المواطنين توزيعًا عادلاً . (.....
- ٢ - مجموع المبادئ والقواعد التى تحدد نظام الحكم فى الدولة . (.....

ح ما النتائج المترتبة على : تأميم شركة قناة السويس ؟

١ اختر الإجابة الصحيحة مما بين الأقواس :

- ١ - عقد مؤتمر الصلح عقب انتهاء الحرب العالمية الأولى فى مدينة : (لندن - روما - باريس - برلين)
- ٢ - رفض مد امتياز شركة قناة السويس عام ١٩١٠م الزعيم :

(محمد فريد - أحمد عرابى - مصطفى كامل - محمد عبده)

٣ - قبل ثورة ٢٥ يناير ٢٠١١م سيطر على أغلبية مقاعد مجلس الشعب الحزب :

(الوفدى - الوطنى - الدستورى - الثورى)

ب « قام المصريون بالعديد من الثورات من أجل الحرية والاستقلال »

فى ضوء العبارة السابقة ، أجب عما يأتى :

١ - ما المقصود باستقلال مصر الاقتصادى ؟

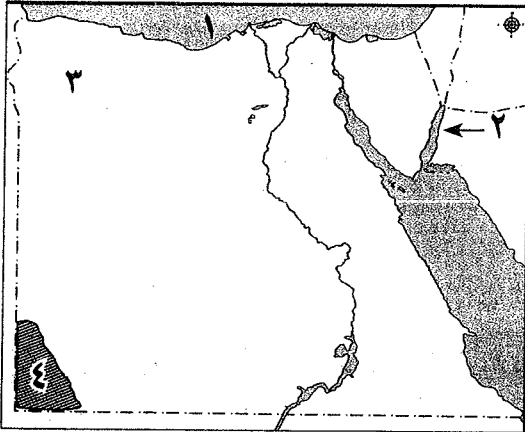
٢ - وضح أهم أسباب الثورة العرابية .



محافظة الفيوم

١٦

أولاً : الجغرافيا



١- أمامك خريطة صماء لمصر ، اكتب مدلول الأرقام الموقعة عليها :

- ١ - البحر
 ٢ - خليج
 ٣ - هضبة
 ٤ - جبل

ب) بم تفسر ؟ : (يكتفى بسبب واحد فقط)

- ١ - تركز نسبة كبيرة من سكان مصر في المحافظات الساحلية .
 ٢ - هجرة بعض سكان البيئة الصحراوية إلى البيئات الأخرى .

ج) أين توجد الظواهر الآتية ؟ :

- ١ - خليج العرب .
 ٢ - سد الروافعة .
 ٣ - الصحراء البيضاء .
 ٤ - رأس بناس .

١- اختر الإجابة الصحيحة مما بين الأقواس :

- ١ - تتسع السهول الساحلية المطلة على البحر الأحمر بشكل عام كلما اتجهنا : (شمالاً - شرقاً - غرباً - جنوباً)
 ٢ - يوجد الذهب في مناجم بالصحراء الشرقية . (أم بجمة - السكرى - أبو طرطور - السباعية)
 ٣ - قامت الدولة بمشروع استزراع الكثبان الرملية جنوب واحة : (الخارجة - الفرافرة - سيوة - البحرية)
 ٤ - من العادات السلبية لسكان البيئة الساحلية في مصر :

(التعاون - الهجرة غير الشرعية - تعليم البنات - مشاركة المرأة للرجل)

٥ - من المدن الساحلية المليونية مدينة : (القاهرة - الجيزة - الإسكندرية - الغردقة)

ب) اكتب ما تشير إليه العبارات الآتية :

- ١ - خليج ذو مدخل ضيق متعمق في اليابس .
 ٢ - جزء من الأرض يقل مستواه عن الأرض المحيطة به .
 ٣ - تدهور التربة الزراعية وانخفاض قدرتها الإنتاجية .

ج) ماذا يحدث إذا ... ؟ :

- ١ - اهتمت الدولة بإنشاء المدارس في البيئة الصحراوية .
 ٢ - أهملت الدولة حماية السواحل .



ثانياً : التاريخ

أمامك مجموعة من النتائج التي ترتبت على قيام ثورات هامة في تاريخ مصر انسب كل نتيجة إلى ثورتها:

النتيجة	إسقاط الرئيس والنظام الحاكم	إصدار تصريح ٢٨ فبراير	تولى المستشار عدلى منصور رئاسة الجمهورية	القضاء على النظام الملكى وإعلان الجمهورية
---------	-----------------------------	-----------------------	--	---

ب إلى من تسبب الأعمال الآتية ؟ :

- ١ - رفض مد امتياز شركة قناة السويس ١٩١٠ م .
- ٢ - قاد ثورة الجيش المصرى عام ١٨٨١ م .
- ٣ - أنشأ بنك مصر .
- ٤ - رئيس أمريكى أعلن حق الشعوب فى تقرير مصيرها .

ح ما النتائج المترتبة على : خطب ومقالات الزعيم مصطفى كامل ؟

أ صوب ما تعنته خط :

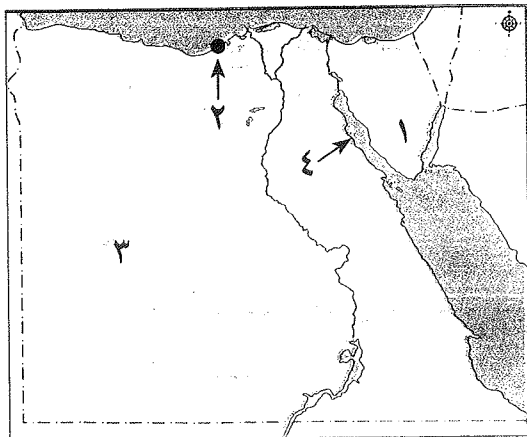
- ١ - احتل الإنجليز القاهرة بعد معركة كفر الدوار .
- ٢ - تخلت روسيا عن تأييد قضية استقلال مصر بعد الاتفاق الودى عام ١٩٠٤ م .
- ٣ - تم تشكيل أول حكومة دستورية فى عام ١٩٢٤ م برئاسة شريف باشا .
- ٤ - اشتركت فرنسا وتركيا وإسرائيل فى العدوان الثلاثى على مصر .
- ٥ - بدأ أنور السادات تجنيد أولاد العمد والمشايخ .
- ٦ - التزمت إسرائيل بقرار مجلس الأمن رقم (٢٣٨) .

ب اختر الإجابة الصحيحة مما بين الأقواس :

- ١ - كان الحاكم الفعلى للبلاد بعد الاحتلال البريطانى لمصر :
(أحمد عربى - الخديو توفيق - السلطان العثمانى - المعتمد البريطانى)
- ٢ - سبب نجاح حرب أكتوبر ١٩٧٣ م :
(العقيدة القتالية - قوة الإيمان - السرية التامة - كل ما سبق)
- ٣ - أقامت مصر عام ١٩٥٨ م وحدة مع :
(ليبيا - السودان - سوريا - السعودية)
- ٤ - نجح الجيش المصرى فى إزالة الساتر الترابى والعبور إلى : (الدفرسوار - سيناء - الإسماعيلية - السويس)

محافظة بني سويف

١٧



أولاً : الجغرافيا

أ أمامك خريطة صماء لمصر ، اكتب مدلول الأرقام الموقعة عليها :

- ١ - شبه جزيرة
- ٢ - مدينة
- ٣ - الصحراء
- ٤ - خليج



ب اكتب المفهوم الجغرافي الذي تدل عليه العبارات التالية :

- ١ - قيام الأمواج بنحت الصخور التي تشكل ساحل البحر . (.....)
- ٢ - تجمعات من الرمال تأخذ أشكالاً مختلفة وتنتشر في مناطق الصحارى . (.....)
- ٣ - هجرة أفراد وجماعات إلى خارج الدولة بطرق غير قانونية . (.....)

اكتب كلمة (صواب) أمام العبارة الصحيحة ، وكلمة (خطأ) أمام العبارة غير الصحيحة :

- ١ - يعتمد سكان الواحات على المياه الجوفية في الزراعة . ()
- ٢ - تُعد البيئة الساحلية منطقة جذب لسكان البيئات الأخرى . ()
- ٣ - بحيرة المنزلة من أقل البحيرات إنتاجاً للأسمك في مصر . ()
- ٤ - يتسم مناخ البيئة الصحراوية بارتفاع درجة الحرارة في فصل الشتاء . ()

ب بم تفسر ؟ : (يكتفى بسبب واحد فقط)

- ١ - ضيق السهل الساحلى على خليج العقبة .
- ٢ - تملح التربة في بعض المناطق بالبيئة الصحراوية .

ثانياً : التاريخ

ا اختر الإجابة الصحيحة مما بين الأقواس :

- ١ - نجح الجيش المصرى فى إزالة الساتر الترابى والعبور إلى :
(سيناء - السويس - الدفرسوار - الإسماعيلية)
- ٢ - تم نفي سعد زغلول فى مارس ١٩١٩م إلى جزيرة :
(مالطة - سيشل - قبرص - شدوان)
- ٣ - احتل الإنجليز القاهرة بعد هزيمة عرابى عند :
(التل الكبير - كفر الدوار - الإسكندرية - بورسعيد)
- ٤ - ارتبط اسم بالاستقلال الاقتصادى لمصر .
(أحمد عرابى - طلعت حرب - ديليسبس - مصطفى كامل)

ب ما النتائج المترتبة على ... ؟ : (يكتفى بنتيجة واحدة)

- ١ - تأميم شركة قناة السويس ١٩٥٦ م .
- ٢ - كفاح مصطفى كامل ضد الاحتلال البريطانى .

ا من الذى قام بالأعمال التالية ... ؟ :

- ١ - شكل أول حكومة دستورية فى مصر ١٩٢٤م . (.....)
- ٢ - أنشأ مدارس ليلية لتعليم العمال والفقراء مجاناً . (.....)
- ٣ - قائد مظاهرة عابدين فى عام ١٨٨١ م . (.....)

ب رتب الأحداث الآتية من الأقدم إلى الأحدث :

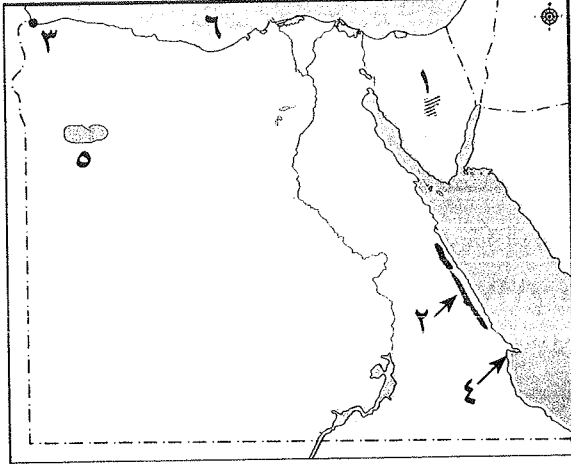
- (ثورة ٣٠ يونيو ٢٠١٣م - العدوان الثلاثى على مصر - الحرب العالمية الأولى - حادثة دنشواى)



محافظه المنيا

١٨

أولاً : الجغرافيا



١ أمامك خريطة صماء لمصر ، اكتب ما تدل عليه الأرقام :

- ١ - هضبة
- ٢ - جبال
- ٣ - مدينة
- ٤ - رأس أرضى
- ٥ - واحة
- ٦ - البحر

ب اكتب ما تدل عليه المفاهيم الآتية :

- ١ - يُقصد بها قيام الأمواج بنحت الصخور التي تشكل ساحل البحر . (.....)
- ٢ - هو جزء من الأرض يقل مستواه عن الأراضي المحيطة به . (.....)

١ أكمل الجمل التالية بكلمات مما بين الأقواس فيما يلي :

(الأحمر - بلاعيم - قسمين - الساحلية - أبو ماضي - الصحراوية - الطبيعية)

- ١ - تنقسم البيئة الساحلية على البحر الأحمر إلى
- ٢ - ترتفع نسبة الأمية في المحافظات
- ٣ - من أمثلة حقول الغاز الطبيعي حقل في شمال الدلتا .
- ٤ - تتميز البيئة الصحراوية في مصر بتنوع الخصائص
- ٥ - تتركز نسبة كبيرة من سكان مصر في المحافظات
- ٦ - تنتشر الشعاب المرجانية في مناطق متفرقة على طول ساحل البحر

ب ما النتائج المترتبة على ... ؟ :

- ١ - يقضى الرجال في البيئة الساحلية معظم أوقاتهم في الأعمال المرتبطة بالبحر .
- ٢ - الإسراف في استخدام المياه في البيئة الصحراوية خاصة في الزراعة .

ثانياً : التاريخ

١ اختر الإجابة الصحيحة مما بين الأقواس فيما يلي :

- ١ - من مطالب الأمة في مظاهرة عابدين سبتمبر ١٨٨١م إسقاط وزارة :
(شريف باشا - رياض باشا - سعيد باشا - نوبار باشا)
- ٢ - بعد اغتيال الرئيس السادات تولى الحكم في مصر نائبه :
(محمد نجيب - جمال عبد الناصر - محمد حسنى مبارك - محمد فريد)
- ٣ - فشلت القوات البريطانية في دخول البلاد عن طريق : (كفر الدوار - دمياط - الإسماعيلية - الإسكندرية)
- ٤ - تولى سعد زغلول وزارة ١٩١٠م . (المعارف - الحقانية - الزراعة - الحربية)
- ٥ - استعدداً لحرب أكتوبر ١٩٧٣م تم التنسيق بين الجيشين المصرى و :
(الليبى - السودانى - السعودى - السورى)
- ٦ - من الأسباب الاجتماعية لثورة ٢٣ يوليو ١٩٥٢م انتشار الجهل و : (التقدم - الرخاء - المرض - الرقى)



ب من قام بالأعمال الآتية ... ؟ :

١ - صاحب إعلان مبادئ حق الشعوب في تقرير مصيرها . (.....)

٢ - رفض مد امتياز شركة قناة السويس عام ١٩١٠ م . (.....)

١ اكتب كلمة (صواب) أمام العبارة الصحيحة وكلمة (خطأ) أمام العبارة غير الصحيحة :

١ - انضم أحمد عرابي للجيش وبدأ كفاحه منذ عهد سعيد باشا . ()

٢ - ساءت أحوال مصر الاقتصادية والاجتماعية أثناء الحرب العالمية الأولى . ()

٣ - أسس مصطفى كامل جريدة الوقائع المصرية عام ١٩٠٠ م . ()

٤ - من أسباب حرب أكتوبر ١٩٧٣ م رفض إسرائيل مفاوضات التسوية السلمية . ()

٥ - من أهم إنجازات ثورة ٢٣ يوليو ١٩٥٢ م إصدار قانون الإصلاح الزراعي في سبتمبر ١٩٥٢ م . ()

٦ - استسلمت مصر بعد هزيمة ٥ يوليو عام ١٩٦٧ م . ()

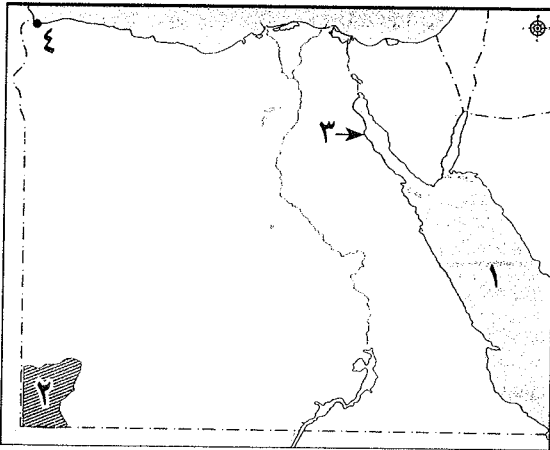
ب بم تفسر ؟ : ١ - خيب مؤتمر الصلح بباريس آمال المصريين في الاستقلال .

٢ - تأمر كل من إنجلترا وفرنسا وإسرائيل على مصر عام ١٩٥٦ م .

محافظة أسيوط

١٩

أولاً : الجغرافيا



١ أمامك خريطة صماء لمصر ، اكتب مدلول الأرقام

الموقعة عليها :

١ - البحر

٢ - جبل

٣ - خليج

٤ - مدينة

ب بم تفسر ... ؟ :

١ - ضيق السهول الساحلية المطلة على خليج العقبة .

٢ - انخفاض نسبة الأمية في المحافظات الصحراوية مؤخرًا .

١ اختر الإجابة الصحيحة مما بين الأقواس :

١ - توجد هضبة مارماريكا في الصحراء الغربية وتقع في الجزء منها .

(الأوسط - الشمالي - الجنوبي - الشرقي)

٢ - أكبر البحيرات إنتاجًا للأسماك بحيرة على الساحل الشمالي .

(البردويل - المنزلة - البرلس - إدكو)

٣ - تُعد حرفة من الحرف الرئيسية في البيئة الساحلية .

٤ - قامت الدولة بمشروع استزراع الكثبان الرملية جنوب واحة : (الخارجة - الداخلة - البحرية - سيوة)

٥ - من المدن الساحلية المليونية مدينة : (القاهرة - الإسكندرية - الإسماعيلية - الغردقة)

٦ - من العادات السلبية لسكان البيئة الصحراوية :

(إكرام الضيف - العمل في جماعة - الترابط الأسرى - عمل الأطفال في الرعي والزراعة)



ب اذكر نتيجة واحدة لكل مما يأتي :

- ١ - حركة الرمال بفعل الرياح في البيئة الصحراوية .
٢ - صفاء مياه البحر الأحمر وهدوء حركتها .

ثانياً : التاريخ

١ أكمل العبارات الآتية بما يناسبها من كلمات :

- ١ - احتلت إنجلترا القاهرة بعد في سبتمبر ١٨٨٢ م .
٢ - أسس جريدة اللواء عام ١٩٠٠ م .
٣ - قامت بين مصر و وحدة عام ١٩٥٨ م ولكنها لم تدم طويلاً .
٤ - تولى سعد زغلول نظارة عام ١٩٠٦ م .
ب بم تفسر ... ؟ : ١ - نجاح حرب أكتوبر ١٩٧٣ م .
٢ - العدوان الثلاثي على مصر ١٩٥٦ م .

١ اكتب كلمة (صواب) أمام العبارة الصحيحة ، وكلمة (خطأ) أمام العبارة غير الصحيحة :

- ١ - طالب أحمد عرابي بإقالة وزارة شريف باشا . ()
٢ - من الأسباب الاقتصادية لثورة ١٩٥٢ م انتشار المرض . ()
٣ - أصدرت بريطانيا تصريح ٢٨ فبراير ١٩٢٢ م واعترفت فيه باستقلال مصر . ()
٤ - أسس طلعت حرب بنك مصر ١٩٢٠ م لتمويل المشروعات الوطنية . ()

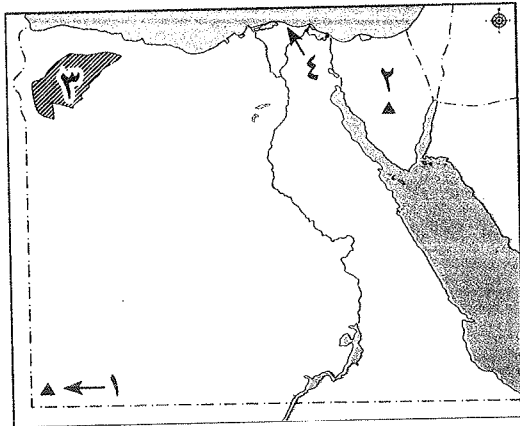
ب أجب عما يلي : ١ - ما أهداف ثورة ٢٥ يناير ٢٠١١ م ؟
٢ - اذكر نتيجة حادثة دنشواي ١٩٠٦ م .

محافظة سوهاج

أولاً : الجغرافيا

١ أمامك خريطة صماء لمصر ، اكتب مدلول الأرقام

الموقعة عليها :



- ١ - جبل
٢ - منجم منجنيز في سيناء
٣ - منخفض
٤ - حقل غاز طبيعي

ب أعط المفهوم الجغرافي لكل عبارة من العبارات الآتية :

- ١ - مدينة يزيد سكانها عن مليون نسمة .
٢ - خليج ذو مدخل ضيق متعمق في اليابس .
٣ - شريط سهلي قد يضيق ويتسع تبعاً لأقتراب الجبال من البحر .

ج اختر الإجابة الصحيحة مما بين الأقواس :

- ١ - أهم أشجار ساحل البحر الأحمر شجيرات : (الصبار - المانجروف - الزيتون - النخيل)
٢ - أكبر البحيرات إنتاجاً للأسماك في مصر : (البرلس - إدكو - المنزلة - مريوط)
٣ - تتركز سياحة السفاري بالصحراء البيضاء في واحة : (الداخلة - الخارجة - سيوة - الفرافرة)



اكتب كلمة (صواب) أمام العبارة الصحيحة وكلمة (خطأ) أمام العبارة غير الصحيحة :

- ١ - طبع البحر سكان البيئة الساحلية على حب المخاطرة والشجاعة في مواجهة الأخطار . ()
- ٢ - إكرام الضيف من العادات السلبية لسكان البيئة الصحراوية . ()
- ٣ - تهب رياح الخماسين على مصر في فصل الربيع . ()
- ٤ - السهل الساحلى على خليج السويس أضيق من السهل الساحلى على خليج العقبة . ()

ب) بم تفسر ... ؟ :

- ١ - النبات الطبيعي في مصر من الأنواع التي تتحمل الجفاف .
- ٢ - السياحة في مصر من الأنشطة الاقتصادية لسكان البيئة الصحراوية .
- ٣ - تلوث المياه الشاطئية في البيئة الساحلية في مصر .

ثانيًا : التاريخ

صوب ما فوق الخط في كل عبارة من العبارات الآتية :

- ١ - فى يوليو ١٨٨٢م أقال الخديو إسماعيل أحمد عرابى من وزارة الحربية . (.....)
- ٢ - تم نفي سعد زغلول ١٩١٩م إلى جزيرة سيلان . (.....)
- ٣ - أسس بنك مصر ١٩٢٠م على شعراوى . (.....)
- ٤ - عقدت اتفاقية الجلاء أكتوبر ١٩٥٤م بين مصر وفرنسا . (.....)
- ٥ - أظهرت حرب أكتوبر ١٩٧٣م أهمية وحدة الصف الأجنبي . (.....)
- ٦ - أسس مصطفى كامل عام ١٩٠٠م جريدة الوطن . (.....)

ب) ما النتائج المترتبة على ... ؟ :

- ١ - إعلان مصر تأميم شركة قناة السويس يوليو ١٩٥٦م .
- ٢ - قبول الحكومة المصرية لتصريح ٢٨ فبراير ١٩٢٢م .

اكتب ما تشير إليه كل عبارة من العبارات الآتية :

- ١ - توزيع الثروات القومية بين المواطنين توزيعًا عادلًا . (.....)
- ٢ - مجموع المبادئ والقواعد التي تحدد نظام الحكم فى الدولة . (.....)

ب) لمن تنسب الأعمال الآتية ... ؟ :

- ١ - رفض مد امتياز قناة السويس عام ١٩١٠م . (.....)
- ٢ - أسس تنظيم الضباط الأحرار فى مصر . (.....)
- ٣ - تولى حكم مصر بعد اغتيال السادات ١٩٨١م . (.....)
- ٤ - الرئيس الأمريكى الذى أعلن حق الشعوب فى تقرير مصيرها . (.....)

ح) « قام الشعب المصرى بالعديد من الثورات خلال تاريخه الطويل لتحقيق الكرامة والحرية والعدالة الاجتماعية » .

فى ضوء هذه العبارة ، أجب عما يأتى :

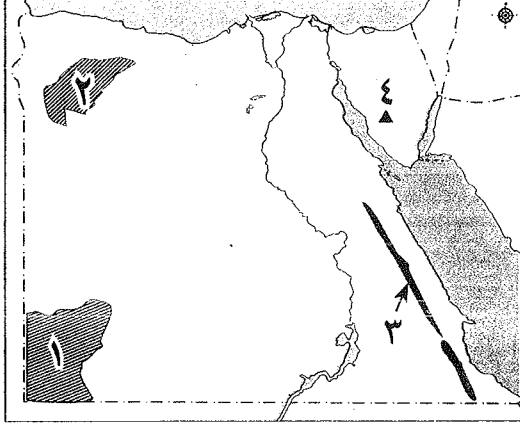
- ١ - ما الأسباب السياسية لثورة ٢٣ يوليو ١٩٥٢م ؟
- ٢ - وضح رأيك فى دور اللجان الشعبية فى ثورة ٢٥ يناير ٢٠١١م .
- ٣ - اذكر مركز اندلاع كل من ثورة ٩ سبتمبر ١٨٨١م ، وثورة ٢٥ يناير ٢٠١١م .



محافظة قنا

٢١

أولاً : الجغرافيا



١ أمامك خريطة صماء لمصر ، وضح مدلول

الأرقام عليها :

- ١ - هضبة
- ٢ - منخفض
- ٣ - سلاسل جبال
- ٤ - منطقة منجيز

ب بم تفسر ؟ :

- ١ - صناعة السجاد اليدوي في البيئة الصحراوية .
- ٢ - ضيق السهل الساحلي على خليج العقبة .
- ٣ - قيام النشاط الزراعي على الساحل الشمالي الغربي لمصر .

ج صوب ما فوق الخط في العبارات الآتية :

- ١ - تُعد الصحراء الشرقية أكبر صحارى مصر . (.....)
- ٢ - يتركز السكان في منطقة الواحات البحرية حيث تعدين الفوسفات . (.....)
- ٣ - من الرؤوس الأرضية رأس الحكمة في ساحل البحر الأحمر . (.....)
- ٤ - تمتاز البيئة الساحلية بدرجة حرارة مرتفعة طوال العام . (.....)
- ٥ - يعمل معظم سكان البيئة الصحراوية بحرفتى الصناعة والزراعة . (.....)

ب اكتب ما تشير إليه العبارات الآتية من مفاهيم ومصطلحات جغرافية :

- ١ - تدهور التربة وانخفاض قدرتها الإنتاجية . (.....)
- ٢ - تجمعات من الرمال تتراكم بفعل الرياح . (.....)
- ٣ - خليج ذو مدخل ضيق متعمق فى اليابس . (.....)
- ٤ - المدينة التى يزيد سكانها عن مليون نسمة . (.....)
- ٥ - هجرة أفراد وجماعات خارج الدولة بطرق غير قانونية . (.....)

ثانياً : التاريخ

١ اختر الإجابة الصحيحة مما بين الأقواس :

- ١ - أسس مصطفى كامل عام ١٩٠٠م جريدة : (الأهرام - اللواء - المؤيد - الأخبار)
- ٢ - تشكلت أول حكومة دستورية عام ١٩٢٤م برئاسة : (مصطفى النحاس - مصطفى كامل - سعد زغلول - شريف باشا)
- ٣ - دمرت القوات المصرية فى حرب أكتوبر ١٩٧٣م خط : (ماجينو - الاستواء - بارليف - جرينتش)
- ٤ - تزوير انتخابات مجلسى الشعب والشورى عام ٢٠١٠م من أسباب ثورة : (٢٣ يوليو - ٢٥ يناير - ٣٠ يونيو - ٢٠ مايو)

س ١

س ٢

س ٣



- ب ما النتائج المترتبة على ... ؟ : ١ - الاتفاق الودي بين فرنسا وإنجلترا ١٩٠٤ م .
٢ - تأميم مصر لشركة قناة السويس عام ١٩٥٦ م .
٣ - عقد معاهدة السلام بين مصر وإسرائيل عام ١٩٧٩ م .

١ لمن تنسب الأعمال الآتية ... ؟ :

- ١ - رفض مد امتياز شركة قناة السويس عام ١٩١٠ م .
٢ - تأسيس بنك مصر عام ١٩٢٠ م .
٣ - رئيس أمريكي أعلن حق الشعوب في تقرير مصيرها .
٤ - أسس تنظيم الضباط الأحرار .
٥ - قائد مظاهرة عابدين ٩ سبتمبر ١٨٨١ م .

ب رتب الأحداث الآتية من الأقدم إلى الأحدث :

(ثورة ٢٣ يوليو - معركة التل الكبير - حرب الاستنزاف - تصريح ٢٨ فبراير)

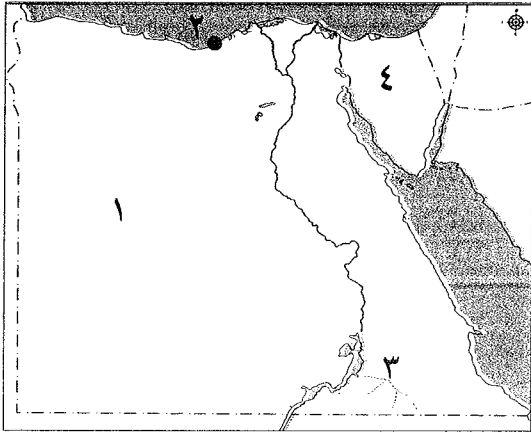
ج ما رأيك في : الحرب التي خاضتها مصر في السادس من أكتوبر عام ١٩٧٣ م ؟

محافظة المنصورة

٢٢

أولاً : الجغرافيا

١ أمامك خريطة صماء لمصر ، اكتب مدلول الأرقام الموقعة عليها :



- ١ - الصحراء
٢ - مدينة
٣ - وادي
٤ - منطقة لاستخراج المنجنيز

ب بم تفسر ؟ :

- ١ - إقامة مشروع استزراع الكثبان الرملية جنوب واحة سيوة .
٢ - ضيق السهل الساحلي على خليج العقبة .
٣ - نمو الشعاب المرجانية بسواحل البحر الأحمر .

ج أمامك مجموعة من خصائص السكان بالبيئة الصحراوية أعد كتابتها بالجدول المبيّن :
(الترابط الأسرى - انخفاض مستوى المعيشة - إقامة العديد من المدارس والكليات)

خصائص اقتصادية	خصائص تعليمية	خصائص اجتماعية
.....

١ اختر الإجابة الصحيحة مما بين الأقواس :

- ١ - تهب رياح الخماسين على مصر في فصل :
(الشتاء - الربيع - الخريف - الصيف)
٢ - تُعد بحيرة من أكبر البحيرات في الإنتاج السمكي في مصر .
(البردويل - البرلس - المنزلة - قارون)
٣ - هضبة مارماريكا بالصحراء الغربية تقع في الجزء :
(الجنوبي - الشرقي - الأوسط - الشمالي)



- ٤ - تنمو أشجار على ساحل البحر المتوسط .
 ٥ - من مشكلات السكان بالبيئة الساحلية :

(الازدحام السكاني - انتشار الأمراض - التلوث البيئي - جميع ما سبق)

ب اكتب المفهوم الجغرافي الذي تدل عليه العبارات الآتية :

- ١ - هجرة أفراد أو جماعات إلى خارج الدولة بطرق غير قانونية .
 ٢ - قيام الأمواج بنحت الصخور التي تشكل ساحل البحر .

(.....)

(.....)

ح اكتب كلمة (صواب) أمام العبارة الصحيحة ، وكلمة (خطأ) أمام العبارة غير الصحيحة فيما يلي :

- ١ - تتوافر في سيناء المزارات السياحية والدينية مما شجع على السياحة .
 ٢ - تملح التربة من المشكلات البيئية بالبيئة الصحراوية .
 ٣ - تُعد الواحات بالصحراء الشرقية من مناطق التركيز السكاني .

()

()

()

ثانياً : التاريخ

١ أكمل العبارات بما يناسبها من كلمات :

- ١ - عزل اللورد كرومر من منصبه عقب حادثة.....
 ٢ - رفض مد امتياز شركة قناة السويس عام ١٩١٠ م .
 ٣ - شكل الزعيم أول حكومة دستورية في مصر عقب الاستقلال .
 ٤ - سوء توزيع الثروات وغياب العدالة الاجتماعية من الأسباب لثورة ٢٣ يوليو ١٩٥٢ م .

ب صوب ما تحته خط :

- ١ - قاد طلعت حرب مظاهرة عابدين السلمية .
 ٢ - أسس محمد فريد الحزب الوطني عام ١٩٠٧ م .
 ٣ - أقيمت وحدة بين مصر والعراق عام ١٩٥٨ م .

(.....)

(.....)

(.....)

ح « تعددت العوامل التي أدت إلى نجاح حرب أكتوبر ١٩٧٣ م » .

في ضوء هذه العبارة ، اكتب ثلاثة من عوامل نجاح حرب أكتوبر ١٩٧٣ م :

١ لمن تنسب الأعمال الآتية ... ؟ :

- ١ - اتخذ قرار العبور بحرب أكتوبر ١٩٧٣ م .
 ٢ - ساعد إنجلترا في دخول قناة السويس واحتلال مصر ١٨٨٢ م .
 ٣ - تولى رئاسة مصر بعد اغتيال الرئيس السادات .

(.....)

(.....)

(.....)

ب اكتب كلمة (صواب) أو كلمة (خطأ) أمام ما يناسبهما من العبارات الآتية :

- ١ - أعلنت الحماية البريطانية على مصر سنة ١٩١٤ م .
 ٢ - من إنجازات ثورة ٢٥ يناير ٢٠١١ م إنشاء السد العالي .
 ٣ - أظهرت حرب أكتوبر ١٩٧٣ م أهمية التضامن العربي .
 ٤ - نجح العدوان الثلاثي ١٩٥٦ م على مصر .

()

()

()

()

ح ما النتائج المترتبة على ... ؟ :

- ١ - تزوير انتخابات مجلسي الشعب والشورى عام ٢٠١٠ م .
 ٢ - تأميم شركة قناة السويس عام ١٩٥٦ م .

()

()

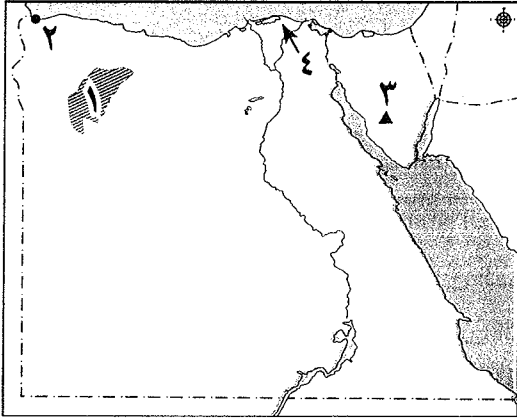
()



محافظة أسوان

٢٣

أولاً : الجغرافيا



١ أمامك خريطة صماء لمصر ، اكتب مدلول الأرقام الآتية :

- ١ - منخفض
- ٢ - مدينة
- ٣ - منطقة لتعدين المنجنيز
- ٤ - حقل غاز طبيعي

ب بم تفسر ؟ : (يكتفى بسبب واحد)

- ١ - ارتفاع نسبة الوفيات بين أطفال البيئة الصحراوية .
- ٢ - إنشاء السدود على الأودية المنتشرة في الصحراء .
- ٣ - ضيق السهول الساحلية المطلة على خليج العقبة .

١ اكتب كلمة (صواب) أمام العبارة الصحيحة وكلمة (خطأ) أمام العبارة غير الصحيحة :

- ١ - تقع هضبة مارماريكا في الشمال من الصحراء الشرقية . ()
- ٢ - يُعد جبل سانت كاترين أعلى قمة جبلية في مصر . ()
- ٣ - تُعد السياحة من الأنشطة الاقتصادية المهمة في البيئة الصحراوية . ()
- ٤ - تنتشر التلال الجيرية على طول الساحل الشمالي الشرقي لمصر . ()
- ٥ - تنتشر الشعاب المرجانية بمناطق متفرقة بسواحل البحر المتوسط . ()

ب اكتب ما تشير إليه كل عبارة من العبارات الآتية :

- ١ - تجمعات من الرمال تتراكم بفعل الرياح . (.....)
- ٢ - هجرة أفراد أو جماعات إلى خارج الدولة بطرق غير قانونية . (.....)
- ٣ - قيام الأمواج بنحت الصخور التي تشكل ساحل البحر . (.....)

ح « قامت الدولة بجهود متعددة لحل مشكلات السكان في البيئة الساحلية » .

في ضوء هذه العبارة ، اكتب اثنين من جهود الدولة لحل مشكلة السكان في البيئة الساحلية .

ثانياً : التاريخ

١ اختر الإجابة الصحيحة من بين الأقواس :

- ١ - احتل الإنجليز القاهرة بعد هزيمة أحمد عرابي عند : (التل الكبير - كفر الدوار - الإسكندرية - بورسعيد)
- ٢ - تم نفي سعد زغلول وزملائه في المرة الثانية إلى جزيرة بالمحيط الهندي .
- ٣ - قامت الوحدة بين مصر و عام ١٩٥٨ م . (ليبيا - السودان - فلسطين - سوريا)
- ٤ - نجح الجيش المصري في إزالة الساتر الترابي والعبور إلى في أكتوبر ١٩٧٣ م . (الدفرسوار - الإسماعيلية - السويس - سيناء)
- ٥ - من الدول التي شاركت في العدوان الثلاثي على مصر : (الولايات المتحدة - ألمانيا - إنجلترا - روسيا)
- ٦ - دعا إلى إنشاء مدارس ليلية لتعليم العمال والفقراء مجاناً :

(سعد زغلول - مصطفى كامل - أحمد عرابي - محمد فريد)

ب ما النتائج المترتبة على ... ؟ : (يكتفى بنتيجة واحدة)

- ١ - عقد الاتفاق الودي بين إنجلترا وفرنسا عام ١٩٠٤ م .
- ٢ - سوء أحوال مصر السياسية والاقتصادية في أواخر حكم الرئيس الأسبق محمد حسني مبارك .



١ إلى من تنسب الأعمال الآتية ... ؟ :

س ٤

- ١ - شكل أول حكومة دستورية في مصر عام ١٩٢٤ م .
- ٢ - أسس تنظيم الضباط الأحرار .
- ٣ - بدأ كفاحه ضد استبداد النظام التركي والجرمسي منذ عهد الخديو إسماعيل .
- ٤ - تسلم السلطة لحين إجراء انتخابات رئاسية مبكرة بعد ثورة ٣٠ يونيو ٢٠١٣ م .

ب رتب الأحداث التاريخية التالية من القديم إلى الحديث :

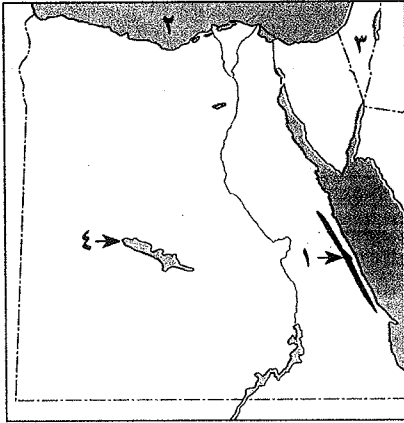
(اتفاقية السلام - تصريح ٢٨ فبراير - تأسيس بنك مصر - تأميم شركة قناة السويس)

ح « لقد تعددت العوامل التي أدت إلى نجاح حرب أكتوبر عام ١٩٧٣ م » .

اذكر عاملين من عوامل نجاح حرب أكتوبر .

٢٤ محافظة الوادي الجديد

أولاً : الجغرافيا



١ أمامك خريطة صماء لمصر ، اكتب مدلول الأرقام الموقعة عليها :

س ١

- ١ - جبال
- ٢ - البحر
- ٣ - دولة
- ٤ - واحة

ب اختر الإجابة الصحيحة مما بين الأقواس :

- ١ - يتركز سكان البيئة الصحراوية بالواحات للعمل ب اعتماداً على المياه الجوفية .
(الزراعة - الصناعة - التجارة - الصيد)
- ٢ - يستخرج الفوسفات بالصحراء الغربية من مناجم بمحافظة الوادي الجديد .
(أم بجمة - أبو طرطور - الواحات البحرية - السكرى)
- ٣ - تتشابه السهول الساحلية المطلة على البحر الأحمر والسهول المطلة على البحر المتوسط في وجود :
(التلال الجيرية - الخلجان - الشروم - البحيرات)
- ٤ - أكبر بحيرات مصر إنتاجاً للأسمك بحيرة :
(البردويل - المنزلة - البرلس - ناصر)

ح « تتعرض البيئة الصحراوية والساحلية لمشكلة السيول » . في ضوء هذه العبارة ، وضح :

- ١ - الآثار المترتبة على مشكلة السيول في كل منهما .
- ٢ - كيف تغلبت الدولة لحل هذه المشكلة في البيئة الصحراوية .

١ اكتب المفهوم الذي تشير إليه العبارات الآتية :

س ٢

- ١ - منطقة يقل بها المطر ويسود الجفاف والفقر .
- ٢ - تكوينات أفرزتها حيوانات بحرية دقيقة على طول امتداد ساحل البحر الأحمر .
- ٣ - هجرة أفراد وجماعات إلى خارج البلاد بطرق غير قانونية .
- ٤ - قيام الأمواج بنحت الصخور التي تشكل ساحل البحر .

ب بم تفسر ؟ : ١ - انخفاض نسبة الأمية بالبيئة الصحراوية مؤخراً .

- ٢ - تُعد السياحة من الأنشطة الاقتصادية المهمة بالبيئة الصحراوية .
- ٣ - تتركز نسبة كبيرة من سكان مصر بالبيئة الساحلية .



ثانياً: التاريخ

اكتب كلمة (صواب) أمام العبارة الصحيحة وكلمة (خطأ) أمام العبارة غير الصحيحة :

- ١ - أدت الامتيازات الأجنبية إلى التدخل الأجنبي في شئون مصر . ()
- ٢ - احتلت القوات البريطانية مصر بعد هزيمة الجيش المصري في كفر الدوار . ()
- ٣ - أدى ازدياد الوعي القومي في مصر إلى قيام ثورة ١٩١٩م . ()
- ٤ - ألقى القبض على سعد زغلول وأعضاء الوفد المصري قبل الحرب العالمية الأولى . ()
- ٥ - كان إلغاء النظام الملكي وإعلان النظام الجمهوري من إنجازات ثورة ٢٣ يوليو ١٩٥٢م . ()
- ٦ - أعادت مصر تدريب وتنظيم قواتها المسلحة بعد العدوان الإسرائيلي ١٩٦٧م . ()

ب ما النتائج المترتبة على ... ؟ :

- ١ - عقد الاتفاق الودي بين إنجلترا وفرنسا ١٩٠٤م . ٢ - قبول الحكومة المصرية تصريح ٢٨ فبراير ١٩٢٢م .

اأكمل العبارات الآتية بكلمات مناسبة :

- ١ - قاد مظاهرة عابدين السلمية في ٩ سبتمبر ١٨٨١م لعرض مطالب الأمة .
- ٢ - رفض الزعيم محمد فريد مد امتياز شركة ١٩١٠م .
- ٣ - في ديسمبر ١٩١٤م أعلنت إنجلترا على مصر .
- ٤ - تأسس بنك مصر في إبريل ١٩٢٠م على يد
- ٥ - كان للرئيس جمال عبد الناصر دور في تأسيس تنظيم
- ٦ - تأمرت كل من إنجلترا وفرنسا و على مصر بعد تأميم شركة قناة السويس ١٩٥٦م .
- ٧ - من عوامل نجاح حرب أكتوبر ١٩٧٣م قوة الإيمان والتعاون

ب ما المقصود بكل من ... ؟ : ١ - الدستور . ٢ - عدالة اجتماعية .

٢٥ امتحان دمج للصف السادس الابتدائي على الفصل الدراسي الثاني

اختر الإجابة الصحيحة مما بين الأقواس :

- ١ أهم حيوانات الرعى في البيئة الصحراوية : (الجاموس - الأسود - الإبل - الأبقار)
- ٢ تشتهر مناجم أبو طرطور باستخراج خام : (الذهب - النحاس - المنجنيز - الفوسفات)
- ٣ تنمو على سواحل البحر الأحمر شجيرات : (الأرز - الذرة - المانجروف - المانجو)
- ٤ توجد الشعاب المرجانية في : (نهر النيل - البحر الأحمر - البحر المتوسط - بحيرة السد العالي)

صوب ما تحته خط :

- ١ قاد ثورة ١٩١٩م الزعيم مصطفى كامل .
- ٢ يوجد جبل سانت كاترين في الصحراء الشرقية .
- ٣ انطلقت ثورة ٢٥ يناير ٢٠١١م من ميدان العتبة .
- ٤ توجد مدينة الإسكندرية على ساحل البحر الأحمر .

اكتب كلمة (صواب) أمام العبارة الصحيحة وكلمة (خطأ) أمام العبارة غير الصحيحة فيما يلي :

- ١ يقع سد الروافعة على وادي العلاقي . ()
- ٢ يعيش سكان البيئة الساحلية في ١١ محافظة . ()
- ٣ أقامت مصر وحدة مع سوريا عام ١٩٥٨م . ()
- ٤ تم عقد الاتفاق الودي بين إنجلترا وألمانيا عام ١٩٠٤م . ()

لمن تنسب الأعمال الآتية ؟ :

- ١ أسس جريدة اللواء عام ١٩٠٠م .
- ٢ صاحب قرار العبور في حرب أكتوبر عام ١٩٧٣م .
- ٣ أسس تنظيم الضباط الأحرار .
- ٤ أسس بنك مصر عام ١٩٢٠م .

