

١ أمامك خريطة صماء لمصر ، اكتب مدلول الأرقام :

- ١ - وادى
٢ - منطقة لإنتاج الحديد
٣ - مشروع

٢ ضع دائرة حول الكلمة التى لا تنتمى إلى المجموعة :

- ١ - تعدين - استخراج البترول - منسوجات - استخراج الغاز الطبيعي .
٢ - قارب - طائرة - سفينة - باخرة .
٣ - رعوس أموال - مياه الشرب - مصادر الطاقة - وفرة الخامات .

٣ اكتب ما تشير إليه العبارات الآتية :

- ١ - حدوث تغيرات لبعض الموارد الطبيعية فتصبح غير صالحة للاستخدام البشرى . (.....)
٢ - زيادة إنتاجية الفدان باستخدام وسائل علمية فى الزراعة . (.....)
٣ - اتصال الأفراد دون انتقال عبر الهاتف والإنترنت . (.....)

٤ اختر الإجابة الصحيحة مما بين الأقواس :

- ١ - من مصادر الطاقة غير المتجددة (الفحم - المياه - الرياح - الشمس)
٢ - مصر أول دولة عربية وأفريقية أقامت مترو الأنفاق ليربط بين مدن
(الوجه البحرى - الوجه القبلى - الحدود - القاهرة الكبرى)
٣ - يرجع توفير وسائل النقل البرى فى مصر إلى
(كثرة الموانى - استواء معظم السطح - كثرة المطارات - ارتفاع الجبال)
٤ - أكبر شريك تجارى لمصر
(دول الاتحاد الأوروبى - الولايات المتحدة - آسيا - أمريكا الجنوبية)

٥ ما النتائج المترتبة على ؟ :

- ١ - ندرة الأمطار بمصر .
٢ - نقص إنتاج مصر من اللحوم وزيادة الاستهلاك .

٦ صوب ما تحته خط :

- ١ - فصل مكونات البترول عن الزيت الأصيل يسمى تحويل البترول .
٢ - انتقال السلع والخدمات بين الدول يسمى تجارة داخلية .
٣ - لوجود الشعاب المرجانية تقل أهمية الموانى على البحر المتوسط .

٧ اكتب كلمة (صح) أمام العبارة الصحيحة وكلمة (خطأ) أمام العبارة غير الصحيحة فيما يلى :

- ١ - أنشأ البطالمة كثيرًا من المناحل لتصدير العسل للصين . ()
٢ - انتصرت كليوباترا السابعة وحليفها أنطونيوس فى معركة أكتيوم البحرية . ()
٣ - أقام الرومان المسارح للاحتفال بالأعياد الدينية وأعياد الإمبراطور . ()
٤ - كانت ثورة الرعاة فى الدلتا من أهم ثورات المصريين ضد الرومان . ()

٨ فسر ما يلى :

- ١ - رغبة بطلميوس الأول فى الانفراد بحكم مصر .
٢ - رحلة العائلة المقدسة لمصر .

٩ صل من العمود (أ) بما يناسب من العمود (ب) :

أ
القبطية
البطلمية
الرومانية

ب
١ - منارة الإسكندرية من الآثار
٢ - معبد رأس السوداء من الآثار
٣ - دير المحرق من الآثار

١٠ من أكون ؟ :

- ١ - أعلى نصب تذكارى فى العالم . (.....)
٢ - أقدم كنائس مصر بنيت على أنقاض جدران برجين كبيرين . (.....)

١١ رتب الأحداث التاريخية من القديم إلى الحديث :

العصر الرومانى - عصر الإسكندر الأكبر - الفتح الإسلامى لمصر - دخول المسيحية مصر .

١٢ استعن بالكلمات الآتية ، وأكمل الجمل :

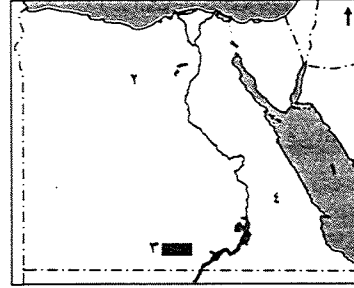
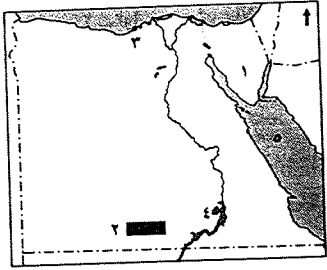
(أكتافىوس - دقلديانوس - عمرو بن العاص)

- ١ - فتح مصر وحررها من أيدي الرومان عام ٦٤١ م
٢ - عرف عصره بعصر الاضطهاد الأكبر أو عصر الشهداء
٣ - أصبح الإمبراطور بعد وفاة يوليوس قيصر



٣ محافظة القليوبية إدارة طوخ التعليمية

٢ محافظة الإسكندرية إدارة وسط التعليمية



١ أتمامك خريطة صماء لمصر ، اكتب مدلول الأرقام :

١ أتمامك خريطة صماء لمصر ، اكتب مدلول الأرقام :

- ١ - منطقة لإنتاج المنجنيز
- ٢ - مشرع
- ٣ - ميناء
- ٤ - بحيرة
- ٥ - البحر

- ١ - البحر
- ٢ - الواحات
- ٣ - مشروع
- ٤ - الصحراء

ب بم تفسر :

- ١ - عدم وجود غابات طبيعية في مصر ؟
- ٢ - يعتبر الحديد أساس الصناعة الحديثة ؟

٣ اكتب ما تشير إليه كل عبارة من العبارات الآتية :

٤ اختر الإجابة الصحيحة مما بين الأقواس :

- ١ - الموارد التي منحها الله للإنسان دون جهد من جانبه .
- ٢ - عملية يتم فيها فصل مكونات البترول عن الزيت الأصلي .
- ٣ - زيادة إنتاجية الفدان باستخدام الوسائل العلمية .
- ٤ - دار للعلم يدرس فيها الطالب العديد من التخصصات .

- ١ - من البحيرات العذبة في مصر بحيرة
- ٢ - البنزين والسولار من مشتقات
- ٣ - تروى أراضي شمال سيناء عن طريق ترعة
- ٤ - تعد مصر ثاني دولة في العالم إنشاءً للسكك الحديدية بعد

٤ ما هي أسباب سقوط دولة البطالمة ؟

- ١ - (البردويل - ناصر - قارون - المنزلة)
- ٢ - (الفحم - الغاز - البترول - المنجنيز)
- ٣ - (الإبراهيمية - السلام - المحمودية - السوهاجية)
- ٤ - (فرنسا - بريطانيا - أسبانيا - ألمانيا)

٤ اختر الإجابة الصحيحة مما بين الأقواس فيما يأتي :

- ١ - تنقسم إلى مياه عذبة وأخرى مالحة . (الأنهار - البحار - البحيرات - المحيطات)
- ٢ - يعد معدن أساس الصناعة الحديثة في مصر .
- ٣ - الكوميسا اتحاد اقتصادي يضم دول شرق وجنوب قارة
- ٤ - عرف عصر الإمبراطور بعصر الشهداء .

٤ ما المقصود بالآتي ؟ ١ - طاقة كهربائية . ٢ - اتصالات .

- ١ - البطالمة هم خلفاء الإسكندر الأكبر في مصر .
- ٢ - يعد عمود السواري أعلى نصب تذكاري في العالم .
- ٣ - احترم الرومان المصريين وأشركوهم في حكم البلاد .
- ٤ - قامت العائلة المقدسة برحلتها إلى الشام في عهد هيرودوس .
- ٥ - انتشرت تعاليم القديس مرقس في مدينة الإسكندرية .

٤ أكمل العبارات الآتية بما يناسبها من كلمات :

٤ ما النتائج المترتبة على ؟

- ١ - تنقسم الطاقة إلى نوعين هما : طاقة وطاقة
- ٢ - يقتصر وجود المراعي الطبيعية في مصر على شمال والساحل و

٤ اهتمام بطلميوس الأول بإنشاء الكثير من المناحل . ٢ - فتح عمرو بن العاص مصر سنة ٦٤١ م .

٤ أكمل العبارات الآتية بكلمات مناسبة :

٤ اكتب كلمة (صح) أمام العبارة الصحيحة وكلمة (خطأ) أمام العبارة غير الصحيحة فيما يأتي :

- ١ - تحالفت كليوباترا السابعة مع القائد الروماني
- ٢ - تعد معابد فيلة من أهم آثار العصر
- ٣ - ألغى قسطنطين العقوبات المفروضة على من يعتنق الديانة
- ٤ - ولد السيد المسيح عليه السلام ببيت لحم في
- ٥ - توجد الكنيسة المعلقة في محافظة

- ١ - الإسراف في استخدام المياه إهدار للموارد الطبيعية .
- ٢ - السد العالي حمى مصر من أخطار الفيضان والجفاف .
- ٣ - يستخدم الفحم والمنجنيز في صناعة الصلب .
- ٤ - صناعة الغزل والنسيج من الصناعات الإستراتيجية .
- ٥ - يعد النقل الجوي أرخص وسائل النقل .

٤ اكتب الشخصية التي تتحدث عن نفسها :

- ١ - أنا القائد المنتصر في معركة أكتيوم .
- ٢ - عرف عصرى بعصر الاضطهاد الأكبر أو عصر الشهداء .

٤ صف الآثار الآتية إلى (قبطية - رومانية - بطلمية) :

- ١ - منارة الإسكندرية . ٢ - دير المحرق .
- ٢ - عمود السواري .

١ اكتب كلمة (صح) أمام العبارة الصحيحة وكلمة (خطأ) أمام العبارة غير الصحيحة فيما يلي :

- ١ - يدخل المنجنيز في صناعة بعض أنواع العلاج . ()
 - ٢ - تعتبر محطة كهرباء خزان أسوان من محطات الكهرباء المائية . ()
 - ٣ - تحالفت كليوباترا السابعة مع القائد الروماني أنطونيوس . ()
 - ٤ - يعد حصن بابلليون من أهم الآثار البطلمية في مصر . ()
- ب ما المقصود بكل من ؟ :

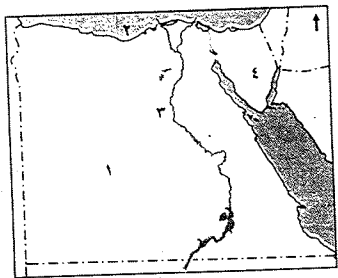
- ١ - الموارد الطبيعية .
- ٢ - الفيضان .
- ٣ - الصناعة .

١ اختر الإجابة الصحيحة مما بين الأقواس فيما يلي :

- ١ - يدخل الفوسفات في صناعة (السيارات - الصلب - الأسمدة - الأثاث)
 - ٢ - إنتاج مصر من الأسماك يأتي من (الاستزراع السمكي - المياه المالحة - المياه العذبة - كل ما سبق)
 - ٣ - أرخص أنواع النقل هو النقل (البرى - المائى - الجوى - الاتصالات)
 - ٤ - ولد السيد المسيح ﷺ في بيت لحم في (مصر - فلسطين - روما - ليبيا)
- ب قارن بين كل من : التجارة الداخلية والخارجية من حيث التعريف :

التجارة الداخلية	التجارة الخارجية
.....

٥ محافظة المنوفية إدارة شبين الكوم التعليمية



١ أمامك خريطة صماء لمصر ، اكتب مدلول الأرقام :

- ١ - الصحراء
- ٢ - البحر
- ٣ - نهر
- ٤ - منطقة لاستخراج المنجنيز

ب بم تفسر ؟ :

- ١ - صعوبة الصيد من البحر الأحمر .
- ٢ - رغبة بطلميوس الأول في الانفراد بحكم مصر .

١ أكمل العبارات الآتية بكلمات مناسبة :

- ١ - من أمثلة الطاقة المتجددة
- ٢ - أصدر قسطنطين الأول عام ٣١٣ م مرسوم
- ٣ - أهم مراكز صناعة الأثاث في مصر
- ٤ - ينقسم النقل البرى إلى والطرق .

ح إلس من تنسب الأعمال الآتية ؟ :

- ١ - مؤسس دولة البطالمة في مصر . ()
- ٢ - أول من بشر بالإنجيل في مصر . ()

١ صوب ما تحته خط فى العبارات الآتية :

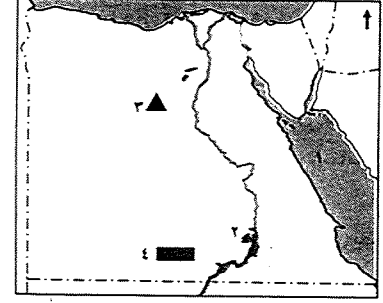
- ١ - يستخدم المنجنيز فى صناعة الأسمدة الزراعية .
- ٢ - يربط مترو الأنفاق بين مدن القناة .
- ٣ - أصدر الإمبراطور أكتافيوس مرسوم ميلان عام ٣١٣ م .
- ٤ - ولد السيد المسيح ﷺ فى القدس .

ب ما النتائج المترتبة على ؟ :

- ١ - امتداد نهر النيل من الجنوب إلى الشمال .
 - ٢ - إنشاء ميناء دمياط .
 - ٣ - الفتح العربى لمصر .
- ح ماذا يحدث إذا : قام الإنسان بإلقاء المخلفات فى نهر النيل ؟

٦ أكتوبر التعليمية محافظة الجيزة

١ أمامك خريطة صماء لمصر ، اكتب مدلول الأرقام :



- ١ - البحر
- ٢ - بحيرة
- ٣ - منطقة لإنتاج الحديد
- ٤ - مشروع

ب بم تفسر ؟ :

- ١ - قلة الأهمية الاقتصادية للفحم عن البترول .
- ٢ - يعد عصر قسطنطين الأول نقطة تحول فى تاريخ المسيحية .

١ أكمل العبارات الآتية بكلمات مناسبة :

- ١ - تعتبر بحيرة ناصر من مصادر المياه
- ٢ - العصر البطلمى هو عصر خلفاء
- ٣ - قام المصريون بثورة الرعاة فى الدلتا ضد
- ٤ - دخلت المسيحية مصر على يد

ب اكتب ما تشير إليه العبارات الآتية :

- ١ - عملية فصل مكونات البترول عن الزيت الأسمى . ()
- ٢ - زيادة الإنتاج الزراعى عن طريق التوسع الأفقى والرأسى . ()
- ٣ - اتحاد اقتصادى يضم دول شرق وجنوب أفريقيا ومنها مصر . ()
- ٤ - دار للعلم يدرس فيها الطالب العديد من التخصصات العلمية والأدبية . ()



ب اكتب ما تشير إليه العبارات الآتية :

- ١ - انتقال السلع والخدمات داخل حدود الدولة .
- ٢ - حدوث بعض التغيرات لبعض الموارد الطبيعية فتصبح غير صالحة للاستخدام .
- ٣ - دار للعلم يدرس فيها الطالب العديد من التخصصات العلمية والأدبية .

١ اكتب كلمة (صح) أمام العبارة الصحيحة وكلمة (خطأ) أمام العبارة غير الصحيحة :

- ١ - أطلق على عصر دقلديانوس عصر الشهداء .
- ٢ - صناعة الحديد والصلب من الصناعات الاستخراجية .
- ٣ - دير الأنبا بيشوى من أشهر أديرة وادى النطرون .
- ٤ - يمكن تكرير الغاز الطبيعي إلى عدة مشتقات .

ب ما النتائج المترتبة على ؟

- ١ - يوجد الفوسفات بكميات كبيرة في مصر .
- ٢ - هزيمة أنطونيوس وكليوباترا في معركة أكتيوم البحرية .

١ اختر الإجابة الصحيحة مما بين القوسين :

- ١ - ولد السيد المسيح عليه السلام في بيت لحم في (سوريا - العراق - فلسطين - مصر)
- ٢ - تروى أراضي شمال سيناء عن طريق ترعة (المحمودية - الإسماعيلية - المنصورية - السلام)
- ٣ - قامت ثورة الرعاة ضد الحكم الرومانى في (الإسكندرية - الدلتا - سيناء - الصعيد)

ب إلى من تنسب الأعمال الآتية ؟

- ١ - أول من بشر بالإنجيل في مصر .
- ٢ - استطاع تحرير مصر من أيدي الرومان عام ٦٤١ م .

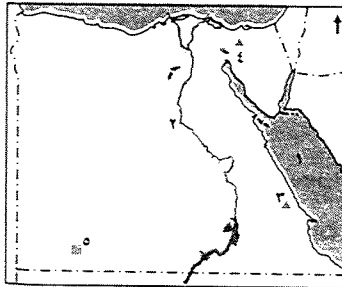
٦ محافظة الشرقية إدارة منيا القمح التعليمية

١ أمامك خريطة صماء لمصر ، اكتب مدلول الأرقام :

- ١ - البحر
- ٢ - نهر
- ٣ - منطقة لاستخراج الذهب
- ٤ - منطقة لاستخراج الفحم
- ٥ - مشروع

ب اكتب المصطلح الجغرافى :

- ١ - زيادة الإنتاج الزراعى عن طريق التوسع الأفقى والرأسى .
- ٢ - تحويل المواد الخام إلى منتجات لسد احتياجات السكان .
- ٣ - اتحاد اقتصادى يضم دول جنوب وشرق أفريقيا .



٤ - عملية فصل مكونات البترول عن الزيت الأسمى .

٥ - ندرة المطر مما يضر بالأنشطة البشرية وخاصة الزراعة .

(.....)
(.....)

١ بم تفسر ؟ ١ - صعوبة الصيد من البحر الأحمر . ٢ - إنشاء ميناء دمياط .

ب اكتب كلمة (صح) أمام العبارة الصحيحة وكلمة (خطأ) أمام العبارة غير الصحيحة :

- ١ - البحران الأحمر والمتوسط من مصادر المياه العذبة .
- ٢ - تتوافر بمصر مصادر الطاقة اللازمة للصناعة .
- ٣ - يستخدم الفوسفات في صناعة الحلى .
- ٤ - نهر النيل هو المصدر الوحيد للثروة السمكية في مصر .
- ٥ - يعد النقل المائى أرخص وسائل النقل .

ب ما النتائج المترتبة على ؟

- ١ - سقوط الأمطار على السواحل الشمالية لمصر .
- ٢ - بناء مصر للسد العالى فى أسوان .

بم تفسر ؟

- ١ - رغبة بطلميوس الأول فى الانفراد بحكم مصر .
- ٢ - تسمية أقدم الكنائس المصرية بالكنيسة المعلقة .

ب لمن تنسب الأعمال الآتية ؟

- ١ - احترام عقائد المصريين وقدم القرابين للآلهة المصرية .
- ٢ - سك أول عملة معدنية فى مصر .

١ (بدأ السيد المسيح رسالة النبوة على أرض فلسطين) فى ضوء العبارة أكمل :

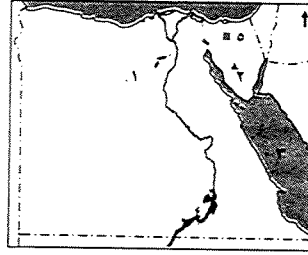
- ١ - ولد السيد المسيح عليه السلام فى مدينة بفلسطين .
- ٢ - دخلت المسيحية مصر فى منتصف القرن الميلادى .
- ٣ - ألغيت العقوبات المفروضة على المسيحية بموجب مرسوم
- ٤ - تعرضت العائلة المقدسة للاضطهاد زمن الإمبراطور
- ٥ - أطلق على عصر دقلديانوس عصر

ب اكتب كلمة (صح) أمام العبارة الصحيحة وكلمة (خطأ) أمام العبارة غير الصحيحة فيما يلى :

- ١ - يوجد معبد رأس السوداء فى مدينة الإسكندرية .
- ٢ - زاد تدخل الرومان فى شئون مصر فى عهد كليوباترا السابعة .



٧ محافظة الغربية | إدارة ميت غمر التعليمية



أمامك خريطة صماء لمصر ، اكتب مدلول الأرقام :

- ١ - الواحات
- ٢ - منطقة لاستخراج المنجنيز
- ٣ - البحر
- ٤ - بحيرة
- ٥ - منطقة لاستخراج الفحم

عرف المفاهيم الآتية : ١ - الموارد الطبيعية . ٢ - الجامعة .

اكتب كلمة (صح) أمام العبارة الصحيحة وكلمة (خطأ) أمام العبارة غير الصحيحة :

- ١ - يأتي خليج السويس في المركز الأول في إنتاج البترول . ()
- ٢ - أقام الإمبراطور أكتافوس منارة الإسكندرية . ()
- ٣ - يستخرج الذهب من مناجم السكرى بالصحراء الغربية . ()
- ٤ - يأتي محصول القطن في المركز الأول بين الصادرات المصرية . ()
- ٥ - استخراج البترول من الصناعات الاستخراجية . ()

ماذا كان يحدث إذا ؟ :

- ١ - انتصر أنطونيوس وكليوباترا على أكتافوس في معركة أكتيوم البحرية .
- ٢ - لم تتم عملية تكرير البترول الخام .

اختر الإجابة الصحيحة مما بين الأقواس فيما يلي :

- ١ - من الصناعات التحويلية
(الغزل والنسيج - استخراج البترول - الغاز الطبيعي - الفحم)
- ٢ - بنى الإمبراطور بطلميوس الأول
(عمود السواري - جامعة الإسكندرية - المسرح الروماني - الكنيسة المعلقة)
- ٣ - من أهم الآثار الرومانية في مصر
(دير المحرق - الكنيسة المعلقة - عمود السواري - دير الأنبا بيشوى)
- ٤ - ولد السيد المسيح ﷺ في مدينة
(بيت لحم - الناصرة - القدس - أسيوط)
- ٥ - أكثر المناطق إنتاجًا للأسماك في مصر
(نهر النيل - بحيرة ناصر - المزارع السمكية - البحر المتوسط)

بم تفسر ؟ :

- ١ - قلة إنتاج الأسماك في مصر .
- ٢ - أهمية الصناعة لسكان مصر .

ما النتائج المترتبة على ؟ :

- ١ - وجود الأرض الخصبة ومياه النيل في مصر . ٢ - اضطهاد الإمبراطور دقلديانوس للديانة المسيحية .
- ٣ - قلة المراعى الطبيعية في مصر . ٤ - استواء سطح مصر في الوادي والدلتا .

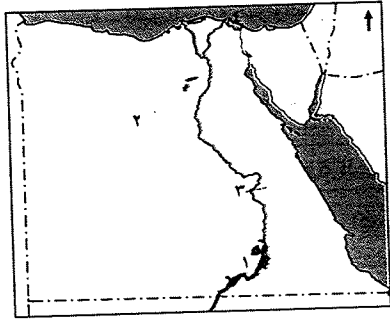
إلى من تنسب الأعمال الآتية ؟ :

- ١ - نشر المسيحية في مصر . ()
- ٢ - أصدر مرسوم ميلان ٣١٢ م . ()

اذكر رأيك في تلوث المياه في البحار ونهر النيل في مصر .

٨ محافظة البحيرة | إدارة الدلتا التعليمية

أمامك خريطة صماء لمصر ، اكتب مدلول الأرقام التالية :



- ١ - بحيرة
- ٢ - منطقة لاستخراج الحديد
- ٣ - قناطر
- ٤ - أهم مراكز صناعة الأثاث

بم تفسر ؟ :

- ١ - يمارس الإنسان العديد من الأنشطة الاقتصادية .
- ٢ - أهمية المياه العذبة في مصر .
- ٣ - انخفاض الأهمية الاقتصادية للفحم عن البترول .
- ٤ - إنشاء ميناء دمياط .

اختر الإجابة الصحيحة مما بين الأقواس فيما يلي :

- ١ - يصنع سجاد سويز فوسفات في مصنع (أبو زعبل - أم بجمه - أبو طرطور - حلوان)
- ٢ - توجد محطة توليد الكهرباء من الرياح في منطقة
(شبرا الخيمة - الزعفرانة - شمال القاهرة - كل ما سبق)
- ٣ - كل البحيرات في مصر طبيعية ماعدا (إككو - المنزلة - ناصر - البرلس)
- ٤ - تعد مصر ثاني دولة في العالم إنشاءً للسكك الحديدية بعد
(فرنسا - بريطانيا - ألمانيا - روسيا)

ما النتائج المترتبة على ؟ :

- ١ - وجود كميات كبيرة من الفوسفات في مصر . ٢ - تكرير البترول .
- ٣ - كثرة الشعاب المرجانية بالبحر الأحمر . ٤ - وجود السدود على طول مجرى نهر النيل .

اكتب كلمة (صح) أمام العبارة الصحيحة وكلمة (خطأ) أمام العبارة غير الصحيحة :

- ١ - يعتمد مشروع توشكى على المياه الجوفية في الزراعة . ()
- ٢ - المصدر الرئيس للرى في مصر هو الأمطار . ()



حـ بم تفسر ؟ : (يكتفى بسبب واحد)

- ١ - قيام الزراعة في الساحل الشمالي لمصر .
- ٢ - اهتمام الدولة بتمية الثروة السمكية .
- ٣ - البحر المتوسط أكثر بحار العالم تلوًا .

١ اكتب كلمة (صح) أمام العبارة الصحيحة وكلمة (خطأ) أمام العبارة غير الصحيحة فيما يلي :

- ١ - تسهم الصناعة في حل مشكلة البطالة في مصر . ()
- ٢ - يستخرج ملح الطعام من نهر النيل . ()
- ٣ - صناعة الحديد والصلب من الصناعات الاستخراجية . ()

ب رتب الأحداث التاريخية من القديم إلى الحديث :

- ١ - ميلاد سيدنا عيسى عليه السلام - العصر البطلمي - وفاة الإسكندر الأكبر - مرسوم ميلان .

حـ ما النتائج المترتبة على ؟ : (يكتفى بواحدة)

- ١ - امتداد نهر النيل من الجنوب إلى الشمال .
- ٢ - زيادة الصادرات المصرية .
- ٣ - التوسع في استخدام الطاقة المتجددة .

١ صوب ما تحته خط :

- ١ - ولد السيد المسيح عليه السلام في عهد الإمبراطور الروماني قسطنطين في بيت لحم بفلسطين .
- ٢ - دخلت المسيحية مصر في منتصف القرن الثالث الميلادي .
- ٣ - تحالفت كليوباترا مع القائد الروماني أكتافيوس .

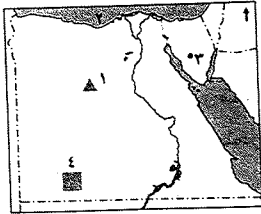
ب من أكون ؟ :

- ١ - أسست دولة البطالمة في مصر واتخذت مدينة الإسكندرية عاصمة لى .
- ٢ - حكى كان نقطة تحول في تاريخ المسيحية في مصر حيث أصدرت مرسوم ميلان ٣١٣ م .

حـ ما رأيك في كل مما يأتي ؟ :

- ١ - كثرة ثورات المصريين ضد الرومان .
- ٢ - تسمية عصر دقلديانوس بعصر الاضطهاد الأكبر .

١٠ محافظة كفر الشيخ إدارة بيلا التعليمية



١ من الخريطة الصماء التالية اكتب مدلول الأرقام الموضحة عليها :

- ١ - منطقة لإنتاج الحديد ٢ - البحر
- ٣ - منطقة لإنتاج المنجنيز
- ٤ - أحد مشروعات التمية الزراعية

ب اكتب المصطلح العلمى الذى تدل عليه كل عبارة فيما يلي :

- ١ - زيادة منسوب المياه عن مستوى ضفتى النهر في موسم معين .
- ٢ - يستخدم في صناعة الأسمدة الزراعية والمبيدات الحشرية .
- ٣ - انتقال السلع والخدمات بين الدولة ودول العالم المختلفة .
- ٤ - عملية يتم فيها فصل مكونات البترول .

- ٣ - سوء استخدام الموارد يعرضها للتلوث .
- ٤ - يعد النقل الجوى أرخص أنواع النقل .

ب (تعتبر الولايات المتحدة الأمريكية أكبر شريك تجارى لمصر بعد الاتحاد الأوروبى) فى ضوء هذه العبارة وضح :

- ١ - الفرق بين الصناعة الاستخراجية والصناعة التحويلية .
- ٢ - المقصود بالاتصالات .
- ٣ - جهود الدولة فى تنمية التجارة .

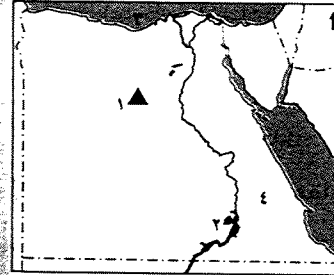
١ صوب ما تحته خط :

- ١ - تم سك أول عملة معدنية فى عهد أكتافيوس .
- ٢ - أعلى نصب تذكارى فى العالم هو معبد رأس السوداء .
- ٣ - دخلت المسيحية مصر على يد القديس باخوم .
- ٤ - أكبر أديرة مصر والشرق الأوسط هو دير الأنبا بيشوى .

ب ما المقصود بالجامعة ؟

- ١ - سقوط دولة البطالمة فى مصر .
- ٢ - اهتمام الرومان بإقامة المسارح .

٩ محافظة الدقهلية إدارة أجا التعليمية



١ أمامك خريطة صماء لمصر ، اكتب مدلول الأرقام :

- ١ - منطقة لاستخراج الحديد
- ٢ - بحيرة
- ٣ - البحر
- ٤ - الصحراء

ب أكمل العبارات الآتية :

- ١ - من أهداف التمية الزراعية زيادة
- ٢ - تتركز صناعة الأثاث فى مصر بمدينتى و
- ٣ - يوجد الحديد فى عدة مناطق بمصر منها

حـ ما المقصود بكل المفاهيم التالية ؟ : ١ - تكرير البترول .

٢ - ماذا يحدث إذا : تجمدت البحار فى مصر ؟

١ اختر الإجابة الصحيحة مما بين القوسين :

- ١ - يوجد الفحم فى مصر فى منطقة..... (أم بجمة - سفاجا - أبو طرطور - المغارة)
- ٢ - من مصادر الطاقة غير المتجددة فى مصر (الشمس - البترول - الرياح - المساقط المائية)
- ٣ - من المقومات البشرية لقيام الصناعة (مصادر الطاقة - رأس المال - المواد الخام - المناخ)

ب ضع خطاً تحت الكلمة التى لا تنتمى إلى المجموعة مع التفسير :

- (طائفة - باخرة - سفينة - قارب)

١ اختر الإجابة الصحيحة مما بين الأقواس فيما يلي :

- ١ - يرجع توفر وسائل النقل البري في مصر إلى
(كثرة الموانئ - استواء معظم السطح - كثرة المطارات - ارتفاع الجبال)
- ٢ - يربط مترو الأنفاق بين مدن
(الوجه البحري - القناة - الحدود - القاهرة الكبرى)
- ٣ - يعد حقل أبو ماضي أهم حقول إنتاج
(الحديد - المنجنيز - الغاز - الفوسفات)
- ٤ - الكوميسا اتحاد اقتصادي يضم دول شرق وجنوب
(آسيا - إفريقيا - أمريكا - أوروبا)

ب بم تفسر ؟ : (يكتفى بسبب واحد)

- ١ - الإنتاج السمكي في مصر لا يكفي السكان .
- ٢ - أهمية المياه العذبة .

١ اكتب كلمة (صح) أمام العبارة الصحيحة وكلمة (خطأ) أمام العبارة غير الصحيحة فيما يلي :

- ١ - تعرض السيد المسيح ﷺ للاضطهاد من اليهود والرومان . ()
- ٢ - تعتبر ثورة الرعاة في الدلتا أهم ثورات المصريين ضد الرومان . ()
- ٣ - انتصر أنطونيوس على أكتافيوس في معركة أكتيوم البحرية ٣١ ق.م . ()
- ٤ - يعد حصن بابليون من أهم الآثار البطلمية في مصر . ()

ب بم تفسر ؟ :

- ١ - تسمية الكنيسة المعلقة بهذا الاسم .
- ٢ - رغبة بطليموس الأول في الانفراد بحكم مصر .

١ صوب ما تحته خط في العبارات التالية:

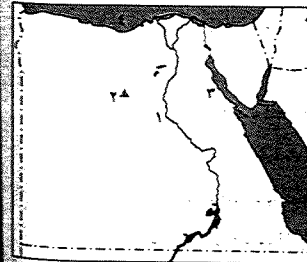
- ١ - يعد عمود السوارى بالإسكندرية من الآثار الفرعونية .
- ٢ - دخلت المسيحية مصر على يد القديس بولس .
- ٣ - العصر الروماني هو عصر خلفاء الإسكندر الأكبر في مصر .

ب ما اسم الشخصية التي تتحدث عن نفسها ؟ :

- ١ - ولدت في مدينة بيت لحم بفلسطين وكنت أدعو للمسيحية . ()
- ٢ - أصدرت مرسوم ميلان ٣١٣ م . ()

محافظة دمياط إدارة دمياط التعليمية

١ أمامك خريطة صماء لمصر ، اكتب ما تشير إليه الأرقام :



- ١ - مصدر مائي عذب
- ٢ - منطقة لاستخراج الحديد
- ٣ - خليج
- ٤ - البحر

ب اكتب سبباً واحداً :

- ١ - الفحم أقل أهمية اقتصادية كمصدر طاقة من البترول والغاز الطبيعي .
- ٢ - إنشاء ميناء دمياط .

٢ - قلة أهمية الموانئ على البحر الأحمر . ٤ - تسمية الكنيسة المعلقة بهذا الاسم .

١ اكمل العبارات الآتية بكلمات مناسبة :

- ١ - يستخدم في صناعة الصلب ويستورد من الخارج .
- ٢ - يتم ري أراضي شمال سيناء عن طريق ترعة
- ٣ - يهدف مشروع إلى استصلاح مليون ونصف فدان بالصحراء الغربية .
- ٤ - أصبحت مصر ولاية رومانية بعد هزيمة الملكة كليوباترا في معركة

ب اكتب ما تشير إليه العبارات الآتية :

- ١ - حدوث تغيرات لبعض الموارد الطبيعية فتصبح غير صالحة للاستخدام البشري . ()
- ٢ - ندرة المطر مما يضر بالأنشطة البشرية خاصة الزراعة والرعي . ()
- ٣ - دار للعلم يدرس فيها الطالب العديد من التخصصات العلمية والأدبية . ()
- ٤ - هو دير السيدة العذراء ويعد من أكبر أديرة مصر والشرق الأوسط . ()

١ اختر الإجابة الصحيحة مما بين الأقواس فيما يلي :

- ١ - مناطق الرعي الطبيعي في مصر
(جنوب سيناء - شمال سيناء - الصحراء الشرقية - الدلتا)
- ٢ - المحصول الذي يحتل المركز الثاني في الصادرات المصرية
(البرتقال - الأرز - البطاطس - القطن الخام)
- ٣ - أكثر بحار العالم تلوثاً بسبب كثرة المدن التي تصرف مخلفاتها به
(البحر الأحمر - البحر الأسود - البحر المتوسط - الصين)
- ٤ - ولد السيد المسيح ﷺ في مدينة
(بيت لحم - الناصرة - عكا - يافا)

ب اكتب نتيجة واحدة :

- ١ - امتداد نهر النيل من الجنوب إلى الشمال . ٢ - إقامة السدود والقناطر على طول نهر النيل .
- ٣ - ضعف الملوك بعد بطليموس الثالث .

١ اكتب كلمة (صح) أمام العبارة الصحيحة وكلمة (خطأ) أمام العبارة غير الصحيحة :

- ١ - تعد قناة السويس الجديدة تقريرة موازية للقناة القديمة . ()
- ٢ - حرم الرومان المصريين من الاشتراك في حكم بلادهم . ()
- ٣ - من أشهر ثورات المصريين ضد الرومان ثورة الرعاة في الوادي . ()
- ٤ - قام خالد بن الوليد بفتح مصر وإنهاء الحكم الروماني بها . ()

ب لمن تنسب الأعمال الآتية ؟ :

- ١ - تطورت الصناعة على يديه وأسس بنك مصر عام ١٩٢٠ م . ()
- ٢ - أصدر مرسوم ميلان ٣١٣ م . ()
- ٣ - أصبح إمبراطوراً على مصر بعد وفاة يوليوس قيصر . ()

اختر الإجابة الصحيحة مما بين الأقواس فيما يلي :

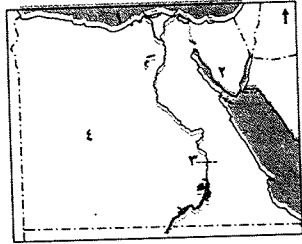
- ١ - ولد السيد المسيح ﷺ في بيت لحم بدولة (سوريا - العراق - فلسطين - مصر)
- ٢ - يرجع توافر وسائل النقل البرى في مصر إلى
(كثرة الموانى - استواء معظم السطح - كثرة المطارات - ارتفاع الجبال)
- ٣ - استشهد القديس مرقس على يد (البطالمة - الرومان - اليهود - الفرس)
- ٤ - الكوميسا اتحاد اقتصادى يضم دول
(أوروبا - شرق وجنوب إفريقيا - أمريكا - آسيا)
- ٥ - يقتصر وجود الأمطار الشتوية في مصر على الساحل
(الشرقى - الشمالى - الغربى - الجنوبى)

ب ما النتائج المترتبة على ؟ :

- ١ - وجود فوسفات بكميات كبيرة في مصر .
- ٢ - زيادة الصادرات المصرية .

١٣ محافظة بورسعيد | إدارة بورسعيد التعليمية

أمامك خريطة صماء لمصر ، اكتب مدلول الأرقام :



- ١ - البحر
- ٢ - منطقة لاستخراج المنجنيز
- ٣ - قناطر
- ٤ - مشروع

ب اكتب ما تشير إليه العبارات الآتية :

- ١ - حدوث تغيرات لبعض الموارد الطبيعية فتصبح غير صالحة للاستخدام البشرى . ()
- ٢ - مواد صلبة تستخرج من باطن الأرض قد تكون قريبة أو بعيدة عن سطح الأرض . ()
- ٣ - زيادة إنتاجية الفدان باستخدام الوسائل العلمية في الزراعة . ()
- ٤ - تحويل المواد الخام إلى منتجات لسد احتياجات السكان . ()

ج اكتب كلمة (صح) أمام العبارة الصحيحة وكلمة (خطأ) أمام العبارة غير الصحيحة فيما يلي :

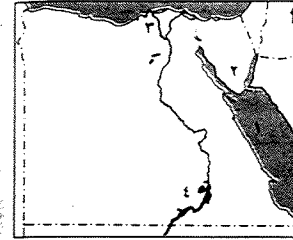
- ١ - من مصادر الطاقة غير المتجددة البترول . ()
- ٢ - يستخرج الغاز الطبيعى من حقل أبو ماضى شرق الدلتا . ()
- ٣ - يحتل البرتقال المركز الأول من الصادرات الزراعية المصرية . ()
- ٤ - تعد مصر أول دولة في العالم في إنشاء السكك الحديدية . ()
- ٥ - يتميز النقل المائى بالسرعة والانتشار . ()

د بم تفسر ؟ :

- ١ - ندرة الغابات الطبيعية في مصر .
- ٢ - أهمية ميناء الإسكندرية .

١٢ محافظة السويس | إدارة شمال التعليمية

أ أمامك خريطة صماء لمصر ، اكتب مدلول الأرقام :



- ١ - البحر
- ٢ - شبه جزيرة
- ٣ - فرع
- ٤ - بحيرة

ب اكتب ما تشير إليه العبارات الآتية :

- ١ - الموارد التى منحها الله للإنسان دون جهد من جانبه فى تكوينها . ()
- ٢ - تغيرات لبعض الموارد الطبيعية فتصبح غير صالحة للاستخدام البشرى . ()
- ٣ - انتقال السلع والخدمات من مكان لآخر . ()
- ٤ - زيادة الإنتاج الزراعى عن طريق التوسع الأفقى والرأسى . ()

ج اكتب كلمة (صح) أمام العبارة الصحيحة وكلمة (خطأ) أمام العبارة غير الصحيحة فيما يأتى :

- ١ - البطالمة هم خلفاء الإسكندر الأكبر فى مصر . ()
- ٢ - يستخدم المنجنيز فى صناعة الأسمدة الزراعية . ()
- ٣ - يعتبر النقل الجوى أرخص وسائل النقل . ()
- ٤ - احترام الرومان عقائد المصريين وشاركوهم فى حكم البلاد . ()
- ٥ - تسهم الصناعة فى حل مشكلة البطالة فى مصر . ()

د بم تفسر ؟ :

- ١ - صعوبة الصيد من البحر الأحمر .
- ٢ - رغبة بطلميوس الأول فى الانفراد بحكم مصر .

ه اكمل العبارات الآتية بكلمات مناسبة :

- ١ - من مصادر المياه العذبة فى مصر و
- ٢ - يعد بالإسكندرية أعلى نصب تذكارى فى العالم .
- ٣ - يوجد الفحم فى منطقة
- ٤ - من أمثلة الطاقة المتجددة و

ب لمن تنسب الأعمال الآتية ؟ :

- ١ - انتصر على أنطونيوس وحليفته كليوباترا السابعة فى معركة أكتيوم البحرية
٣١ ق.م . ()
- ٢ - أصدر مرسوم ميلان ٣١٣ م الذى ألغى العقوبات المفروضة على من يعتنق
المسيحية . ()



٢- يحتل الأرز المركز لصادرات مصر الزراعية .

٢- الكوميسا اتحاد اقتصادي يضم شرق وجنوب قارة

٤- أرخص وسائل النقل

استبدل كل عبارة بكلمة تدل على معناها :

١- ديانة سماوية نزلت على سيدنا عيسى عليه السلام .

٢- أهم ثورات المصريين ضد الرومان .

٣- معركة انتصر فيها أكتافيوس على كليوباترا السابعة .

٤- دار للعلم يدرس فيها الطالب العديد من التخصصات العلمية والأدبية .

بم تفسر ؟ :

١- اهتمام الرومان بإنشاء المسارح .

٢- تسمية الكنيسة المعلقة بهذا الاسم .

برهن تاريخياً على صحة العبارة : اهتمام بطلميوس الأول بالعلم .

من هو ؟ :

١- آخر الحكام البطالمة في مصر .

٢- كانت بداية حكمه نقطة تحول في تاريخ المسيحية .

٣- أول من بشر بالإنجيل في مصر .

٤- حمل لقب أغسطس قيصر .

اختر الإجابة الصحيحة من بين القوسين :

١- البطالمة هم خلفاء (بطلميوس الأول - الإسكندر الأكبر - أكتافيوس - يوليوس قيصر)

٢- من الآثار الرومانية في مصر

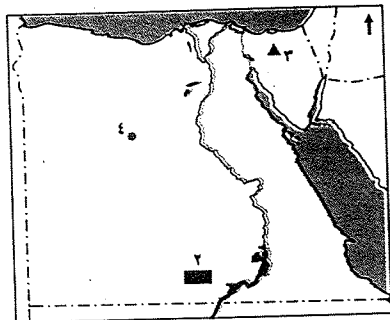
٣- عرف عصر الإمبراطور بعصر الشهداء .

٤- ولد السيد المسيح عليه السلام في مدينة بفلسطين .

(بيت لحم - الناصرة - القدس - الإسكندرية)

١٥ محافظة الفيوم إدارة شرق التعليمية

أمامك خريطة صماء لمصر ، اكتب مدلول الأرقام :



١- فرع

٢- مشروع

٣- منجم للفحم

٤- منطقة للحديد

بم تفسر ؟ :

١- صعوبة الصيد في البحر الأحمر .

٢- أهمية المياه العذبة في مصر .

١٥ إلى من تنسب الأعمال الآتية ؟ :

١- سك أول عملة معدنية في مصر .

٢- أول من بشر بالإنجيل في مصر .


رتب الأحداث الآتية من القديم إلى الحديث :

ثورة الرعاة - معركة أكتيوم البحرية - التقويم القبطي - ظهور المسيحية .

١٦ صنف الموارد المائية الآتية في الجدول التالي :

بحيرة قارون - بحيرة ناصر - الأمطار - البحر المتوسط

مياه عذبة	مياه مالحة
.....
.....



أمامك صورة لأثر روماني من خلال الصورة أجب عما يأتي :

١- ما اسم الأثر ؟

٢- أين يقع هذا الأثر في مصر ؟

٣- ما رأيك في الحكم الروماني ؟

١٤ محافظة الإسماعيلية إدارة التل الكبير التعليمية

أمامك خريطة صماء لمصر ، اكتب مدلول الأرقام :

١- مصدر للمياه المالحة

٢- منطقة لاستخراج الحديد

٣- مشروع زراعي

٤- منطقة لإنتاج الفحم

بم تفسر ؟ :

١- قلة الإنتاج السمكي بالبحر الأحمر .

٢- إنشاء ميناء دمياط .

ماذا يحدث إذا لم : يستخرج الفوسفات بكميات كبيرة في مصر ؟

١٧ اكتب كلمة (صح) أمام العبارة الصحيحة وكلمة (خطأ) أمام العبارة غير الصحيحة :

()

١- تعد الرياح من مصادر الطاقة المتجددة .

()

٢- تعد صناعة الحديد والصلب من الصناعات الاستخراجية .

()

٣- المياه المالحة لا تقل أهمية عن المياه العذبة في مصر .

()

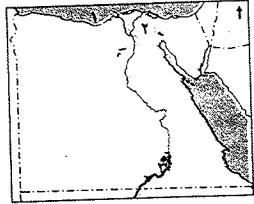
٤- تشمل الموارد الطبيعية في مصر النقل والمواصلات .

أكمل العبارات الآتية بكلمات مناسبة :

١- تقوم الزراعة في الساحل الشمالي على مياه



١٦ محافظة بنى سويف إدارة سمسما التعليمية



أ. أمامك خريطة صماء لمصر ، اكتب مدلول الأرقام :

- ١ - البحر
- ٢ - فرع
- ٣ - بحيرة

ب. اكتب ما تشير إليه كل عبارة من العبارات الآتية :

- ١ - معدن يستخدم في صناعة الحلى وبعض الأدوية . ()
- ٢ - ديانة سماوية دخلت مصر على يد القديس مرقس . ()

ج. اكتب كلمة (صح) أمام العبارة الصحيحة وكلمة (خطأ) أمام العبارة غير الصحيحة :

- ١ - يعتبر نهر النيل أهم مصادر المياه العذبة في مصر . ()
- ٢ - احترم الرومان المصريين وأشركوهم في حكم البلاد . ()
- ٣ - تعتبر مصر من أولى دول العالم استخداماً للسكك الحديدية . ()

د. لمن تنسب الأعمال الآتية ؟ :

- ١ - سك أول عملة معدنية في مصر . ()
- ٢ - إصدار مرسوم ميلان ٢١٢ م . ()

هـ. اختر الإجابة الصحيحة مما بين الأقواس فيما يلي :

- ١ - أكثر مصادر الطاقة تلويثاً للبيئة هو (البترول - الفحم - الغاز الطبيعي - الشمس)
- ٢ - من المقومات الطبيعية لقيام الصناعة (المال - وسائل النقل - السوق - مصادر الطاقة)
- ٣ - ولد السيد المسيح عليه السلام في بيت لحم بدولة (سوريا - فلسطين - لبنان - مصر)

و. بم تفسر ؟ :

- ١ - تسمية عصر دقلديانوس بعصر الاضطهاد .
- ٢ - أهمية المياه العذبة في مصر .

ز. أكمل العبارات الآتية بكلمات مناسبة :

- ١ - تزرع أراضى شرق العوينات اعتماداً على المياه
- ٢ - يعد بالإسكندرية أعلى نصب تذكاري في العالم .
- ٣ - حدثت معركة أكتيوم البحرية بين و عام ٣١ ق.م .
- ٤ - يعتبر الحديد أساس الحديثة .

ح. ما النتائج المترتبة على :

زيادة الصادرات المصرية ؟

أ. أكمل العبارات الآتية بكلمات مناسبة :

- ١ - المنجنيز عامل أساسى فى صناعة
- ٢ - تنقسم الصناعة إلى صناعة استخراجية وصناعة
- ٣ - المصدر الرئيس لمياه الشرب فى الواحات
- ٤ - أول دولة عربية أقامت مشروع مترو الأنفاق دولة

ب. ماذا يحدث إذا ؟ :

- ١ - لم يتم بناء السد العالى .
- ٢ - قام الإنسان بإلقاء مخلفات المصانع فى نهر النيل .

ج. اختر الإجابة الصحيحة مما بين الأقواس فيما يلي :

- ١ - يدخل الذهب فى صناعة (الأسمدة - الصلب - الحلى - السيارات)
- ٢ - أكبر مناطق استخراج البترول فى مصر (سيناء - خليج السويس - خليج العقبة - الدلتا)
- ٣ - البنزين والبولار من مشتقات (الفحم - الفوسفات - الغاز الطبيعي - البترول)
- ٤ - تقوم صناعة الأسمدة الزراعية على (الحديد - المنجنيز - الفوسفات - الذهب)
- ٥ - أكثر الموانئ المصرية أهمية (الإسكندرية - دمياط - سفاجا - القصير)

د. اكتب ما تشير إليه العبارة :

- ١ - تحويل المواد الخام إلى سلع ومنتجات لسد حاجة الإنسان . ()
- ٢ - تغيرات لبعض الموارد الطبيعية فتصبح غير صالحة للاستخدام البشرى . ()
- ٣ - الموارد التى منحها الله للإنسان دون جهد من جانبه . ()

هـ. اكتب كلمة (صح) أمام العبارة الصحيحة وكلمة (خطأ) أمام العبارة غير الصحيحة :

- ١ - نجح الإسكندر الأكبر فى تأسيس دولة البطالمة فى مصر . ()
- ٢ - كان حكم قسطنطين الأول نقطة تحول فى تاريخ المسيحية . ()
- ٣ - أقام الرومان المسرح الرومانى بالقاهرة . ()
- ٤ - ولد السيد المسيح عيسى عليه السلام فى عهد الإمبراطور الرومانى أغسطس . ()
- ٥ - دخلت المسيحية مصر على يد القديس باخوم . ()

و. ما النتائج المترتبة على ؟ :

- ١ - انتحار أنطونيوس وكليوباترا .
- ٢ - سوء معاملة الرومان للمصريين .